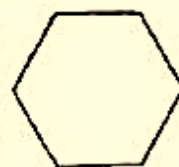
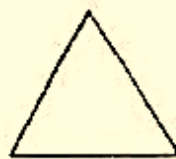



تاریخ: ۹.۱.۴ پایه: درج: موضوع: ریاضی

پشم عددهای دو رقم بنویس که رقم یکان آن ۳ و ۸ و رقم دهگان آن ها ۴ و ۱ و ۲ باشد. (از روش شاخه‌ای نظام‌دار)

با خط کش یک ۷ ضلع بکش و سمت چپ آن یک دایره و سمت راست آن یک مربع بکش.

اسم اشکال زیر را بنویس و تعداد گوشه‌ها و ضلع‌های آن‌ها را بنویس.



نام شکل:

نام شکل:

نام شکل:

نام شکل:

نام شکل:

تعداد ضلع:

تعداد ضلع:

تعداد ضلع:

تعداد ضلع:

تعداد ضلع:

تعداد گوشه:

تعداد گوشه:

تعداد گوشه:

تعداد گوشه:

تعداد گوشه:

تاریخ: پایه: درجه: موضوع: برپایه:
تابلوه‌های راحنیایی در ابتدای شبیه به کدام یک از شکل‌های هندسی است؟
نام آن‌ها را بنویس.

زمان‌های زیر را به صورت دیجیتال بنویس.

$07:10'' \Rightarrow$

$11:29'' \Rightarrow$

$09:30'' \Rightarrow$

$04:05'' \Rightarrow$

$09:48'' \Rightarrow$

$1:12'' \Rightarrow$

علی ساعت $07:35$ به مدرسه رفت. برنامه‌ی صبحگاه 15 دقیقه طول کشید. چه ساعتی برنامه‌ی صبحگاه به پایان رسیده است؟

آر عقرب‌ی کوچک ساعتی از 7 کم گذشته و عقرب‌ی بزرگ روی 7 باشد ساعت چند است؟ (روی ساعت نشان بده)