



# به نام خداوند گردان سپهر

تاریخ : هفته اول دی

نام و نام خانوادگی:

موضوع: آدینه ی سرو



۱- با استفاده از شابلون یک متوازی الاضلاع و یک مربع بکشید و شباهت ها و تفاوت های آن ها را بنویسید.

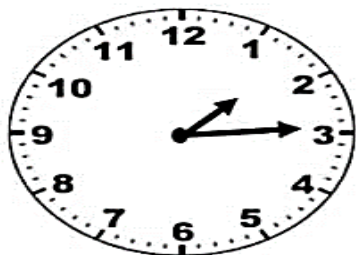
تفاوت : .....

.....


شباهت : .....

.....

۲- در هر قسمت ساعت را خوانده و به دو صورت بنویسید.

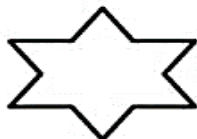


.....  
.....


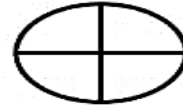
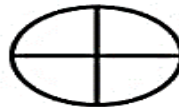
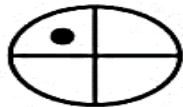
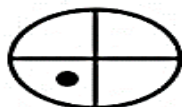


.....  
.....

۳- هر کدام از شکل های زیر را به ۴ قسمت مساوی تقسیم کنید.

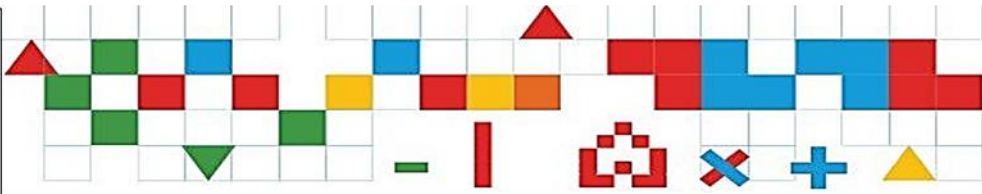


۴- الگوی شکلی زیر را ادامه دهید.





با مجوز رسمی از وزارت آموزش و پرورش  
و سازمان منطقه آزاد کیش



شکل های زیر را با هم مقایسه کنید.




تفاوت ها: .....

شباهت ها: .....


زمان های زیر را روی ساعت نشان دهید، سپس به صورت دیجیتال بنویسید.




۱۱:۳۵



۵:۰۵


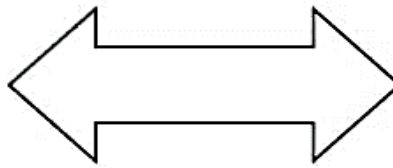
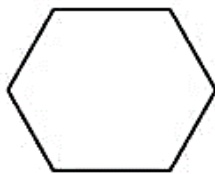


۳:۱۵

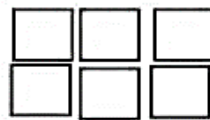
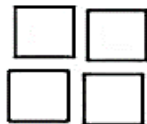


۶:۳۰

هر کدام از شکل های زیر را به ۴ قسمت مساوی تقسیم کنید.

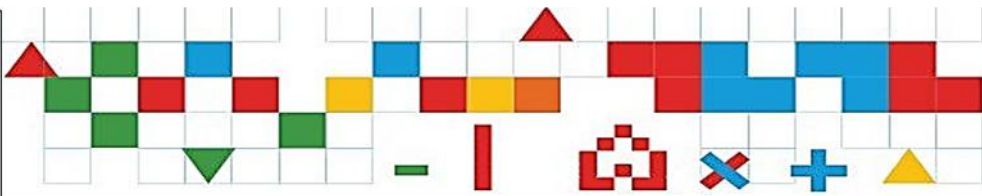


الگوی زیر را ادامه دهید.



.....

.....



۱ - کلمات زیر را با توجه به نشانه ی آخرشان دسته بندی کنید.

پرنده - شبیه - لانه - نگاه - سیاه - خسته - شاخه - راه - نگذشته - ساده

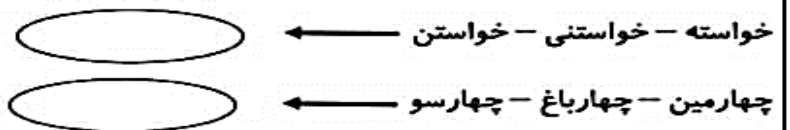
صدای (ه)	صدای (ا)

۲ - کلمه های مخالف را در شکل های شبیه هم بنویسید.

راست گو - رفت - مشکل - برنا - آمد - پیر - دروغ گو - آسان



۳ - در هر دسته کلمه ی مشترک را پیدا کنید.



۴ - جمله ها را مرتب کنید.

بیموزد - را - برادر - دو - او - به - آن ها - از - خواستند - دانایی

.....

گرفتند - یاد - بگیرند - تازه ای - کوشا - و - تصمیم - نوشا - چیزهای

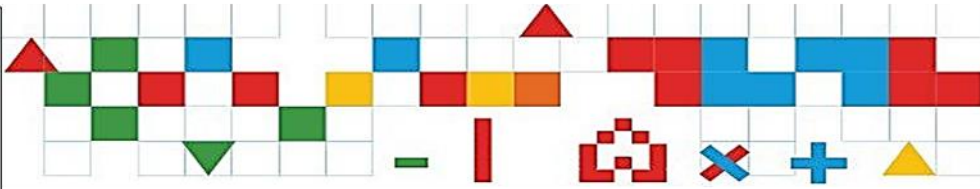
.....

- با هر دو کلمه ، یک جمله بسازید.

..... جنگل - زندگی :

..... پاکیزه - رسید :

..... خسته - نوشا :



- به وسیله ی شابلون اشکال زیر را رسم کرده و سپس خط های تقارن آن ها را بکشید.

دایره

مربع

متوازی الاضلاع

لوزی

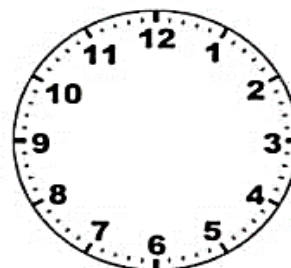
- زمان های زیر را روی ساعت نشان دهید.




۰۸:۱۲



۱۲:۱۵



۱۱:۳۰



۰۵:۱۴

- الگوهای زیر را ادامه دهید.

۴۳ - ۴۷ - ۵۱ - ..... - ..... - .....

۹۷ - ۹۲ - ۸۷ - ..... - ..... - .....

- برنامه ی درسی رضا : یک ساعت فارسی و یک ساعت علوم ، دو ساعت ریاضی بود. اگر کلاس ریاضی او ساعت

۰۸:۳۰ شروع شود در چه ساعتی به پایان می رسد؟ ( روی ساعت نشان دهید. )

- به کمک شابلون یک مربع و یک مستطیل بکشید و تفاوت و شباهت های آن ها را بنویسید.