



تاریخ تکلیف: ۱۴۰۲/۱۱/۱۵



نام و نام خانوادگی:

نام آزمون: ضرب پایه چهارم

۱ حاصل ضرب ۴۸۰×۷۵۰ چند رقم صفر دارد؟

۲ سپهر تصمیم گرفته روزی ۶ بیت از حافظ حفظ کند. او در ۳ ماه تابستان چند بیت حفظ می کند؟

$$\begin{array}{r} ۶ \square ۳ \\ \times \quad ۵ \\ \hline ۳۴۶ \bigcirc \end{array}$$

۳ مجموع دو رقم (\square و \bigcirc) در حاصل ضرب مقابل، کدام است؟

۴ اگر ربع صفحات یک کتاب ۴۸ صفحه شود، کل کتاب چند صفحه دارد؟

۵ یک کشاورز محصول گندم خود را در ۵۶ کیسه‌ی ۳۱ کیلویی جا داد. این کشاورز چند کیلوگرم گندم برداشت کرده است؟





۶ شایان ۱۷ سال دارد. سن عمومی شایان از ۳ برابر سن او ۲ سال بیشتر است. عمومی شایان چند سال دارد؟

۷ ستاره ۱۵ گیره مو که قیمت هر گیره ۷۵۰۰ تومان است، خرید و ۴۳۰۰ تومان از پولش باقی ماند. پول ستاره چقدر بوده است؟

۸ مخارج زندگی یک خانواده ماهیانه ۲,۴۰۰,۰۰۰ تومان است. مخارج زندگی آنها در دو سال چقدر است؟


۹ در هواپیمایی، ردیف‌ها از ۱ تا ۲۵ شماره‌گذاری شده‌اند؛ اما ردیف ۱۳ وجود ندارد. ردیف ۱۵ چهار صندلی مسافری دارد و بقیه ردیف‌ها هر کدام شش صندلی مسافری دارند. هواپیما کلاً چند صندلی مسافری دارد؟

۱۰ سارا در ماه مرداد، هر روز ۷ کیلومتر پیاده‌روی کرد. او در ماه مرداد چند کیلومتر پیاده‌روی کرده است؟

$$(12 \times 18) \times 4$$

۱۱ حاصل عبارت مقابل، کدام است؟

۱۲ یک سالن سینما ۳۲ ردیف ۱۸ تایی صندلی دارد. این سالن ظرفیت چند نفر را دارد؟



۱۳ * مادربزرگ ظرفی داشت که ۶۵۰ گرم مربا در آن بود. پسر بزرگش هر روز، ۵ قاشق چای خوری مربا از ظرف برمی‌داشت و می‌خورد. با هر قاشق چای خوری، ۶ گرم مربا از ظرف برداشته می‌شد. بعد از بیست روز چقدر مربا در ظرف باقی مانده است؟

۱۴ * $(10 \times 100) \times (20 \times 80)$ برابر است با:

۱۵ * امین دیروز ۱۰۹ صفحه از کتابش را خواند. او امروز دو برابر صفحات دیروز از کتاب را خواند. او دیروز و امروز چند صفحه از کتاب را خوانده است؟

