

نام و نام خانوادگی:

نام پدر:

تعداد صفحه سؤال: ۲ صفحه

جمهوری اسلامی ایران

اداره ی کل آموزش و پرورش شهر تهران

اداره ی آموزش و پرورش شهر تهران منطقه ۴ تهران

دبستان غیردولتی دخترانه سرای دانش واحد رسالت

جمع بندی پایان ترم دوم سال تحصیلی ۱۴۰۲ - ۱۴۰۱

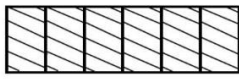
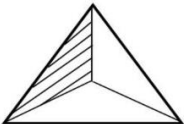
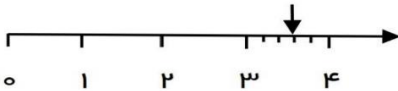
نام درس: ریاضی

نام دبیر: جهانگیر


تاریخ امتحان: ۱۴۰۲/۲/۳۰

ساعت امتحان: ۳۰ : ۰۷ صبح / عصر

مدت امتحان: ۹۰ دقیقه

محل مهر و امضاء مدیر	نمره به عدد:	نمره به حروف:																						
	نمره تجدید نظر به عدد:	نمره به حروف:																						
نام دبیر:	تاریخ و امضاء:	نام دبیر:																						
نام دبیر:	تاریخ و امضاء:	تاریخ و امضاء:																						
سؤالات	ردیف	ردیف																						
<p>جاهای خالی را با کلمات مناسب پر کنید.</p> <p>۲۱۶ میلی متر یعنی متر و سانتی متر.</p> <p>۷ کیلومتر یعنی متر (یا تا ۱۰۰ متر)</p> <p>۴۲۰۸ گرم یعنی کیلوگرم و گرم.</p> <p>مثلی که سه ضلع مساوی دارد..... نام دارد.</p> <p>ربع عدد ۲۴ می شود.....</p> <p>حاصل ضرب هر عدد در یک برابر است با</p> <p>شعاع قطر است.</p> <p>خط های یکدیگر را قطع نمی کنند.</p>	۱																							
<p>جدول های زیر را با اعداد مناسب پر کنید.</p> <div style="display: flex; align-items: center; justify-content: center;"> <table border="1" style="margin-right: 20px;"> <tr><td>۶۴</td></tr><tr><td></td></tr><tr><td></td></tr><tr><td></td></tr></table> $\xrightarrow{\div 8}$ <table border="1" style="margin-right: 20px;"> <tr><td></td></tr><tr><td></td></tr><tr><td>۷</td></tr><tr><td></td></tr></table> $\xrightarrow{+7}$ <table border="1"> <tr><td></td></tr><tr><td>۱۳</td></tr><tr><td></td></tr><tr><td>۱۰</td></tr></table> </div> <table border="1" style="margin-left: 20px;"> <tr> <td>زمان</td> <td>۲۳:۲۰</td> <td></td> <td>۱۸</td> <td></td> </tr> <tr> <td>بعد از ظهر</td> <td></td> <td>۹:۰۹</td> <td></td> <td>۲:۲۲</td> </tr> </table>	۶۴						۷			۱۳		۱۰	زمان	۲۳:۲۰		۱۸		بعد از ظهر		۹:۰۹		۲:۲۲	۲	
۶۴																								
۷																								
۱۳																								
۱۰																								
زمان	۲۳:۲۰		۱۸																					
بعد از ظهر		۹:۰۹		۲:۲۲																				
<p>با توجه به عدد داده شده به سوالات زیر پاسخ دهید.</p> <p>۵۹۰۸</p> <p>الف : عدد را در جدول ارزش مکانی قرار دهید.</p> <p>ب : گسترده ی عدد را بنویسید.</p> <p>ج : بزرگ ترین رقم دارای چه مرتبه ای است ؟</p> <p>د : کدام رقم دارای کمترین مرتبه است ؟</p>	۳																							
<p>کسر مربوط به هر شکل را بنویسید.</p> <div style="display: flex; justify-content: space-around; align-items: center;"> <div style="text-align: center;">  <p>.....</p> </div> <div style="text-align: center;">  <p>.....</p> </div> <div style="text-align: center;">  <p>.....</p> </div> </div>	۴																							

برای شکل های زیر عملیات های خواسته شده را بنویسید.



الف : جمع آن را بنویسید.

.....+.....+.....+.....+.....+.....+.....+.....=.....

ب : دو تساوی ضرب و دو تساوی تقسیم بنویسید.

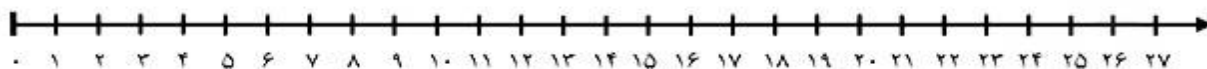
.....×.....=.....

.....÷.....=.....

.....×.....=.....

.....÷.....=.....

ج : تساوی ضرب را روی محور نشان بده.



۵

حاصل جمع و تفریق زیر را بنویسید.

$$\begin{array}{r} 4652 \\ + 3247 \\ \hline \end{array}$$



$$\begin{array}{r} 5802 \\ - 2369 \\ \hline \end{array}$$



۶

مقایسه کنید و علامت <=> بگذارید.

$\frac{2}{5} \bigcirc \frac{4}{5}$



$2000 + 2500 \bigcirc 1500 + 3000$



$\frac{1}{6} \bigcirc \frac{1}{4}$

۷

$4 \times 1 \bigcirc 8 \times 0$



$\text{نصف} \bigcirc \text{نیم}$



$24 \div 4 \bigcirc 15 \div 3$



$30 \times 30 \bigcirc 60 \times 10$

باغچه ای مستطیل شکل به طول ۸ متر و عرض ۴ متر و باغچه ای مربع شکل به ضلع ۶ متر داریم. می خواهیم

دور تا دور آن ها را نرده بکشیم. برای دور آن ها به چند متر نرده نیاز داریم ؟

۸



اداره ی کل آموزش و پرورش شهر تهران
 اداره ی آموزش و پرورش شهر تهران منطقه ۴ تهران
 دبستان غیر دولتی دخترانه سرای دانش واحد رسالت
کلید سوالات جمع بندی پایان ترم دوم سال تحصیلی ۱۴۰۲ - ۱۴۰۱

نام درس: ریاضی
 نام دبیره: جهانبگیر
 تاریخ امتحان: ۱۴۰۲/۲/۳۰
 ساعت امتحان: ۷:۳۰ صبح / عصر
 مدت امتحان: ۹۰ دقیقه

ردیف	راهنمای تصحیح	محل مهر یا امضاء مدیر																								
۱	<p>۲ متر و ۱۶ سانتی متر ۷۰۰۰ متری یا ۷۰ تا ۱۰۰ متر ۴ کیلو گرم و ۲۰۸ گرم متساوی الاضلاع ۶ خود عدد نصف موازی</p>																									
۲	<table border="1"> <tr> <td>زمان</td> <td>۲۳:۲۰</td> <td>۲۱:۰۹</td> <td>۱۸</td> <td>۱۴:۲۲</td> </tr> <tr> <td>بعدازظهر</td> <td>۱۱:۲۰</td> <td>۹:۰۹</td> <td>۶</td> <td>۲:۲۲</td> </tr> </table>	زمان	۲۳:۲۰	۲۱:۰۹	۱۸	۱۴:۲۲	بعدازظهر	۱۱:۲۰	۹:۰۹	۶	۲:۲۲	<table border="1"> <tr> <td>۶۴</td> <td rowspan="4"> $\div 8 \rightarrow$ </td> <td>۸</td> <td rowspan="4"> $+7 \rightarrow$ </td> <td>۱۵</td> </tr> <tr> <td>۴۸</td> <td>۶</td> <td>۱۳</td> </tr> <tr> <td>۵۶</td> <td>۷</td> <td>۱۴</td> </tr> <tr> <td>۲۴</td> <td>۳</td> <td>۱۰</td> </tr> </table>	۶۴	$\div 8 \rightarrow$	۸	$+7 \rightarrow$	۱۵	۴۸	۶	۱۳	۵۶	۷	۱۴	۲۴	۳	۱۰
زمان	۲۳:۲۰	۲۱:۰۹	۱۸	۱۴:۲۲																						
بعدازظهر	۱۱:۲۰	۹:۰۹	۶	۲:۲۲																						
۶۴	$\div 8 \rightarrow$	۸	$+7 \rightarrow$	۱۵																						
۴۸		۶		۱۳																						
۵۶		۷		۱۴																						
۲۴		۳		۱۰																						
۳	<p>الف : ب : $۵۰۰۰+۹۰۰+۸$ ج : صدگان د : ۸</p>	<table border="1"> <tr> <td>یکان</td> <td>دهگان</td> <td>صدگان</td> <td>هزارگان</td> </tr> <tr> <td>۸</td> <td>۰</td> <td>۹</td> <td>۵</td> </tr> </table>	یکان	دهگان	صدگان	هزارگان	۸	۰	۹	۵																
یکان	دهگان	صدگان	هزارگان																							
۸	۰	۹	۵																							
۴	<p>$\frac{3}{5}$ و ۳</p>	<p>$\frac{6}{6} = 1$</p> <p>$\frac{1}{3}$</p>																								
۵	<p>الف : $۳+۳+۳+۳+۳+۳+۳+۳=۲۴$ ب : $۸ \times ۳ = ۲۴$ $۲۴ \div ۳ = ۸$ $۳ \times ۸ = ۲۴$ $۲۴ \div ۸ = ۳$</p>																									

$$\begin{array}{r} 236 \\ \times 4 \\ \hline 800 \\ + 120 \\ + 24 \\ \hline 944 \end{array}$$

$$\begin{array}{r} 582 \\ - 2369 \\ \hline 3433 \end{array}$$

6

$\frac{2}{5} < \frac{4}{5}$ ♥ $2000 + 2500 = 1500 + 3000$ ♥ $\frac{1}{6} < \frac{1}{4}$
 $4 \times 1 > 8 \times 0$ ♥ نصف = نیم ♥ $24 \div 4 > 15 \div 3$ ♥ $30 \times 30 > 60 \times 10$

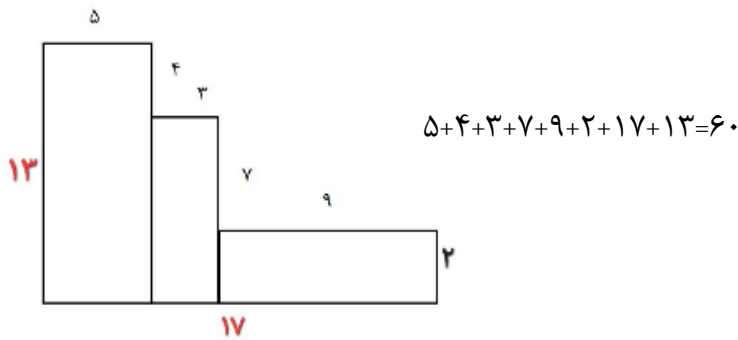
7

$16 + 8 = 23$ $4 \times 2 = 8$ $2 \times 8 = 16$
 31 متر نرده نیاز داریم $23 + 8 = 31$ $4 \times 6 = 8$

8

$2 \times 2 = 4$ $18 \div 2 = 9$ $3 \times 6 = 18$
 $9 + 4 = 13$

9

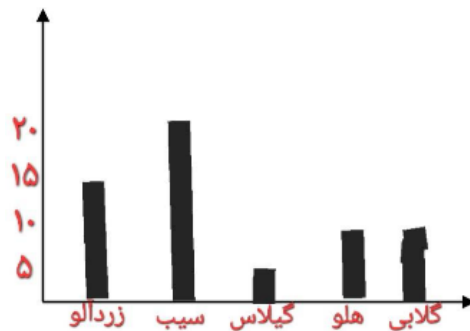


10

درخت	زردآلو	سیب	گیلاس	هلو	کلابی
تعداد	15	20	5	10	10



هر قسمت = 5 درخت



11

$$\begin{array}{r} 236 \\ \times 4 \\ \hline 800 \\ + 120 \\ + 24 \\ \hline 944 \end{array}$$

$$\begin{array}{r} 32 \\ - 30 \\ \hline 02 \end{array} \quad \begin{array}{r} 6 \\ 5 \end{array}$$

12

$900 \div 3 = 300$ تومان قیمت هر آبمیوه $4500 - 3600 = 900$ $900 \times 4 = 3600$ 13
 3000 ریال