
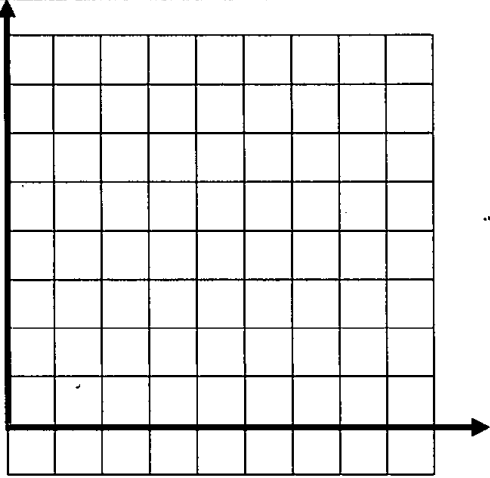



نام درس: ریاضی نام و نام خانوادگی:		سری: الف صفحه: ۱	نام پدر: پایه: ششم شماره دانش آموزی:
نام آموزشگاه: تاریخ آزمون: ۱۴۰۲/۰۲/۲۰ مدت آزمون: ۷۰ دقیقه	اداره کل آموزش و پرورش استان هرمزگان مدیریت آموزش و پرورش منطقه بندرلنگه معاونت آموزش ابتدایی		

بازخورد	سؤالات													
	الف) درستی یا نادرستی عبارتهای زیر را مشخص کنید. اگر مقسوم و مقسوم علیه را در یک عدد ضرب کنیم خارج قسمت تغییر می کند.	درست <input type="checkbox"/> نادرست <input type="checkbox"/>												
	عمود منصف خطی است که از وسط پاره خط بگذرد و بر آن عمود باشد.	درست <input type="checkbox"/> نادرست <input type="checkbox"/>												
	مکمل زاویه‌ی ۷۰ درجه، ۲۰ درجه است.	درست <input type="checkbox"/> نادرست <input type="checkbox"/>												
	$\frac{1}{4}$ همان $\frac{1}{25}$ است.	درست <input type="checkbox"/> نادرست <input type="checkbox"/>												
	گزینه‌ی مناسب مربوط به هر سؤال را انتخاب کنید. کدام یک از عددهای زیر از نصف کمتر است؟	الف) <input type="checkbox"/> ۰/۶۵ ب) <input type="checkbox"/> ۰/۱۵۰ پ) <input type="checkbox"/> ۰/۱۸ ت) <input type="checkbox"/> ۰/۵۳												
	کدام یک واحد اندازه‌گیری سطح است؟	الف) مترمکعب <input type="checkbox"/> ب) سانتی‌متر <input type="checkbox"/> پ) هکتار <input type="checkbox"/> ت) کیلومتر <input type="checkbox"/>												
	معکوس کدام عدد برابر با خودش است؟	الف) <input type="checkbox"/> ۱ ب) <input type="checkbox"/> $\frac{2}{5}$ پ) <input type="checkbox"/> $\frac{7}{3}$ ت) <input type="checkbox"/> $2\frac{1}{4}$												
	مقدار تقریبی اعداد داخل جدول را با تقریب خواسته شده به دو روش بنویسید.	<table border="1" style="width: 100%; border-collapse: collapse;"> <thead> <tr> <th style="width: 25%;">گرد کردن</th> <th style="width: 25%;">قطع کردن</th> <th style="width: 25%;">با تقریب</th> <th style="width: 25%;">عدد</th> </tr> </thead> <tbody> <tr> <td style="height: 20px;"></td> <td style="height: 20px;"></td> <td style="text-align: center;">کمتر از ۰/۱</td> <td style="text-align: center;">۸۷/۴۵۹</td> </tr> <tr> <td style="height: 20px;"></td> <td style="height: 20px;"></td> <td style="text-align: center;">کمتر از ۱۰۰</td> <td style="text-align: center;">۹۸۰۹/۷</td> </tr> </tbody> </table>	گرد کردن	قطع کردن	با تقریب	عدد			کمتر از ۰/۱	۸۷/۴۵۹			کمتر از ۱۰۰	۹۸۰۹/۷
گرد کردن	قطع کردن	با تقریب	عدد											
		کمتر از ۰/۱	۸۷/۴۵۹											
		کمتر از ۱۰۰	۹۸۰۹/۷											
	یک کتاب پس از ۲۰ درصد تخفیف، با قیمت ۴۸۰۰۰ تومان به فروش می‌رسد.													
	الف) قیمت اصلی کتاب چقدر بوده است؟													
	ب) مقدار تخفیف چقدر بوده است؟													

	نام درس: ریاضی نام و نام خانوادگی: نام پدر: پایه: ششم شماره دانش آموزی:
سری: الف صفحه: ۲	اداره کل آموزش و پرورش استان هرمزگان مدیریت آموزش و پرورش منطقه بندرلنگه معاونت آموزش ابتدایی
نام آموزشگاه: تاریخ آزمون: ۱۴۰۲/۰۲/۲۰ مدت آزمون: ۷۰ دقیقه	

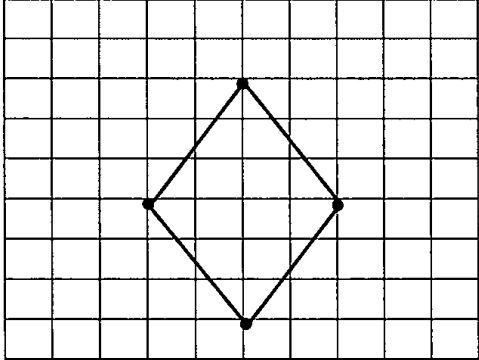
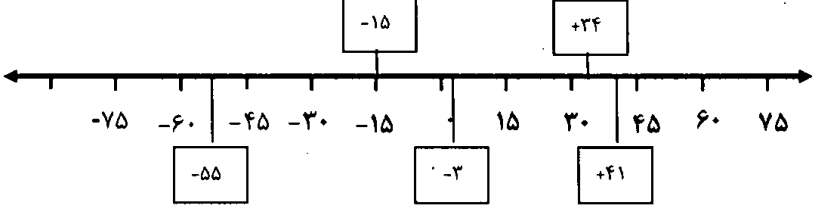

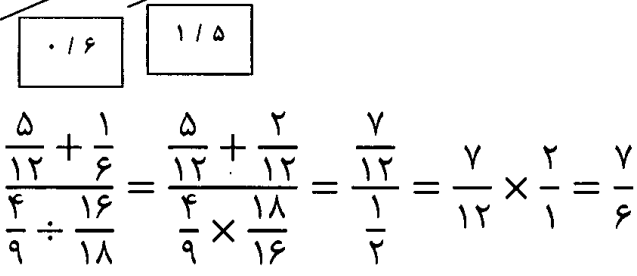
بازخورد	سوالات	رتبه
	<p>۶۰ درصد شکل مقابل را رنگ کنید.</p> 	۱۰
	<p>مختصات یک چهار ضلعی عبارتند از:</p> $\begin{bmatrix} ۳ \\ ۴ \end{bmatrix}, \begin{bmatrix} ۵ \\ ۷ \end{bmatrix}, \begin{bmatrix} ۵ \\ ۱۱ \end{bmatrix}, \begin{bmatrix} ۷ \\ ۴ \end{bmatrix}$ <p>الف) چهار ضلعی را رسم و نوع آن را مشخص کنید. ب) مساحت چهار ضلعی را به دست آورید.</p> 	۱۱
	<p>هر یک از اعداد زیر را روی محور به صورت تقریبی روی محور نشان دهید.</p> <p>-۵۵ و $+۴۱$ و -۱۵ و -۳ و $+۳۴$</p> 	۱۲
	<p>محمد از انتهای صف نفر هشتم و از ابتدای صف نفر دهم است تعداد کل اعضای صف زوج است یا فرد؟ (می‌توانید از کشیدن شکل کمک بگیرید).</p>	۱۳

	نام درس: ریاضی نام و نام خانوادگی: نام پدر: پایه: ششم شماره دانش آموزی:	سری: الف صفحه: ۳
اداره کل آموزش و پرورش استان هرمزگان مدیریت آموزش و پرورش منطقه بندرلنگه معاونت آموزش ابتدایی	نام آموزشگاه: تاریخ آزمون: ۱۴۰۲/۰۲/۲۰ مدت آزمون: ۷۰ دقیقه	

ردیف	سوالات	بازخورد
۱۴	<p>حاصل عبارت‌های زیر را به ساده‌ترین صورت ممکن دست آورید.</p> $4/2 \div 7 + 3 \times 0/5 =$ $\frac{5}{12} + \frac{1}{6} =$ $\frac{4}{9} \div \frac{16}{18}$	
۱۵	<p>طول عرض و ارتفاع حوضچه‌ای به ترتیب ۶، ۵ و ۲ متر است. الف) حجم این استخر را به دست آورید. ب) چند لیتر آب برای پر کردن این حوضچه لازم است؟</p>	
۱۶	<p>برای واکسینه کردن هر گوسفند به ۰/۱۳ سی‌سی واکسن نیاز داریم. اگر ۷/۲۸ سی‌سی واکسن داشته باشیم می‌توانیم چند گوسفند را با آن واکسینه کنیم؟</p>	
فرزند کوشای ایران، موفق باشی.		



ردیف	پاسخنامه												
۱	نادرست												
۲	درست												
۳	نادرست												
۴	درست												
۵	ب												
۶	ج												
۷	الف												
۸	<table border="1" style="margin-left: auto; margin-right: auto;"> <thead> <tr> <th>گرد کردن</th> <th>قطع کردن</th> <th>با تقریب</th> <th>عدد</th> </tr> </thead> <tbody> <tr> <td>۸۷/۵</td> <td>۸۷/۴</td> <td>کمتر از ۰/۱</td> <td>۸۷/۴۵۹</td> </tr> <tr> <td>۹۸۰۰</td> <td>۹۸۰۰</td> <td>کمتر از ۱۰۰</td> <td>۹۸۰۹/۷</td> </tr> </tbody> </table>	گرد کردن	قطع کردن	با تقریب	عدد	۸۷/۵	۸۷/۴	کمتر از ۰/۱	۸۷/۴۵۹	۹۸۰۰	۹۸۰۰	کمتر از ۱۰۰	۹۸۰۹/۷
گرد کردن	قطع کردن	با تقریب	عدد										
۸۷/۵	۸۷/۴	کمتر از ۰/۱	۸۷/۴۵۹										
۹۸۰۰	۹۸۰۰	کمتر از ۱۰۰	۹۸۰۹/۷										
۹	<p>الف) ۶۰۰۰۰ ب) ۱۲۰۰۰</p> <table border="1" style="margin-left: auto; margin-right: auto;"> <tbody> <tr> <td>قیمت اصلی</td> <td>۶۰۰۰</td> <td>۱۰۰</td> </tr> <tr> <td>تخفیف</td> <td>۱۲۰۰۰</td> <td>۲۰</td> </tr> <tr> <td>قیمت بعد از تخفیف</td> <td>۴۸۰۰۰</td> <td>۸۰</td> </tr> </tbody> </table>	قیمت اصلی	۶۰۰۰	۱۰۰	تخفیف	۱۲۰۰۰	۲۰	قیمت بعد از تخفیف	۴۸۰۰۰	۸۰			
قیمت اصلی	۶۰۰۰	۱۰۰											
تخفیف	۱۲۰۰۰	۲۰											
قیمت بعد از تخفیف	۴۸۰۰۰	۸۰											
۱۰	<p>سه قسمت از پنج قسمت باید رنگ شود.</p> $\frac{۳}{۵} = \frac{۶۰}{۱۰۰}$												
ادامه در صفحه دوم													

بازخورد	پاسخ نامه	شماره سوال
	$4 \times 6 = 24 \div 2 = 12$ (الف) لوزی (ب)	۱۱
		
		۱۲
	فرد - کل افراد: ۱۷ نفر	۱۳
		
	$\frac{4}{9} \div \frac{7}{18} + 3 \times \frac{1}{5} = \frac{2}{1}$ 	۱۴

	پاسخنامه و کلید سؤالات
اداره کل آموزش و پرورش استان هرمزگان مدیریت آموزش و پرورش منطقه بندرلنگه معاونت آموزش ابتدایی	نام درس: ریاضی پایه: ششم
سری: الف صفحه: ۳	تاریخ آزمون: ۱۴۰۲/۰۲/۲۰

بازخورد	سؤالات	نمره
	الف) $۲ \times ۵ \times ۶ = ۶۰$ مترمکعب ب) $۶۰ \times ۱۰۰۰ = ۶۰۰۰$ یا استفاده از جدول تناسب	۱۵
	<div style="text-align: right; margin-right: 100px;"> $\begin{array}{r} ۷۲۸ \quad ۱۳ \\ \hline -۶۵۰ \quad ۵۶ \\ \hline ۷۸ \\ -۷۸ \\ \hline ۰۰ \end{array}$ </div> <div style="border: 1px solid black; padding: 5px; width: fit-content; margin: 0 auto;"> مقسوم و مقسوم علیه در ۱۰۰ ضرب می‌شوند </div>	۱۶
خداقوت		