

علوم دوم دبستان - طراحی، **زنگ علوم** - ۱۰ سوال -



۲۱- در تصویر زیر، دانش‌آموزان مشغول انجام چه فعالیتی هستند؟

(۲) آزمایش کردن

(۱) مشاهده

(۴) گزینه‌های «۱» و «۳»

(۳) یادداشت‌برداری

آزمون ۲۰ مهر

۲۲- فرض کنید مادر شما چند نوع خوراکی آماده کرده است و پدرتان که در محل کارش است از شما می‌خواهد

گزارشی از خوراکی‌ها بنویسید و برای او بفرستید. با چشمان بسته بیش‌ترین حس به‌کار برده شده کدام خواهد بود؟

(۲) بینایی

(۱) بویایی

(۴) شنوایی

(۳) چشایی

آزمون ۲۰ مهر

۲۳- کدام یک بلافاصله پس از مشاهده و یادداشت‌برداری انجام می‌شود؟

(۲) آزمایش کردن



(۱) نتیجه‌گیری کردن

(۴) مقایسه کردن

(۳) گفت‌وگو کردن



آزمون ۲۰ مهر

۲۴- چشیدن طعم کدام یک، برای سلامتی ضرر دارد؟



آزمون ۲۰ مهر

۲۵- حس بویایی برای تشخیص کدام یک نقشی ندارد؟



آزمون ۲۰ مهر

۲۶- امیر می خواهد درباره ی یک برگ گزارش تهیه کند، در ابتدا کدام کار را باید انجام دهد؟

(۱) یادداشت برداری

(۲) بررسی برگ با ذره بین

(۳) گفت و گو

(۴) ارائه ی گزارش

آزمون ۲۰ مهر

۲۷- کدام یک به هدف دانش آموزان از یادداشت برداری اشاره دارد؟

(۱) بی نیاز شدن از انجام مشاهدات اولیه

(۲) برنامه ریزی قبل از مشاهده

(۳) سرگرمی

(۴) بیان دقیق مشاهدات

آزمون ۲۰ مهر

۲۸- دانش‌آموزان در گردش‌های علمی مشغول چه کاری می‌باشند؟

(۲) شنیدن صداها

(۱) بررسی نرمی یا زبری برگ‌ها

(۴) همه‌ی موارد

(۳) مشاهده‌ی رفتار موجودات زنده

آزمون ۲۰ مهر

۲۹- برای دریافت زبری یا نرمی پارچه از کدام حس استفاده می‌شود؟

(۲) شنوایی

(۱) لامسه

(۴) بویایی

(۳) چشایی

آزمون ۲۰ مهر

۳۰- کدام اندام برای حس چشایی اختصاص یافته است؟

(۴) زبان

(۳) پوست

(۲) بینی

(۱) چشم



آزمون ۲۰ مهر