


ریاضی دوم دبستان - طراحی، عدد و شمارش - سوال ۳ -

۱- شکل زیر چه عددی را نشان می‌دهد؟



۴ (۱)


۷ (۲)

۵ (۳)


۶ (۴)

آزمون ۲۰ مهر


۲- تعداد چوب‌خطها و عدد کدام دسته درست است؟



(۴)



(۳)



(۲)



(۱)

آزمون ۲۰ مهر

۳- کدام مقایسه بین اعداد صحیح است؟

۶ < ۹ (۲)

۸ < ۲ (۱)

۴ = ۳ (۴)

۶ < ۵ (۳)

آزمون ۲۰ مهر

ریاضی دوم دبستان - طراحی، دسته های ده تایی و یکی - سوال ۴ -

۴- من چه عددی هستم؟

«یکان من بزرگ‌ترین عدد یک رقمی و دهگانم ۲ تا کم‌تر از یکانم است.»


۹۷ (۲)

۸۶ (۱)

۱۰ (۴)

۷۹ (۳)

۵- شکل زیر چه عددی را نشان می‌دهد؟



۳۲ (۱)

۲۳ (۲)

۳۳ (۳)

۲۲ (۴)

۶- کدام گزینه در رابطه با یکان و دهگان اطلاعات درستی به ما نمی‌دهد؟

(۲) عدد ۱۵: یکان ← ۱ / دهگان ← ۵

(۱) عدد ۵۳: یکان ← ۳ / دهگان ← ۵

(۴) عدد ۴۹: یکان ← ۹ / دهگان ← ۴

(۳) عدد ۷۰: یکان ← ۰ / دهگان ← ۷

۸- عددی دو رقمی که دهگان آن ۸ و رقم یکان آن ۳ تا کم‌تر از دهگان باشد، کدام است؟

(۲) هشتاد و شش

(۱) پنجاه و هشت

(۴) هشتاد و سه

(۳) هشتاد و پنج

ریاضی دوم دبستان - طراحی ، **حل مسئله** - ۲ سوال -

۹- در کارتنی ۲۸ هلو و سیب قرار دارد. ۵ تا از میوه‌ها سیب و بقیه هلو هستند. در کارتن چند هلو قرار دارد؟

(۲) ۱۲

(۱) ۱۳

(۴) ۱۴

(۳) ۱۱

۱۰- امروز نهم ماه است. ۷ روز بعد، چه روزی از ماه است؟

(۲) ۱۷




(۱) ۱۵

(۴) ۱۴

(۳) ۱۶

ریاضی دوم دبستان - طراحی ، **رسم شکل** - ۱ سوال -

۷- در جدول شگفت‌انگیز زیر به جای  $\square$  و  $\bigcirc$  به ترتیب از راست به چپ، کدام گزینه باید قرار بگیرد؟



آزمون ۲۰ مهر

ریاضی دوم دبستان - آشنا ، عدد و شمارش - ۵ سوال -

۱۳- عددهای کدام گزینه به ترتیب عددهای ۸ - ۹ - ۶ - ۵ را نشان می‌دهد؟

(۲) ۵ - ۹ - ۶ - ۸

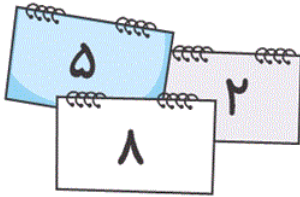
(۱) ۵ - ۶ - ۹ - ۸

(۴) ۴ - ۶ - ۹ - ۷

(۳) ۴ - ۹ - ۶ - ۷

آزمون ۲۰ مهر

۱۴- با کارت‌های زیر، چند عدد دو رقمی می‌توان نوشت؟



(۲) ۶

(۱) ۳

(۴) ۹

(۳) ۴

آزمون ۲۰ مهر

۱۶- اگر اعداد ۱ تا ۱۳ را یک‌بار از اول به آخر در یک ردیف و بار دیگر از آخر به اول، زیر آن ردیف (به صورت

ردیفی) بنویسیم، در این صورت کدام عدد در زیر خودش قرار می‌گیرد؟

(۲) ۷

(۱) ۶

(۴) هیچ عدد

(۳) ۹

آزمون ۲۰ مهر

۱۸- امروز جمعه هفدهم آبان ماه است. هشت روز قبل چه روزی از ماه است؟

(۲) چهارشنبه - دهم آبان

(۱) سه‌شنبه - نهم آبان

(۴) جمعه - دهم آبان

(۳) پنج‌شنبه - نهم آبان

آزمون ۲۰ مهر

۱۹- چند عدد دو رقمی می توان نوشت که مجموع رقم هایش ۱۴ شود؟

$$\square + \square = 14$$

۶ (۱)

۵ (۲)

۴ (۳)

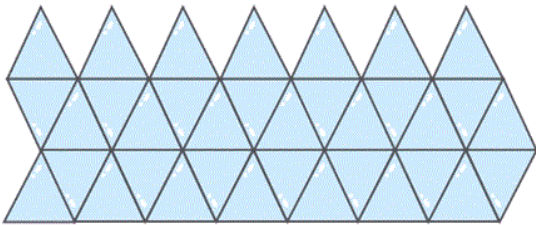
۳ (۴)

آزمون ۲۰ مهر

ریاضی دوم دبستان - آشنا ، دسته های ده تایی و یکی - سوال ۴ -

۲۰- تعداد مثلث های کوچک شکل زیر را شمارش کنید. بعد از شمارش آخرین مثلث، عدد هفتم بعد از آن در

شمارش یکی یکی، کدام یک از گزینه های زیر می شود؟



۴۲ (۱)

۴۶ (۲)

۳۴ (۳)

۳۶ (۴)

آزمون ۲۰ مهر

۱۷- چند عدد دو رقمی با رقم های ۳، ۵ و ۷ می توان نوشت که رقم دهگان کوچک تر از رقم یکان باشد؟

۳ (۲)

۴ (۱)

۱ (۴)

۲ (۳)

آزمون ۲۰ مهر

۱۱- عددی دو رقمی هستیم که رقم یکانم یکی کم تر از ۵ و رقم دهگانم ۴ تا بیش تر از یکانم است. من چه عددی هستم؟

(۲) هشتاد و چهار

(۱) نود و پنج

(۴) هشتاد و پنج

(۳) نود و چهار

آزمون ۲۰ مهر

۱۲- مجید هر مربع آبی را یک بسته‌ی ده‌تایی و هر مربع زرد را یک بسته‌ی دوتایی در نظر گرفت. او عدد ۲۴ را به

چه صورت می‌تواند نمایش دهد؟ ز:  آ:

(۲)

(۱)

(۴)

(۳)

آزمون ۲۰ مهر

ریاضی دوم دبستان - آشنا ، حل مسئله - ۱ سوال -

۱۵- اگر امروز ۳۰ آمین روز تیرماه باشد، ۷ روز دیگر چه تاریخی می‌شود؟ (ماه تیر، ۳۱ روز دارد.)

(۲) ۶ مرداد ماه

(۱) ۷ مرداد ماه

(۴) ۶ شهریور ماه

(۳) ۷ شهریور ماه

آزمون ۲۰ مهر