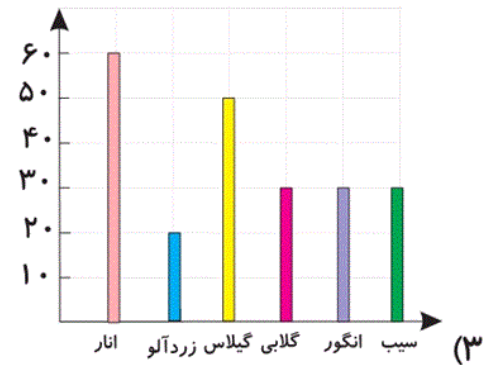
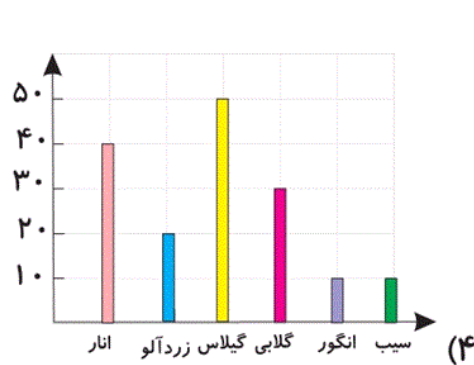
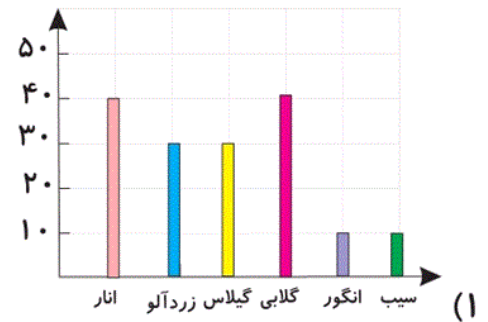
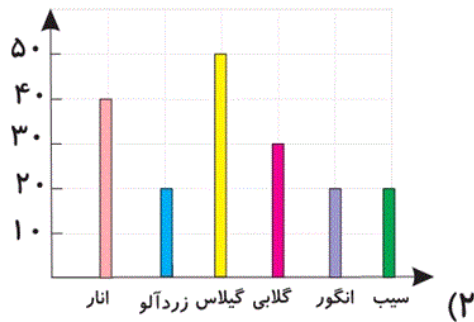


**۶۳-** پدر محسن کشاورز است. آن‌ها میزان فروش محصولات خود را در یک جدول تنظیم کرده‌اند. کدام گزینه نمودار

ستونی مناسب این جدول را نمایش می‌دهد؟

انار	زردآلو	گیلاس	گلابی	انگور	سیب	نوع میوه
۴۰	۲۰	۵۰	۳۰	۱۰	۱۰	(جرم) کیلوگرم



آزمون ۲۰ مهر

**۶۶-** کدام یک برای نتیجه‌گیری درست و اصولی در تحقیق و مرتب کردن اطلاعات انجام می‌شود؟

(۱) رسم جدول و مقایسه کردن اطلاعات

(۲) مشاهده کردن

(۳) جمع‌آوری اطلاعات

(۴) آزمایش کردن

آزمون ۲۰ مهر

۶۷- زهرا و مریم با مشاهده‌ی غذای متفاوت دوستان خود می‌خواهند بدانند غذای مورد علاقه‌ی سایر دوستانشان چیست.

اولین کاری که باید انجام دهند کدام است؟

(۲) طرح پرسش

(۱) مشاهده

(۴) نتیجه‌گیری

(۳) مصاحبه

آزمون ۲۰ مهر

علوم پیشرفته، خوراکی‌ها - ۷ سوال -

۶۸- کدام یک از موارد زیر، در گروه متفاوتی از مواد غذایی نسبت به سایرین قرار می‌گیرد؟

(۲) دوغ ترش

(۱) پنیر محلی

(۴) ماست

(۳) روغن آفتاب‌گردان

آزمون ۲۰ مهر

۶۹- برای تأمین نیازهای بدن، کدام یک پیشنهاد می‌شود؟

(۲) غذاهای متنوع بخوریم.

(۱) میوه یا سبزی نخوریم.

(۴) همیشه یک نوع غذا بخوریم.

(۳) زیاد غذا بخوریم.

آزمون ۲۰ مهر

۷۰- زهرا می‌خواهد درباره‌ی بشقاب سلامت اطلاعاتی را جمع‌آوری کند. از چه کسی بهتر می‌تواند کمک بگیرد؟

(۲) مدیر

(۱) معلم

(۴) مهندس

(۳) متخصص تغذیه

آزمون ۲۰ مهر


۶۴- به ترتیب از راست به چپ، بستنی و هویج در کدام گروه مواد غذایی قرار می‌گیرند؟

(۱) شیر و لبنیات - میوه‌ها و سبزی‌ها

(۲) شیر و لبنیات - چربی‌ها

(۳) چربی‌ها - میوه‌ها و سبزی‌ها

(۴) گوشت‌ها، تخم‌مرغ و حبوبات - شیر و لبنیات



آزمون ۲۰ مهر

۶۵- مواد غذایی بر اساس کتاب درسی به چند گروه تقسیم می‌شوند؟

۴ (۲)

۳ (۱)

۶ (۴)

۵ (۳)

آزمون ۲۰ مهر

۶۱- پنیر در کدام گروه مواد غذایی قرار می‌گیرد؟

(۲) غلات و سیب‌زمینی

(۱) گوشت‌ها، تخم‌مرغ و حبوبات

(۴) شیر و لبنیات

(۳) چربی‌ها

آزمون ۲۰ مهر

۶۲- در یک بشقاب سلامت، بیشترین سهم در میان مواد غذایی، برای کدام گروه است؟

(۲) گروه غلات و سیب‌زمینی

(۱) گروه شیر و لبنیات

(۴) گروه میوه‌ها و سبزی‌ها

(۳) گروه گوشت و حبوبات

آزمون ۲۰ مهر