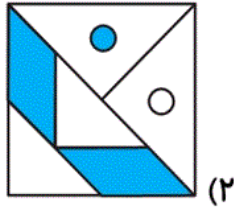
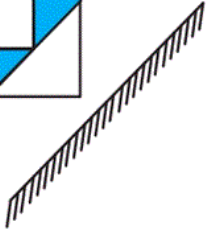
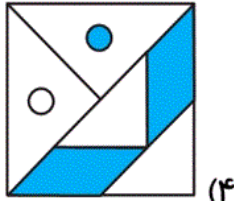


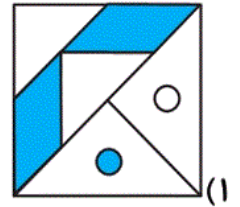
۹۶- تصویر شکل روبه‌رو در آینه داده شده در کدام گزینه به‌درستی آمده است؟



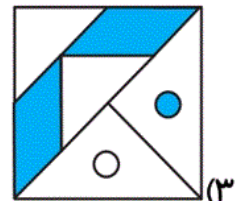
(۲)



(۴)



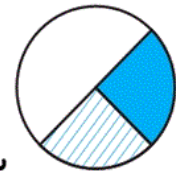
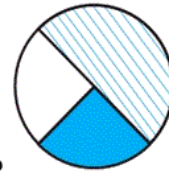
(۱)



(۳)

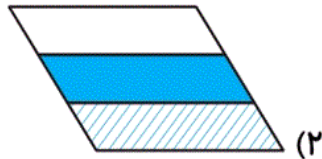
آزمون ۲۰ مهر

۹۷- نسبت به  مانند نسبت به است.

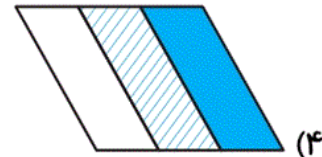


به

نسبت



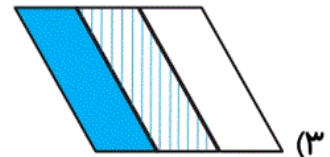
(۲)



(۴)



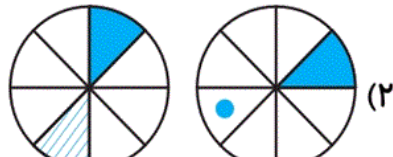
(۱)



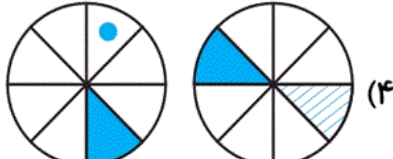
(۳)

آزمون ۲۰ مهر

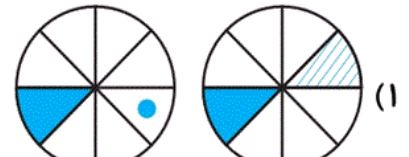
۹۸- گزینه‌ی متفاوت را انتخاب کنید.



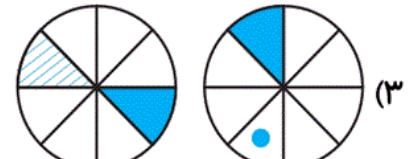
(۲)



(۴)



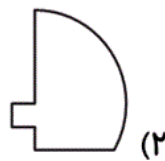
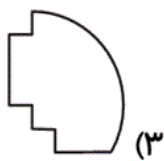
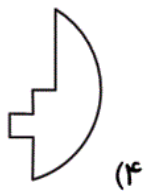
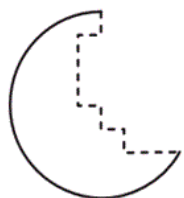
(۱)



(۳)

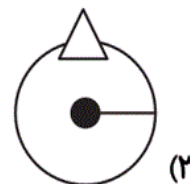
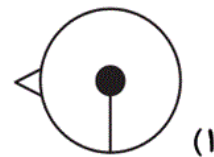
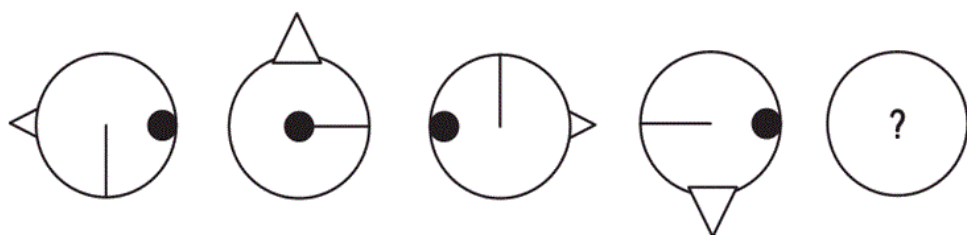
آزمون ۲۰ مهر

۹۹- کدام گزینه می تواند قسمت خط چین را پر کند؟



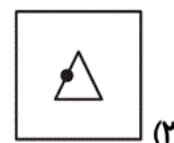
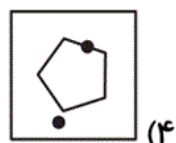
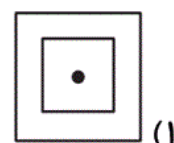
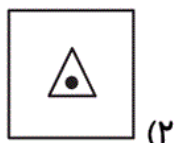
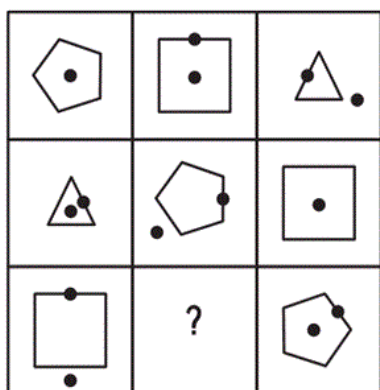
آزمون ۲۰ مهر

۱۰۰- کدام گزینه، الگوی زیر را کامل می کند؟

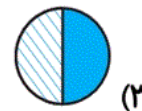
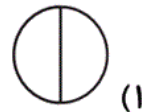
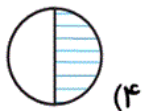
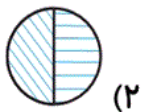
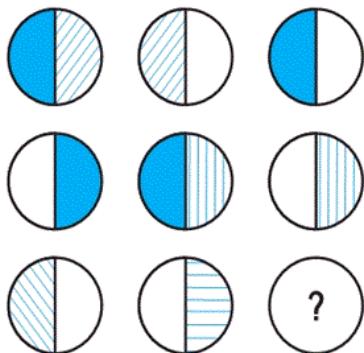


آزمون ۲۰ مهر

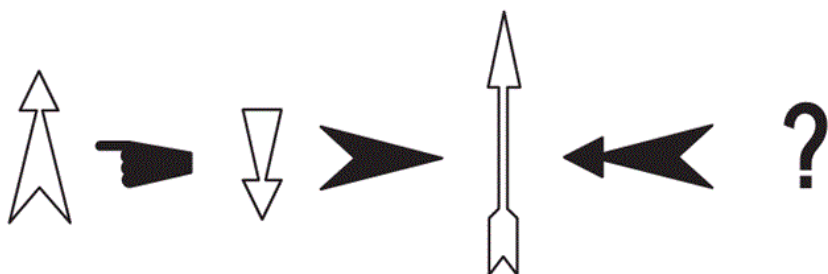
۱۰۱- کدام گزینه، جدول داده شده را کامل می کند؟



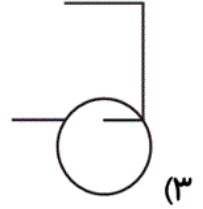
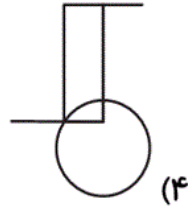
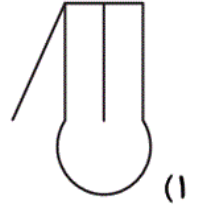
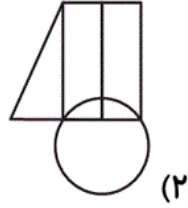
۱۰۲- کدام شکل به جای علامت سؤال قرار می‌گیرد؟



۱۰۳- در دنباله‌ی زیر شکل بعدی کدام گزینه است؟

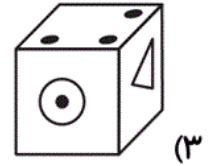
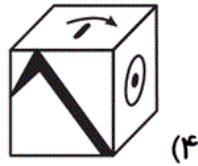
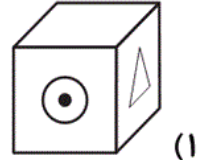
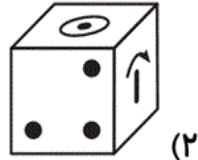
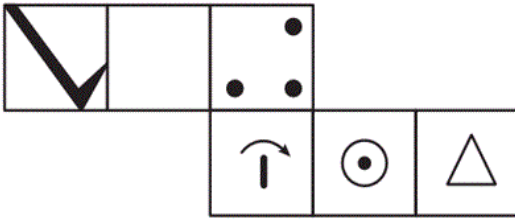


۱۰۴- کدام گزینه، شکل حاصل را نشان می‌دهد؟



آزمون ۲۰ مهر

۱۰۵- گسترده‌ی داده‌شده مربوط به کدام گزینه است؟



آزمون ۲۰ مهر