

■ با توجه به کلمات داخل جدول، به سوالات ۱۰۶ تا ۱۱۳ پاسخ دهید.

↓ ستون اول

پسر	بزرگ	توانا	بخشنده	پالایش	ماشین	خورشید	← سطر اول
دین	پرشور	رحیم	هیجان‌انگیز	خدمت	مهتاب	آسیب	
باهوش	دانا	توجه	سلاح	برکه	سیب	نویسنده	
باشگاه	کریم	مدرسه	مداد	خیاط	خرما	ورزش	
پلنگ	خروس	رفت	کیف	سوزن	خرگوش	شاعر	

۱۰۶- کدام کلمه بین کلمه‌های «سیب» و «سلاح» قرار دارد؟

(۱) خرما

(۲) برکه

(۳) توجه

(۴) نویسنده

آزمون ۲۰ مهر

۱۰۷- کلمه‌ی سمتِ راستِ کلمه‌ی «کریم» کدام گزینه است؟

(۱) مداد

(۲) دانا

(۳) باشگاه

(۴) مدرسه

آزمون ۲۰ مهر

۱۰۸- کلمه‌ی بالای کلمه‌ی «هیجان‌انگیز» کدام گزینه است؟

(۱) سلاح

(۲) وجود ندارد.

(۳) بخشنده

(۴) خورشید

آزمون ۲۰ مهر

۱۰۹- کلمه‌ی زیرِ کلمه‌ی «نویسنده» کدام گزینه است؟

(۱) ورزش

(۲) شاعر

(۳) خرما

(۴) وجود ندارد.

آزمون ۲۰ مهر

۱۱۰- کلمه‌ی سمت چپ «خروس» کدام گزینه است؟

(۱) رفت

(۲) پلنگ

(۳) کیف

(۴) کریم

آزمون ۲۰ مهر

۱۱۱- آخرین واژه‌ی دومین سطر کدام گزینه است؟

(۱) دین

(۲) باهوش

(۳) خرگوش

(۴) سوزن

آزمون ۲۰ مهر

۱۱۲- آخرین واژه‌ی پنجمین ستون کدام گزینه است؟

(۱) پلنگ

(۲) خروس

(۳) شاعر

(۴) رفت

آزمون ۲۰ مهر

۱۱۳- اولین واژه‌ی ستون سوم کدام گزینه است؟

(۱) خورشید

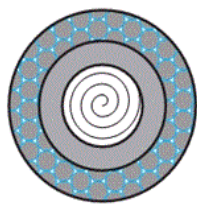
(۲) پالایش

(۳) بخشنده

(۴) توانا

آزمون ۲۰ مهر

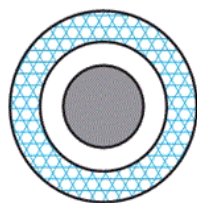
■ در جدول زیر، نماد اعداد ۱ تا ۹ آورده شده که می‌بایست با آن‌ها فقط اعداد ۳ رقمی ساخت. به این ترتیب که تصویر رقم صدگان بزرگ‌تر و در لایه زیرین، تصویر رقم دهگان با اندازه متوسط و در لایه میانی و تصویر رقم یکان کوچک‌تر و در لایه رویی قرار می‌گیرد. به عنوان مثال تصویر نهایی عدد ۱۵۹، به صورت زیر است.



									نماد
۹	۸	۷	۶	۵	۴	۳	۲	۱	عدد

■ با توجه به توضیحات داده‌شده، به سؤالات ۱۱۴ تا ۱۱۹ پاسخ دهید.

۱۱۴- تصویر زیر به کدام عدد اشاره دارد؟



۳۵۱ (۲)

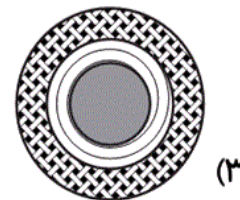
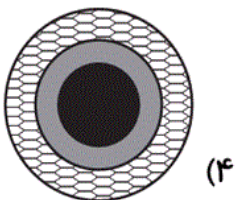
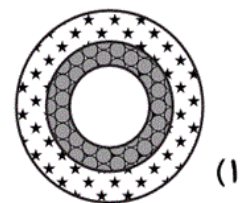
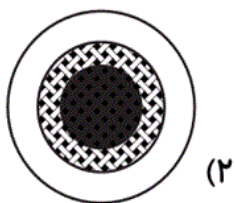
۶۵۴ (۱)

۴۶۵ (۴)

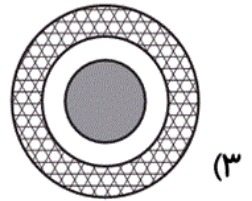
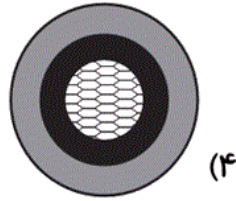
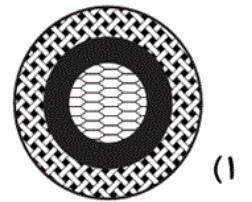
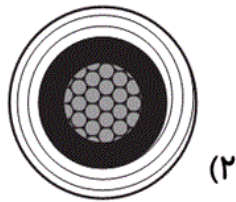
۸۴۲ (۳)

آزمون ۲۰ مهر

۱۱۵- کدام عدد بزرگ‌تر است؟

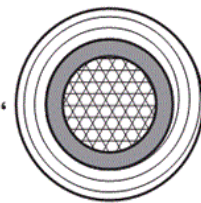
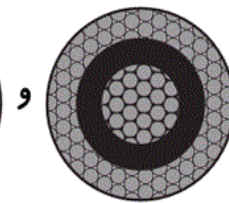
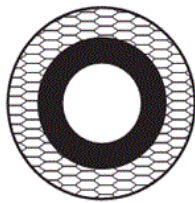


آزمون ۲۰ مهر

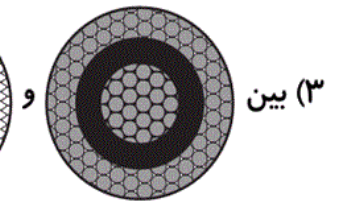
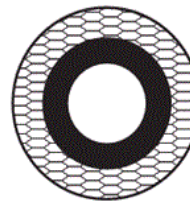

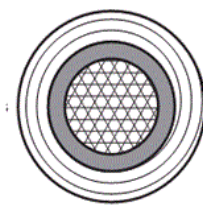
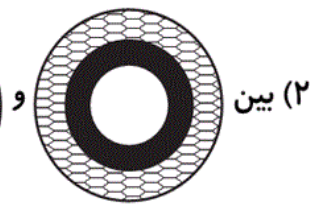
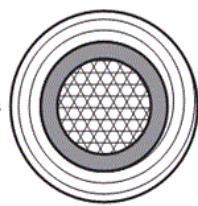


آزمون ۲۰ مهر

۱۱۷- اگر اعداد را مرتب کنیم، عدد ۴۸۷ در کجای این سری

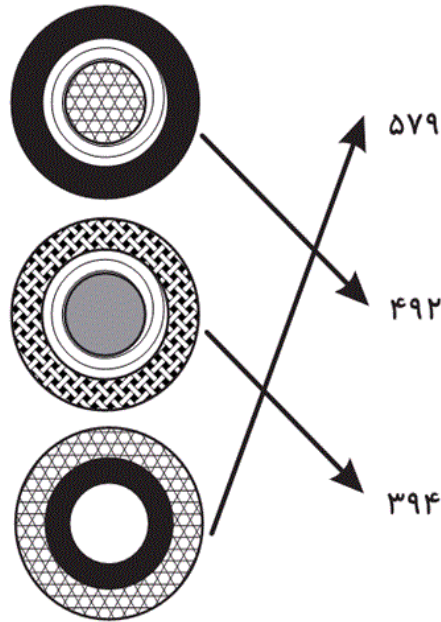


اعداد قرار می گیرد؟



آزمون ۲۰ مهر

۱۱۸- چند مورد از موارد زیر به درستی متصل شده‌اند؟



(۱) هر سه مورد درست هستند.

(۲) دو مورد درست هستند.

(۳) فقط یک مورد درست است.

(۴) هیچ یک از موارد، درست نیستند.

آزمون ۲۰ مهر

۱۱۹- با رقم‌های  و  ، کدام عدد را بدون تکرار ارقام نمی‌توان

نوشت؟

(۱) ۱۹۶

(۲) ۹۱۴

(۳) ۶۳۱

(۴) ۳۱۶

آزمون ۲۰ مهر

■ یک تاس زمانی استاندارد است که اعداد وجه‌های آن اعداد ۱ تا ۶ بوده و مجموع اعداد دو وجه روبه‌رویی،

فقط و فقط عدد ۷ شود. با توجه به این توضیحات، به سوالات ۱۲۰ تا ۱۲۴ پاسخ دهید.

۱۲۰- اگر سه تاس را مطابق تصویر داده شده روی هم قرار دهیم، مجموع سه وجه پشت، چه عددی خواهد بود؟



۱۳ (۱)

۸ (۲)

۱۰ (۳)

۹ (۴)

آزمون ۲۰ مهر

۱۲۱- اگر از وجه نشان‌داده شده در تصویر و وجه روبه‌رویی آن صرف نظر کنیم، با اعداد باقی‌مانده کدام عدد را



می‌توان ساخت؟

۵۶۴۳ (۲)

۱۲۳۵ (۱)

۶۲۵۱ (۴)

۱۵۳۶ (۳)

آزمون ۲۰ مهر

۱۲۲- اگر میانگین سه عدد وجه پشت، ۳ باشد، عدد وجه «؟» چیست؟



۳ (۱)




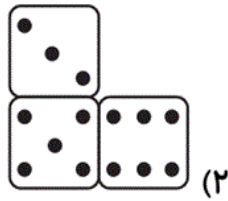

۱ (۲)

۴ (۳)

۵ (۴)

آزمون ۲۰ مهر

۱۲۳- اگر سه تاس داده شده را از نمای پشت ببینیم، چه تصویری ظاهر خواهد شد؟



آزمون ۲۰ مهر

۱۲۴- اگر مجموع ۳ وجه از سه تاس مختلف برابر ۴ باشد، مجموع وجه‌های روبه‌روی این سه وجه چند است؟

۹ (۲)

۱۲ (۱)

۱۷ (۴)

۱۴ (۳)

■ با توجه به ابیات زیر به سؤالات ۱۲۵ تا ۱۲۹ پاسخ دهید.

«هرکس به تماشایی رفتند به صحرایی / ما را که تو منظوری خاطر نروی جایی

یا چشم نمی‌بیند یا راه نمی‌داند / هر کو به وجود خود دارد ز تو پروایی

دیوانه عشقت را جایی نظر افتاده است / کآنجا نتواند رفت اندیشه دانایی

در پارس که تا بوده است از ولوله آسوده است / بیم است که برخیزد از حسن تو غوغایی»

آزمون ۲۰ مهر

۱۲۵- در کدام بیت حرف «ب» بیشتر تکرار شده است؟

(۲) بیت دوم

(۱) بیت اول

(۴) بیت چهارم

(۳) بیت سوم

آزمون ۲۰ مهر

۱۲۶- در کدام بیت هشتمین حرف از ابتدا و انتهای بیت یکسان است؟

(۲) بیت دوم

(۱) بیت اول

(۴) بیت چهارم

(۳) بیت سوم

آزمون ۲۰ مهر

۱۲۷- در کدام بیت «کلمه‌ای که دارای حروف ۲ نقطه‌ای و ۳ نقطه‌ای باشد» دیده نمی‌شود؟

(۲) بیت دوم

(۱) بیت اول

(۴) بیت چهارم

(۳) بیت سوم

آزمون ۲۰ مهر

۱۲۸- در کدام بیت تعداد نقاط بیشتری به کار رفته است؟

(۲) بیت دوم

(۱) بیت اول

(۴) بیت چهارم

(۳) بیت سوم

آزمون ۲۰ مهر

۱۲۷- در کدام بیت «کلمه‌ی ۴ نقطه‌ای» دیده نمی‌شود؟

(۲) بیت دوم

(۱) بیت اول

(۴) بیت چهارم

(۳) بیت سوم

آزمون ۲۰ مهر

۱۳۰- در بیت زیر تعداد کدام حرف با بقیه متفاوت است؟

«دمی با دوست در خلوت به از صد سال در عشرت / من آزادی نمی‌خواهم که با یوسف به زندانم»

(۲) ب

(۱) ت

(۴) ر

(۳) س

آزمون ۲۰ مهر

۱۳۱- در بیت زیر حاصل ضرب تعداد حرف «ش» در تعداد حروف ۳ نقطه‌ای کدام است؟

«چشم که بر تو می‌کنم چشم حسود می‌کنم / شکر خدا که باز شد دیده‌ی بخت روشنم»

(۲) ۲۵

(۱) ۴۹

(۴) ۲۱

(۳) ۳۵

آزمون ۲۰ مهر

۱۳۲- کدام مورد در بیت زیر دیده نمی‌شود؟

«به هوش بودم از اول که دل به کس نسپارم / شمایل تو بدیدم نه صبر ماند و نه هوشم»

(۲) کلمه‌ی بدون نقطه

(۱) کلمه‌ی ۶ حرفی

(۴) کلمه‌ی ۶ نقطه‌ای

(۳) کلمه‌ی ۵ نقطه‌ای

آزمون ۲۰ مهر

۱۳۳- در بیت زیر اگر به جای حرف «م» حرف «ش» جایگذاری شود، تعداد نقاط بیت چگونه خواهد شد؟

«از در، در آمدی و من از خود به در شدم / گفתי کز این جهان به جهان دگر شدم»

(۲) ۳۲ نقطه اضافه می‌شود.

(۱) ۳۵ نقطه اضافه می‌شود.

(۴) ۱۲ نقطه اضافه می‌شود.

(۳) ۹ نقطه اضافه می‌شود.

آزمون ۲۰ مهر

۱۳۴- در بیت زیر تعداد کدام دو حرف یکسان است؟

«آن که مرا آرزوست دیر میسر شود / وین چه مرا در سر است عمر در این سر شود»

(۲) س - و

(۱) م - ن

(۴) ن - د

(۳) د - س

آزمون ۲۰ مهر

۱۳۵- اگر کلمات زیر را به ترتیب در فرهنگ لغات مرتب کنیم، کدام کلمه، چهارمین کلمه خواهد بود؟

«شرمنده - شرمساری - شمارنده - شریسا - شرمگین - شمیم - شرینگ»

(۲) شریسا

(۱) شرمنده

(۴) شرمگین

(۳) شمارنده

آزمون ۲۰ مهر