

ریاضی دوم دبستان - طراحی ، دسته های ده تایی و یکی - سوال ۲ -

۱- چند عدد دو رقمی وجود دارد که رقم یکان و دهگان آن مساوی است؟

۸ (۴)

۱۱ (۳)

۱۰ (۲)

۹ (۱)

آزمون ۱۸ آبان

۹- علی ۲ بسته ده تایی و ۶ تا یکی مداد داشت. ۵ تا از آنها را به برادرش داد. حالا او چند مداد دارد؟

۱۲ (۲)

۲۰ (۱)

۲۲ (۴)

۲۱ (۳)

آزمون ۱۸ آبان

ریاضی دوم دبستان - طراحی ، جمع و تفریق - سوال ۳ -

$$۳+۵+۱۰+۲۰+۵+۵=$$

۵- حاصل جمع روبه‌رو، کدام گزینه است؟

۴۷ (۲)

۳۸ (۱)

۴۸ (۴)

۳۷ (۳)

آزمون ۱۸ آبان


۶- ساعت ۲۰ دقیقه مانده به چند است؟

۵ (۱)

۶ (۲)

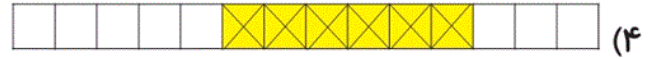
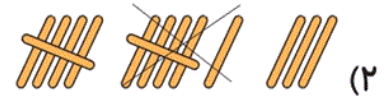
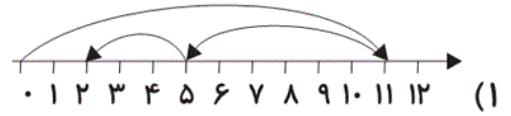
۷ (۳)

۸ (۴)



آزمون ۱۸ آبان

۷- کدام گزینه در رابطه با عبارت $(۳+۶-۱۱)$ صحیح نیست؟



آزمون ۱۸ آبان

ریاضی دوم دبستان - طراحی ، شمارش چند تا از چند تا - ۱ سوال -

۸- در شمارش ۵ تا ۵ تا، عدد قبل از ۵۰ کدام است؟

۵۵ (۲)

۴۵ (۱)

۵۴ (۴)

۴۹ (۳)

آزمون ۱۸ آبان

ریاضی دوم دبستان - طراحی ، مرور فصل - ۱ سوال -

۱۰- با رقم‌های ۰، ۴، ۲ چند تا عدد دو رقمی می‌توان نوشت؟ (تکرار ارقام مجاز است.)

۷ تا (۴)

۴ تا (۳)

۶ تا (۲)

۵ تا (۱)

آزمون ۱۸ آبان

ریاضی دوم دبستان - طراحی ، جمع و تفریق - ۱ سوال -

۳- در کدام جدول نمی‌توانیم جمع‌های دوقلو را مشاهده کنیم؟

+	۴	۲	۸
۴			
۲			
۸			

(۲)

+	۲	۳	۴
۲			
۳			
۴			

(۱)

+	۱	۲	۳
۱			
۲			
۳			

(۴)

+	۴	۷	۳
۵			
۶			
۹			

(۳)

آزمون ۱۸ آبان

۲- حاصل کدام عبارت صحیح است؟

$$۱۰ + ۶۰ = ۸۰ \quad (۲)$$

$$۸۰ - ۳۰ = ۵۰ \quad (۱)$$

$$۹۰ \text{ ده تایی} = ۴ \text{ ده تایی} + ۵ \text{ ده تایی} \quad (۴)$$

$$۴۰ \text{ ده تایی} = ۲ \text{ ده تایی} - ۶۰ \quad (۳)$$

آزمون ۱۸ آبان

۴- آیدا ۴ جفت جوراب به رنگ‌های صورتی، قرمز، سفید و سبز و دو شلوار به رنگ‌های قهوه‌ای و آبی دارد. او به

چند طریق می‌تواند یک جفت جوراب و یک شلوار را با هم بپوشد؟

$$۶ \quad (۲)$$

$$۱۲ \quad (۱)$$

$$۸ \quad (۴)$$

$$۱۰ \quad (۳)$$

آزمون ۱۸ آبان