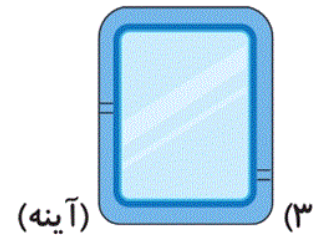
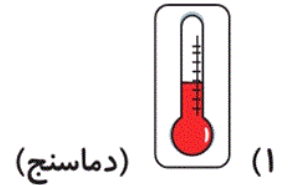


علوم سوم دبستان - طراحی ، **زنگ علوم** - ۳ سوال -

۱۱- در هنگام تحقیق علمی، زهرا مشغول مشاهده و جمع‌آوری اطلاعات بود که با چند جانور کوچک مواجه شد، کدام یک از ابزارهای زیر برای مشاهده‌ی این جانور به کار می‌رود؟ (بهترین گزینه را انتخاب کنید).



آزمون ۱۸ آبان

۱۷- به ترتیب از راست به چپ، کدام جانوران ۴، صفر و ۲ بال دارند؟

(۱) مگس - پروانه - مورچه

(۲) پروانه - عنکبوت - مگس

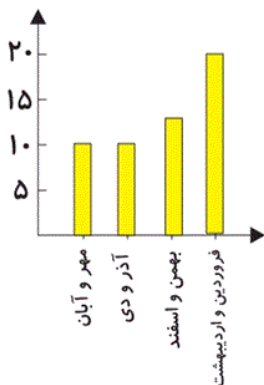
(۳) پروانه - مگس - عنکبوت

(۴) عنکبوت - مورچه - مگس

آزمون ۱۸ آبان

۱۸- علی با کمک مشاور تحصیلی و معلم خود در درس‌ها پیشرفت کرده است. نمودار زیر نمرات او را در ماه‌های سال

تحصیلی نشان می‌دهد. به ترتیب از راست به چپ، در کدام ماه‌ها نمرات او ثابت و در کدام ماه‌ها نمرات بیش‌ترین



پیشرفت را داشته است؟

(۱) مهر و آبان - آذر و دی / فروردین و اردیبهشت

(۲) مهر و آبان - آذر و دی / بهمن و اسفند

(۳) بهمن و اسفند - فروردین و اردیبهشت / فروردین و اردیبهشت

(۴) آذر و دی - بهمن و اسفند / بهمن و اسفند

آزمون ۱۸ آبان

علوم سوم دبستان - طراحی ، خوراکی‌ها - ۳ سوال -

۱۹- در بشقاب سلامت، کدام گروه از مواد خوراکی زیر سهم کمتری به خود اختصاص می‌دهد؟

(۲) میوه‌ها و سبزی‌ها

(۱) غلات و سیب‌زمینی

(۴) شیر و لبنیات

(۳) گوشت‌ها، تخم‌مرغ و حبوبات

آزمون ۱۸ آبان

۱۵- رنگ‌های برچسب سلامت خوراکی‌ها کدام‌اند؟

(۲) زرد - سبز - نارنجی

(۱) آبی - سبز - قرمز

(۴) آبی - قرمز - بنفش

(۳) زرد - سبز - قرمز

آزمون ۱۸ آبان

۱۶- به ترتیب از راست به چپ، کدام غذا در محکم شدن استخوان‌ها و کدام غذا در رشد ما نقش مثبتی ایفا می‌کند؟

(بهترین گزینه انتخاب شود.)

(۲) ماست - تخم‌مرغ

(۱) برنج - نخود و لوبیا

(۴) کره‌ی بادام‌زمینی - گوشت گوسفند

(۳) پنیر - سیب‌زمینی

آزمون ۱۸ آبان

علوم سوم دبستان - طراحی ، مواد اطراف ما - ۲ سوال -

۲۰- کدام دو تغییر حالت‌ها، بین جامد و مایع انجام می‌شوند؟

(۲) ذوب و انجماد

(۱) ذوب و تبخیر

(۴) میعان و انجماد

(۳) تبخیر و میعان

آزمون ۱۸ آبان

۱۳- کدام یک به حالت گاز می‌باشد؟

(۲) کیک

(۱) ژله

(۴) شربت پرتقال

(۳) هوا

آزمون ۱۸ آبان

علوم سوم دبستان - طراحی ، اندازه گیری مواد - ۲ سوال -

۱۴- برای اندازه گیری کدام یک از موارد زیر از یکای میلی‌لیتر استفاده می‌شود؟

(۲) حجم مقدار کمی از مایعات

(۱) جرم مایعات

(۴) جرم جامدات

(۳) حجم جامدات

آزمون ۱۸ آبان

۱۲- جرم اجسامی که سبک هستند، با کدام واحد گزارش می‌شود؟

(۲) گرم

(۱) لیتر

(۴) کیلوگرم

(۳) میلی‌لیتر

آزمون ۱۸ آبان