

ریاضی سوم دبستان - طراحی ، شمارش چند تا چند تا - ۱ سوال -

$$۳+۴+۵+۷+۶+۵+۵=$$

۲- حاصل جمع عبارت روبه‌رو چند است؟

۲۹ (۴)

۳۴ (۳)


۳۰ (۲)

۳۵ (۱)

آزمون ۱۸ آبان

ریاضی سوم دبستان - طراحی ، ماشین های ورودی - خروجی - ۱ سوال -

۱- به جای  چه عددی قرار دهیم؟



۳۴۱ (۴)

۲۰۰ (۳)

۳۰۲ (۲)

۳۴۰ (۱)

آزمون ۱۸ آبان

ریاضی سوم دبستان - طراحی ، ساعت در بعد از ظهر - ۲ سوال -

۳- نیایش ساعت چهار و نیم بعد از ظهر شروع به مطالعه کرد و تا ساعت ۲۱ به مطالعه‌ی خود ادامه داد. نیایش چند

ساعت مطالعه کرده است؟

۲) ۵ ساعت

۱) ۷ ساعت و نیم

۴) سه ساعت و نیم

۳) چهار ساعت و نیم

آزمون ۱۸ آبان

۴- سهیل ساعت ۵ بعد از ظهر شروع به حل تمرین‌های ریاضی کرد. بعد از ۱ ساعت سراغ تلویزیون رفت و پس از ۱

ساعت تماشای برنامه‌ی مورد علاقه‌ی خود، بر سر تمرین‌های ریاضی‌اش برگشت. پس از ۱ ساعت تمرین، پدرش

به منزل آمد؛ ۱ ساعت بعد از آمدن پدر از سرکار، آن‌ها شام خوردند. زمان شام خوردن خانواده‌ی سهیل ساعت

..... بود.

۱۹ (۴)

۲۲ (۳)

۲۱ (۲)

۲۰ (۱)

آزمون ۱۸ آبان

۵- اگر الگوی عددی زیر را به عقب کامل کنیم، اولین عدد این الگو کدام است؟

..... ، ، ، ۴۲ ، ۴۹ ، ۵۶

۱۴ (۴)

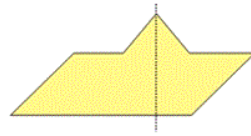
۳۵ (۳)

۲۱ (۲)

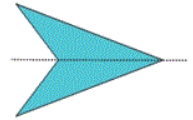
۲۸ (۱)

آزمون ۱۸ آبان

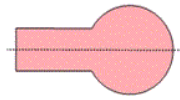
۶- خط تقارن کدام شکل به درستی رسم نشده است؟



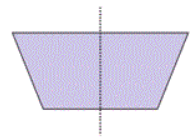
(۲)



(۱)



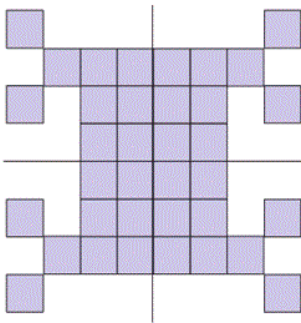
(۴)



(۳)

آزمون ۱۸ آبان

۷- با توجه به شکل رسم شده، تعداد مربع‌های کوچک چندتا است؟



۹ (۱)


۱۸ (۲)

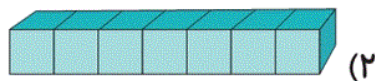
۲۷ (۳)

۳۶ (۴)

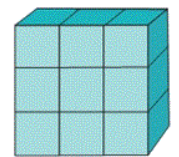
آزمون ۱۸ آبان

ریاضی سوم دبستان - طراحی ، **معرفی عدد هزار** - سوال ۳ -

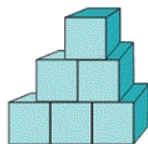
۸- اگر هر  نشان دهنده‌ی عدد ۱۰۰۰ باشد، شکل کدام گزینه از ۹۰۰۰ کم‌تر و از ۷۰۰۰ بیش‌تر است؟



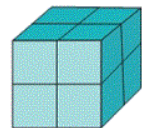
(۲)



(۱)



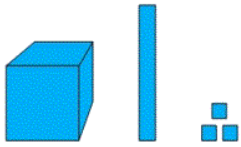
(۴)



(۳)

آزمون ۱۸ آبان

۹- شکل زیر چه عددی را نشان می‌دهد؟



۱۰۱۳ (۲)

۱۱۳۰ (۱)

۱۱۰۳ (۴)

۱۱۳ (۳)

آزمون ۱۸ آبان

۱۰- عدد چهار رقمی ای که رقم یکان هزارگان ۸، صدگان ۲، دهگان ۰ و یکان ۹ باشد، کدام است؟

۸۲۰۹ (۲)

۸۲۹۰ (۱)

۸۰۹۲ (۴)

۹۸۲۰ (۳)

آزمون ۱۸ آبان