

*** با توجه به ابیات زیر، به سؤالات ۷۱ تا ۷۳ پاسخ دهید.

«مثل یک پروانه پشت شیشه پرپر میزنم / در خودم محبوسم و با مشت بر در میزنم

مانده‌ام در حسرت پرواز و محض دلخوشی / روی کتفم نقشی از بال کبوتر میزنم

گاه گاه از فرط دلتنگی به یاد دوستان / شانه‌هایم را خودم از پشت خنجر می‌زنم

باز هم با دیگران می‌گویم از احساس خود / باز هم با اره‌ها حرف از صنوبر میزنم»

۷۱- برای کدام یک از کلمات زیر در ابیات بالا هم خانواده وجود ندارد؟

(۲) حروف

(۱) محسوس

(۴) صابر

(۳) حبس

آزمون ۱۸ آبان

۷۲- در مصراع دوم بیت اول، چند جمله وجود دارد؟

(۲) سه جمله

(۱) یک جمله

(۴) چهار جمله

(۳) دو جمله

آزمون ۱۸ آبان

۷۳- مفهوم بیت کدام گزینه، با بیت زیر ارتباط بیش تری دارد؟

«در دل دردی است از تو پنهان که می پرس / تنگ آمده چندان دلم از جان که می پرس»

(۲) بیت سوم

(۱) بیت چهارم

(۴) بیت اول

(۳) بیت دوم

آزمون ۱۸ آبان

۷۴- کدام گزینه می تواند به جای علامت سؤال قرار گیرد؟

۲	۲	۳	۳	؟
۳	۳	۳	۳	؟
۵	۶	۶	۷	؟
۶	۶	۶	۶	؟

۴
۶
۴
۷

(۴)

۵
۳
۲
۱

(۳)

۶
۶
۶
۴

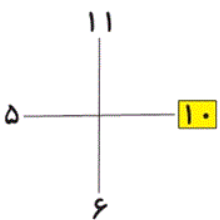
(۲)

۴
۶
۳
۷

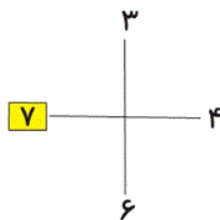
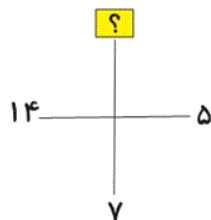
(۱)

آزمون ۱۸ آبان

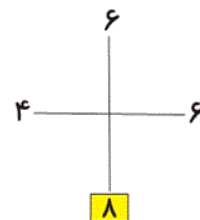
۷۵- در تصاویر زیر بین اعداد هر شکل ارتباط خاصی برقرار است. به جای علامت سؤال، چه عددی باید قرار گیرد؟



۲۰ (۴)



۲۴ (۳)

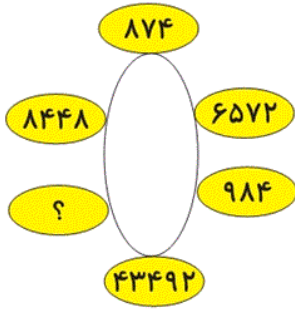


۱۶ (۲)

۱۲ (۱)

آزمون ۱۸ آبان

۷۶- به جای علامت سؤال کدام گزینه می تواند قرار بگیرد؟



(۱) ۴۳۸۸

(۲) ۷۴۳۵

(۳) ۸۲۴۳

(۴) ۹۹۳۰

آزمون ۱۸ آبان

۷۷- می خواهیم طنابی به طول ۲۴ متر را به قطعات ۲ متری برش بزنیم. اگر هر برش ۳ ثانیه طول بکشد در کل چند

ثانیه زمان لازم است؟ (هر بار فقط یک برش داده می شود.)

(۴) ۳۹

(۳) ۳۶

(۲) ۳۳

(۱) ۳۰

آزمون ۱۸ آبان

۷۸- تعدادی مداد در جعبه است. اگر آن‌ها را ۲ تا ۲ تا بشماریم یک مداد باقی می ماند. اگر ۳ تا ۳ تا بشماریم ۲ مداد

باقی می ماند. اگر ۴ تا ۴ تا بشماریم ۳ مداد باقی می ماند. کدام عدد می تواند تعداد مدادهای این جعبه باشد؟

(۴) ۴۵

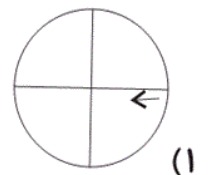
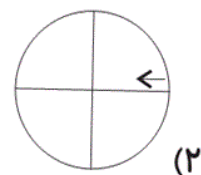
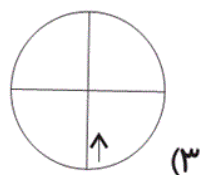
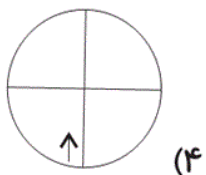
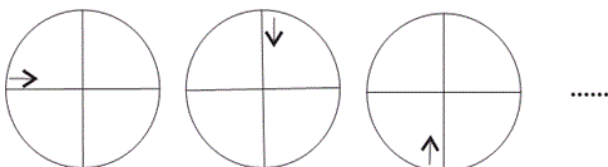
(۳) ۳۱

(۲) ۲۳

(۱) ۱۵

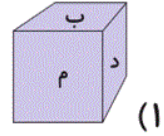
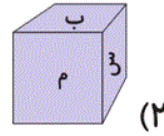
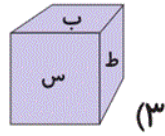
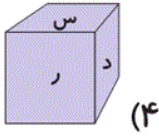
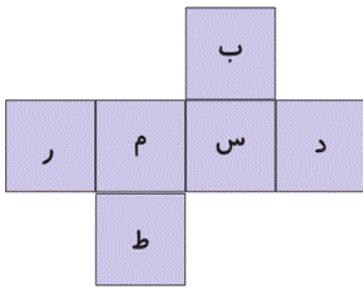
آزمون ۱۸ آبان

۷۹- با توجه به الگوی شکل‌ها، شکل چهارم کدام گزینه خواهد بود؟



آزمون ۱۸ آبان

۸۰- کدام یک از مکعب‌های زیر، بسته شده‌ی گسترده‌ی مقابل است؟ (چرخش حروف را در نظر نگیرید.)



آزمون ۱۸ آبان