

■ در جدول زیر برای هریک از حروف الفبای مشخص شده، یک کُد تعیین شده است. با توجه به آن به

سوالات ۱۰۶ تا ۱۱۰ پاسخ دهید.

۴	۳	۶	۱	۷	۲	۸	۵	کد
ن	ی	و	س	ت	پ	ب	الف	حرف

۱۰۶- در ساخت کلمه‌ی «تساوی» کدام کد وجود ندارد؟

۴ (۴)

۶ (۳)

۱ (۲)

۷ (۱)

آزمون ۱۸ آبان

۱۰۷- با استفاده از کدهای «۵، ۸، ۴، ۳» کدام کلمه را نمی‌توان ساخت؟

۴ (۴) نایب

۳ (۳) بانو

۲ (۲) بانی

۱ (۱) بینا

آزمون ۱۸ آبان

۱۰۸- اگر مجموع کدهای حروف یک کلمه ۱۴ باشد، آن کلمه کدام است؟

۴ (۴) بیان

۳ (۳) تیبیا

۲ (۲) یونس

۱ (۱) بیست

آزمون ۱۸ آبان

۱۰۹- مجموع کد حرف‌های کدام کلمه بیشتر است؟

۴ (۴) است

۳ (۳) اتو

۲ (۲) توپ

۱ (۱) سیب

آزمون ۱۸ آبان



۱۱۶- در مسیر بین دو شهر با بزرگ‌ترین و کوچک‌ترین عدد، چند شهر با حرف انگلیسی وجود دارند؟

۱ (۴)

۴ (۳)

۳ (۲)

۲ (۱)

آزمون ۱۸ آبان

۱۱۷- در این استان، اسم چه تعداد از شهرها با عدد مشخص شده‌اند؟

۴ (۴)

۷ (۳)

۶ (۲)

۵ (۱)

آزمون ۱۸ آبان

■ در سوالات ۱۱۸ تا ۱۲۰، گزینه‌ای را انتخاب کنید که ترتیب اعداد، حروف و نمادها مانند ترتیب داده شده و

از چپ به راست، رعایت نشده باشد. برای مثال رشته زیر را در نظر بگیرید:

!	@	\$	&	%	*
---	---	----	---	---	---

وقتی نمادها به صورت !\*%&\$@ کنار هم قرار گیرند ترتیب رعایت شده است.

-۱۱۸

F	M	O	P	X	B
---	---	---	---	---	---

MOPXBF (۲)

PXBFMO (۱)

BFMOPX (۴)

XBFOMP (۳)

آزمون ۱۸ آبان

-۱۱۹

۱	۵	۹	.	۳	۸
---	---	---	---	---	---

۵۹۰۳۱۸ (۲)

۹۰۳۸۱۵ (۱)

۸۱۵۹۰۳ (۴)

۰۳۸۱۵۹ (۳)

آزمون ۱۸ آبان

-۱۲۰

↗	⇒	↓	↖	↘	↑
---	---	---	---	---	---

↓↖↘↑⇒↗ (۲)

↖↘↑⇒↗↓ (۱)

⇒↓↘↖↑↗ (۴)

↑↗⇒↓↖↘ (۳)

آزمون ۱۸ آبان

سرعت و دقت - آشنا - ۱۵ سوال -

در زبان‌هایی مانند کره‌ای، ژاپنی، چینی و... الفبا و اعداد بر اساس کدها و نقاشی‌های مشخص ایجاد شده‌اند. در جدول‌های زیر برخی از اعداد و حروف الفبای آنان آورده شده است. زبان کره‌ای را از چپ به راست می‌نویسند، مثلاً عدد ۱۰ را به شکل  $\bigcirc -$  می‌نویسند یا شکل  $\square \uparrow$  «ما» خوانده می‌شود. بر اساس جدول زیر به سؤالات ۱۲۱ تا ۱۲۹ پاسخ دهید.

کره‌ای	فارسی
ㅏ	او
ㅑ	ت
ㅓ	م
ㅕ	س
ㅗ	و
ㅛ	ا

کره‌ای	فارسی
○	۰
-	۱
=	۲
≡	۳
ㅍ	۴
ㅑ	۵

۱۲۱- کدام گزینه کلمه‌ی «سلام» با حروف کره‌ای را نشان می‌دهد؟

$\square \uparrow \square$  (۴)

$\square \uparrow \square$  (۳)

$\uparrow \square \square$  (۲)

$\square \square \square$  (۱)

آزمون ۱۸ آبان

۱۲۲- شکل  $\square \square$  چه خوانده می‌شود؟

توم (۴)

موت (۳)

مات (۲)

تام (۱)

آزمون ۱۸ آبان

۱۲۳- کدام عدد در گزینه‌ها، عدد بزرگ تری را نشان می‌دهد؟

$= \square$  (۴)

$\equiv \bigcirc$  (۳)

$- \square$  (۲)

$\bigcirc \square$  (۱)

آزمون ۱۸ آبان

۱۲۴- یک پلاک ماشین مانند  $\square \square \square \square$  (۱۵۲ س ۴۱) در زبان کره‌ای به چه صورت است؟

$\square - \bigcirc = \square \square$  (۴)

$\square - \square - \square =$  (۳)

$= \square - \square - \square$  (۲)

$\square - \square - \square =$  (۱)

آزمون ۱۸ آبان

۱۲۵- شکل  $\square \equiv$  کدام عدد را نشان می‌دهد؟

۴۲ (۴)

۵۳ (۳)

۳۵ (۲)

۲۴ (۱)

آزمون ۱۸ آبان

۱۲۶- عدد ۳۰۴ در زبان کره‌ای به کدام شکل است؟

$\equiv \bigcirc \square$  (۴)

$\square \bigcirc \equiv$  (۳)

$\square \equiv \bigcirc$  (۲)

$\equiv \square \bigcirc$  (۱)

آزمون ۱۸ آبان

۱۲۷- کدام گزینه، یک عدد زوج کره‌ای است؟

۳۳ (۴)

۵- (۳)

۰ (۲)

۴۹ (۱)

آزمون ۱۸ آبان

۱۲۸- کدام گزینه، یک کلمه متشکل از فقط حروف کره‌ای است؟

۱۵۰ (۴)

۲۸ (۳)

۳۲ (۲)

۸۲۰ (۱)

آزمون ۱۸ آبان

۱۲۹- کدام گزینه یک عدد سه رقمی کره‌ای است؟

۳۲۰ (۴)


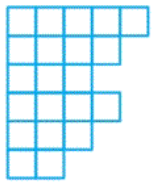
۲۰- (۳)

۰۴۹ (۲)

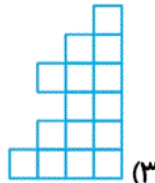
۱۰۳ (۱)

آزمون ۱۸ آبان

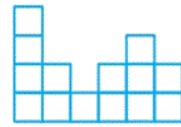
■ در پرسش‌های ۱۳۰ تا ۱۳۴ گزینه‌ای که تکمیل‌کننده‌ی شکل سمت چپ در هر پرسش است را انتخاب کنید. دقت کنید شکل نهایی در هر پرسش یک جدول ۶×۶ است.



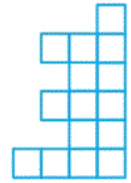
(۴)



(۳)



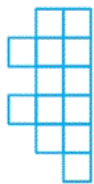
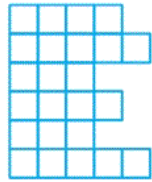
(۲)



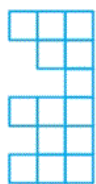
(۱)

۱۳۰-

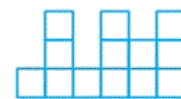
آزمون ۱۸ آبان



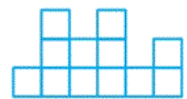
(۴)



(۳)




(۲)



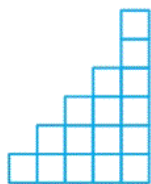
(۱)

۱۳۱-

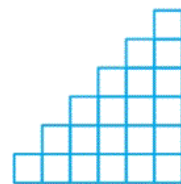
آزمون ۱۸ آبان



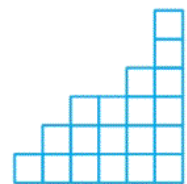
(۴)



(۳)



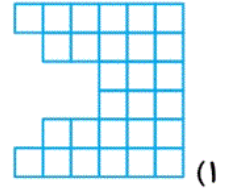
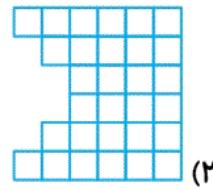
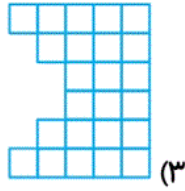
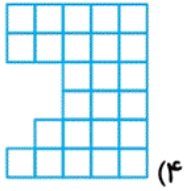
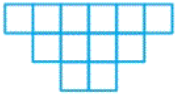
(۲)



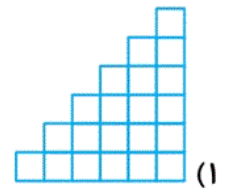
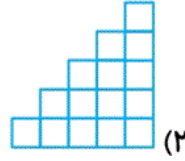
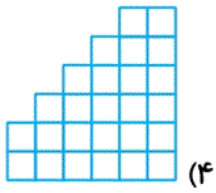
(۱)

۱۳۲-

آزمون ۱۸ آبان



آزمون ۱۸ آبان



آزمون ۱۸ آبان

۱۳۵- در مجموعه اعداد زیر که از چپ به راست چیده شده‌اند، چند مرتبه عدد ۲ بلافاصله بعد از عدد ۳ قرار گرفته است؟

۵ ۳ ۲ ۷ ۳ ۲ ۹ ۳ ۲ ۶ ۲ ۸ ۳ ۲

۵ (۴)

۴ (۳)

۳ (۲)

۲ (۱)

آزمون ۱۸ آبان