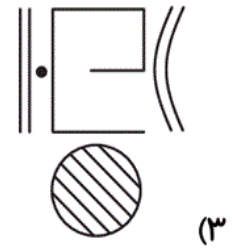

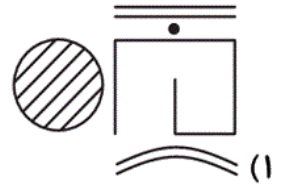
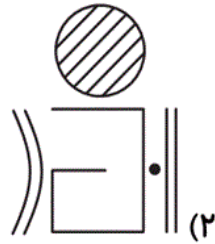
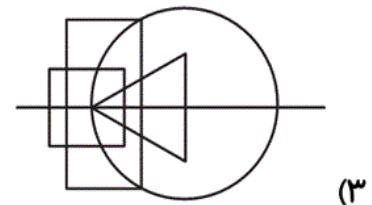
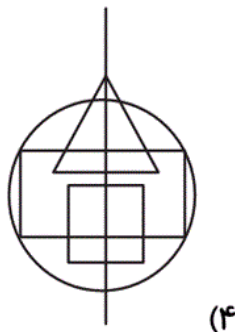
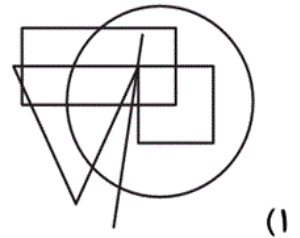
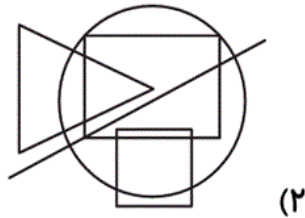
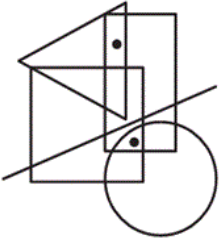


۹۶- کدام یک از تصویرها، ناهماهنگ تر با سایر گزینه‌ها است؟



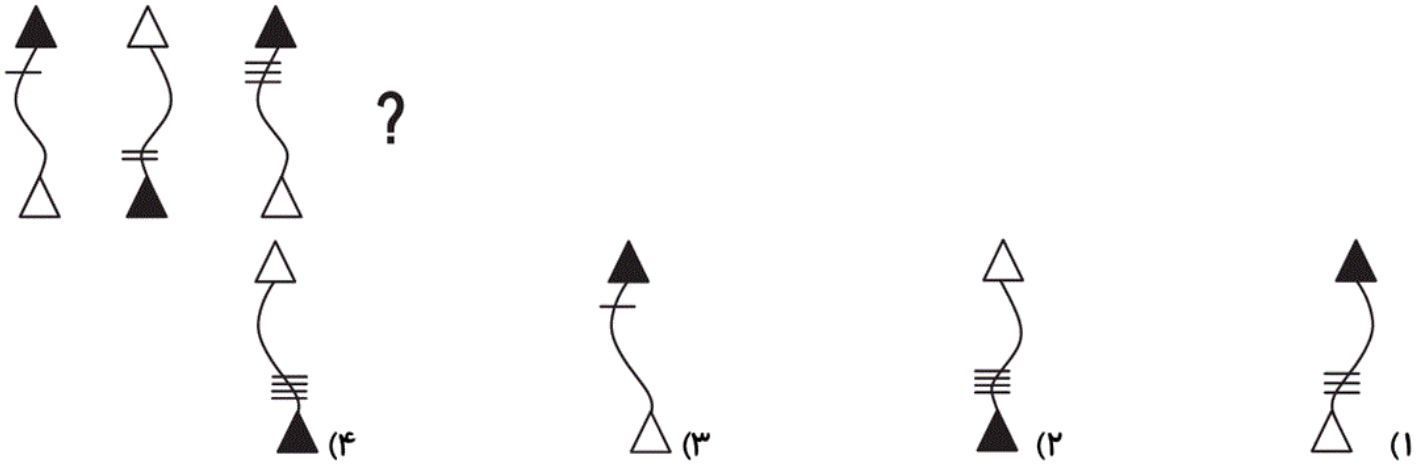
آزمون ۱۸ آبان

۹۷- با قرار دادن نقاط در تصویر کدام گزینه، تصویری مشابه تصویر زیر از لحاظ جایگاه نقاط خواهد داشت؟



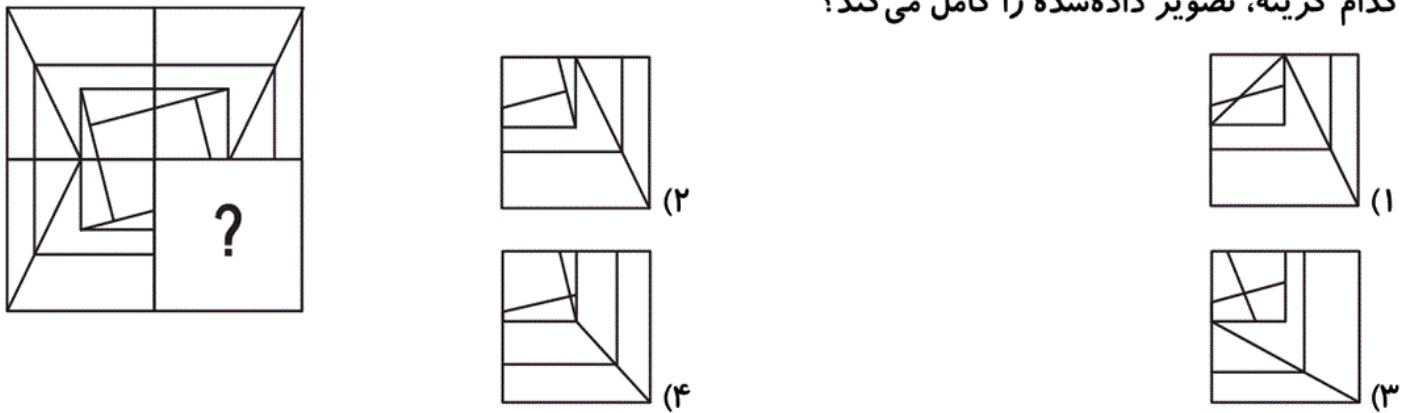
آزمون ۱۸ آبان

۹۸- کدام تصویر، دنباله‌ی تصاویر داده‌شده را کامل می‌کند؟



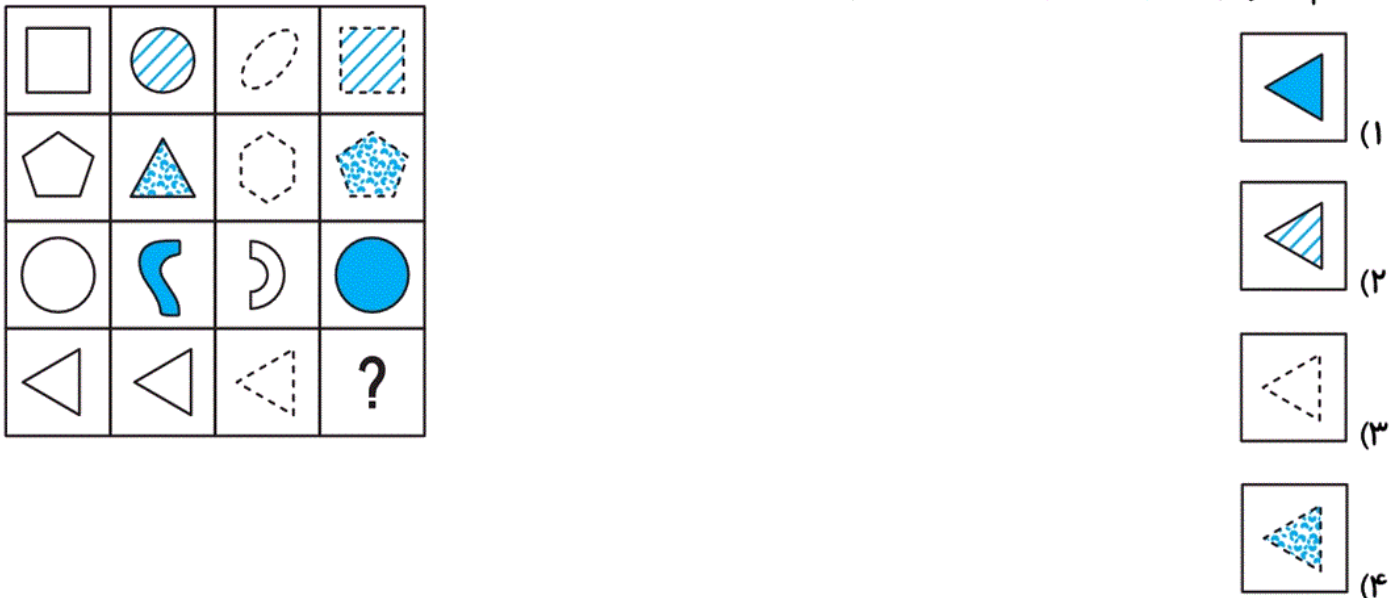
آزمون ۱۸ آبان

۹۹- کدام گزینه، تصویر داده‌شده را کامل می‌کند؟



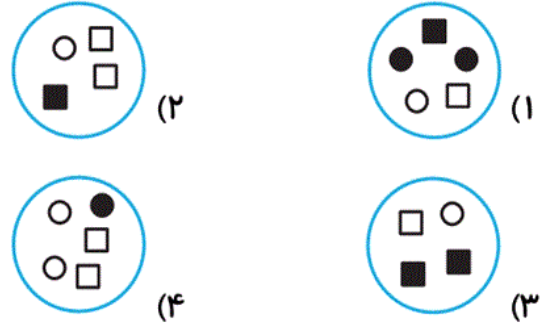
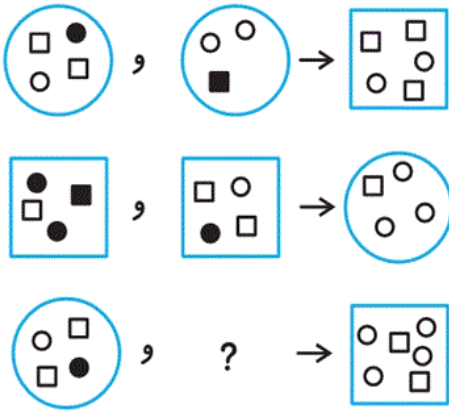
آزمون ۱۸ آبان

۱۰۰- کدام تصویر، کامل‌کننده‌ی جدول تصاویر داده‌شده است؟



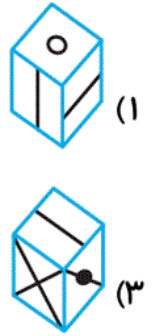
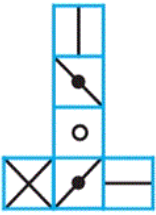
آزمون ۱۸ آبان

۱۰۱- کدام یک از گزینه‌ها باید به جای علامت سؤال قرار گیرد؟



آزمون ۱۸ آبان

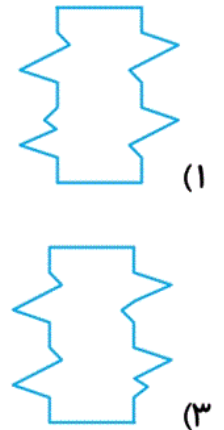
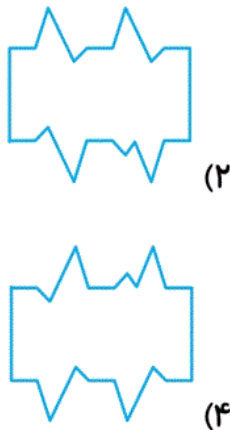
۱۰۲- اگر گسترده‌ی مکعب مقابل را تا بزنیم، به کدام یک از مکعب‌های زیر خواهیم رسید؟



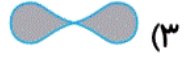
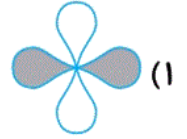
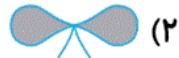

آزمون ۱۸ آبان

۱۰۳- یک کاغذ پشت و رو سفید را برش می‌دهیم تا تصویر مطابق شکل زیر ایجاد شود. اگر کاغذ را بچرخانیم و از

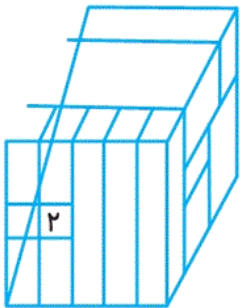
نمای پشت یا روبه‌رو به کاغذ نگاه کنیم، کدام گزینه تصویر این کاغذ نمی‌باشد؟



۱۰۴- در ادامه کدام شکل باید بیاید؟



۱۰۵- چند مکعب قابل مشاهده با مکعب ۲ می تواند سطح به سطح در تماس باشد؟



۵ (۱)

۹ (۲)

۱۲ (۳)

۱۳ (۴)