

اجتماعی چهارم دبستان ، **نقشه ی محله ی ما** - ۲ سوال -

۶۳- کدام گزینه در مورد نقشه درست است؟

(۱) برای فهمیدن مکان هر جایی، باید قبلاً به آنجا رفته باشیم.

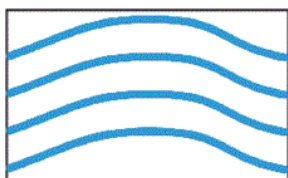
(۲) بدون راهنمای نقشه هم می توان مکان های مختلف را روی نقشه تشخیص داد.

(۳) برای تهیه ی نقشه از عکس زمینی نیز استفاده می کنند.

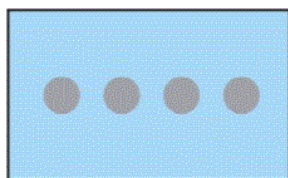
(۴) در کنار هر نقشه یک راهنما وجود دارد و راهنمای نقشه معنای رنگ های روی نقشه را نیز مشخص می کند.

آزمون ۲ آذر

۶۴- بعد از بررسی دقیق یک نقشه متوجه می شویم هر کدام از نشانه های زیر چه مفهومی را بیان می کنند؟



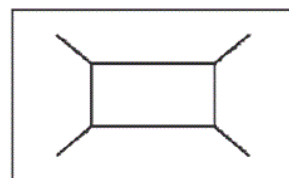
۴



۳



۲



۱

(۲) پل - زمین فوتبال - باتلاق - رود

(۱) پل - زمین فوتبال - رود - دریاچه

(۴) رستوران - باتلاق - زمین فوتبال - رود

(۳) رود - رستوران - دریاچه - چمن زار

آزمون ۲ آذر

اجتماعی چهارم دبستان ، **زندگی در شهر و روستا** - ۱ سوال -

۶۲- کدام گزینه در مورد تقسیم بندی کشور ایران نادرست است؟

(۱) اداره ی هر روستا به عهده ی شورای اسلامی و دهیاری آن روستاست.

(۲) براساس آمار سال ۱۴۰۱، پرجمعیت ترین شهر ایران بعد از تهران، شهر اصفهان است.

(۳) معمولاً بزرگ ترین و پرجمعیت ترین شهر هر استان، مرکز آن استان است.

(۴) مرکز استان هرمزگان، بندرعباس و مرکز استان خراسان جنوبی، بیرجند است.

آزمون ۲ آذر

اجتماعی چهارم دبستان ، **جهت های جغرافیایی** - ۲ سوال -

۶۱- کدام گزینه مفهوم درستی را بیان نمی‌کند؟

- ۱) همه‌ی مکان‌ها به طور دقیق در جهت‌های اصلی قرار گرفته‌اند.
- ۲) بالاترین نقطه‌ای که روی کره‌ی زمین وجود دارد، قطب شمال نام دارد.
- ۳) قطب‌نما وسیله‌ای است که جهت قطب شمال و جنوب زمین را نشان می‌دهد.
- ۴) جنوب شرقی و جنوب غربی جهت‌های اصلی نیستند.

آزمون ۲ آذر

۶۵- اگر شما به سمت محل غروب خورشید حرکت کنید، پشت سر شما و سمت راست شما به ترتیب از راست به چپ

کدام جهت‌های جغرافیایی هستند؟

- ۱) مغرب - شمال ۲) مغرب - جنوب ۳) مشرق - شمال ۴) مشرق - جنوب

آزمون ۲ آذر

«فاطمه عبدالوند»

۶۳- گزینه‌ی «۴» - (نقشه‌ی محله‌ی ما - صفحه‌های ۱۸ و ۱۹ کتاب درسی)

بررسی سایر گزینه‌ها:

گزینه‌ی «۱»: حتی اگر هیچ وقت به جایی نرفته باشیم، با استفاده از نقشه می‌توانیم بفهمیم که آن محل کجاست و چگونه و از چه راهی می‌توانیم به آنجا برویم.

گزینه‌ی «۲»: اگر راهنما نباشد، نمی‌توانیم مکان‌های مختلف را روی نقشه تشخیص دهیم.


گزینه‌ی «۳»: برای تهیه‌ی نقشه از عکس هوایی استفاده می‌کنند.

۱ ۲ ۳ ۴

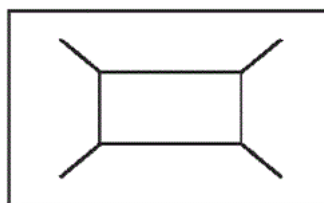
آزمون ۲ آذر

«الهام رضایی»

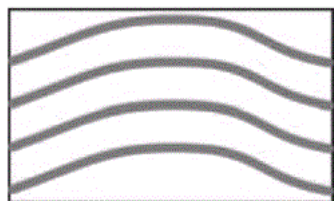
۶۴- گزینه‌ی «۲» - (نقشه‌ی محله‌ی ما - صفحه‌ی ۱۹ کتاب درسی)




(۲) زمین فوتبال:



(۱) پل:



(۴) رود:



(۳) باتلاق:

۱ ۲ ۳ ۴

آزمون ۲ آذر

«محمد مهدی اسلامی»

۶۲- گزینه‌ی «۲» - (زندگی در شهر و روستا - صفحه‌های ۲۵ تا ۲۷ کتاب درسی)

پرجمعیت‌ترین شهر ایران بعد از تهران، شهر مشهد است.

۱ ۲ ۳ ۴

آزمون ۲ آذر

«فاطمه عبدالوند»

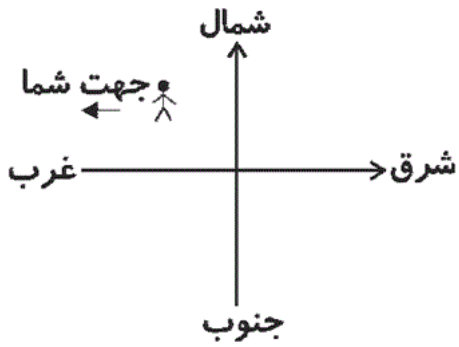
۶۱- گزینه‌ی «۱» - (جهت‌های جغرافیایی - صفحه‌های ۳۱ و ۳۲ کتاب درسی)

همه‌ی مکان‌ها به طور دقیق در جهت‌های اصلی قرار نگرفته‌اند.

۱ ۲ ۳ ۴

آزمون ۲ آذر

وقتی در جهت غرب (محل غروب خورشید) حرکت کنیم، پشت سر ما شرق و سمت راست ما شمال است.



۴

۳ ✓

۲

۱

آزمون ۲ آذر