

علوم دوم دبستان - طراحی ، **زندگی ما و گردش زمین** ۱ - ۱ سوال -

۱۱- روز و شب چگونه به وجود می آید؟

(۱) گردش زمین به دور خورشید

(۲) گردش خورشید به دور زمین

(۳) گردش زمین به دور خودش

(۴) گردش خورشید به دور خودش

آزمون ۳۰ آذر

علوم دوم دبستان - طراحی ، **زندگی ما و گردش زمین** ۳ - ۲ سوال -

۱۲- کدام یک از استفاده‌های انسان از باد نمی‌باشد؟

(۱) خشک کردن لباس

(۲) تولید برق

(۳) حرکت قایق بادبانی

(۴) حرکت ماشین بنزینی

آزمون ۳۰ آذر

۱۳- باد اجسام را حمل می کند و وقتی سرعت آن می شود آنها را روی زمین می گذارد.

(۲) سنگین _ کم

(۱) سنگین _ زیاد

(۴) سبک _ زیاد

(۳) سبک _ کم

آزمون ۳۰ آذر

۱۴- طوفان می تواند در دریا موج های بزرگی به وجود آورد. این اتفاق چه نتیجه ای را به دنبال دارد؟

(۱) مرگ ماهی ها

(۲) کاهش آب دریا

(۳) غرق شدن کشتی ها

(۴) آلودگی هوا

آزمون ۳۰ آذر

علوم دوم دبستان - طراحی ، **پیام رمز پیدا کن** ۳ - ۱ سوال -

۱۵- کدام گزینه درست است؟

(۱) بر اثر لرزش اجسام نور تولید می‌شود.

(۲) در هنگام صحبت کردن با گذاشتن دست جلوی گردن لرزش تارهای صوتی حس نمی‌شود.

(۳) با یک کتاب، دو مداد و یک حلقه کش نمی‌توان صدا تولید کرد.

(۴) هیچ‌کدام

آزمون ۳۰ آذر

۱۶- کدام صدا پیام‌رسان نیست؟

(۱) زنگ ساعت

(۲) صدای حاصل از کار کردن کارگران مانند کوبیدن چکش

(۳) صدای تلفن

(۴) صدای اذان

آزمون ۳۰ آذر


۱۸- صدای فیل و جوجه به ترتیب از راست به چپ چگونه است؟

(۱) کلفت - کلفت

(۲) کلفت - نازک

(۳) نازک - نازک

(۴) نازک - کلفت



آزمون ۳۰ آذر

علوم دوم دبستان - طراحی ، پیام رمز پیدا کن ۳ - ۲ سوال -

۱۹- چند مورد از موارد زیر، درست هستند؟

الف) در ساعت آفتابی سایه تشکیل نمی‌شود.

ب) کرم شب تاب یک چشمه‌ی نور است.

ج) نور و صدا برای کسب اطلاعات کاربرد فراوانی دارد.

(۴) سه

(۳) دو

(۲) یک

(۱) صفر

آزمون ۳۰ آذر

۲۰- در خیابان‌های شلوغ از کدام یک برای راهنمایی راننده‌ها استفاده نمی‌شود؟

(۲) تابلوی راهنمایی و رانندگی

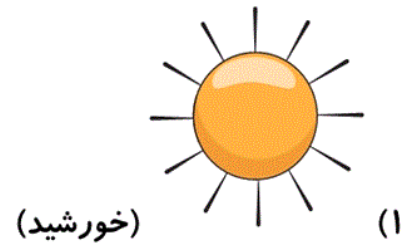

(۱) چراغ راهنمایی و رانندگی

(۴) گزینه‌های «۱» و «۲»

(۳) سوت

آزمون ۳۰ آذر

۱۷- کدام یک از موارد زیر، چشمه‌ی نور نیست؟



آزمون ۳۰ آذر