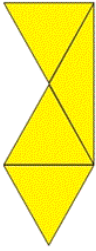


ریاضی دوم دبستان - طراحی ، **یادآوری شکل های هندسی** - ۱ سوال -

۱- در شکل زیر چند مثلث وجود دارد؟



(۱) ۴ مثلث

(۲) ۶ مثلث

(۳) ۷ مثلث

(۴) ۸ مثلث

آزمون ۳۰ آذر

ریاضی دوم دبستان - طراحی ، **روابط بین شکل ها** - ۱ سوال -

۲- کدام گزینه، شباهت های مربع و مستطیل را نشان می دهد؟

(۱) مربع ۴ ضلع و ۴ گوشه - مستطیل ۴ ضلع و ۴ گوشه

(۲) مربع ۴ ضلع و ۴ گوشه - مستطیل ۴ ضلع و ۳ گوشه

(۳) مربع ۴ ضلع و ۳ گوشه - مستطیل ۴ ضلع و ۴ گوشه

(۴) مربع ۳ ضلع و ۴ گوشه - مستطیل ۳ ضلع و ۴ گوشه

آزمون ۳۰ آذر

ریاضی دوم دبستان - طراحی ، **حل مسئله** - ۱ سوال -

۶- ساعت ۵ است، یک ساعت و ربع دیگر ساعت چند است؟

(۲) ۶ و ربع

(۱) ۵ و ربع

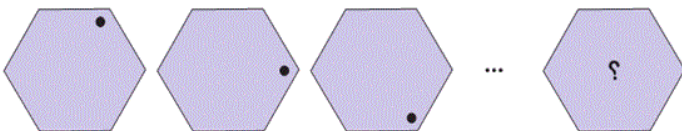
(۴) ۶

(۳) ۵ و نیم

آزمون ۳۰ آذر

ریاضی دوم دبستان - طراحی ، **الگویابی** - ۲ سوال -

۷- ششمین شکل در الگوی زیر به چه صورت است؟

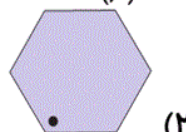


(۱)

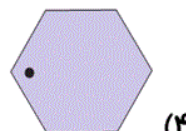
(۲)

(۳)

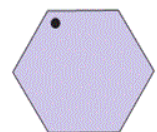
(۴)



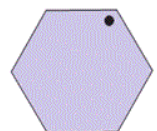
(۲)



(۴)

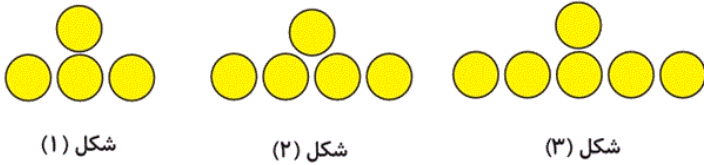


(۱)



(۳)

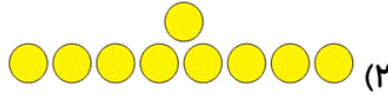
۳- اگر الگوی زیر را ادامه دهیم، شکل ششم کدام خواهد بود؟



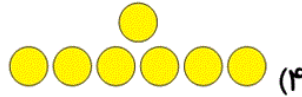
شکل (۱)

شکل (۲)

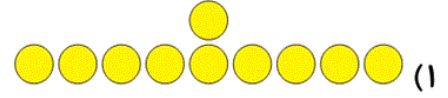
شکل (۳)



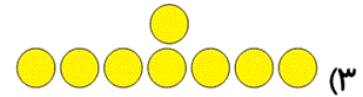
(۲)



(۴)



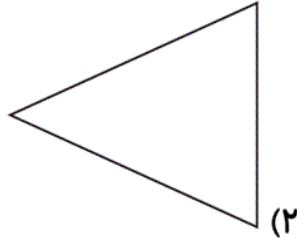
(۱)



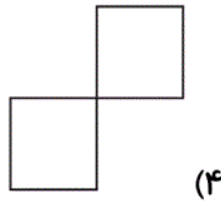
(۳)

ریاضی دوم دبستان - طراحی، **تقارن** - ۲ سوال -

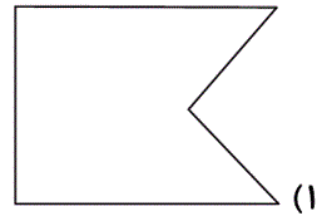
۹- کدام یک از شکل‌های زیر خط تقارن ندارد؟



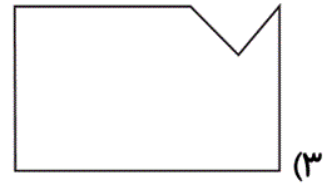
(۲)



(۴)




(۱)

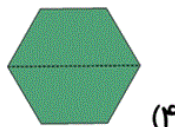


(۳)

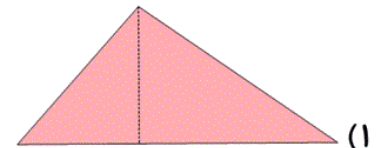
۵- در کدام شکل خط تقارن به درستی رسم نشده است؟



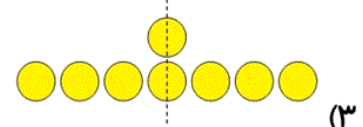
(۲)



(۴)



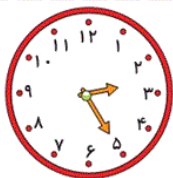
(۱)



(۳)

ریاضی دوم دبستان - طراحی، **مرور فصل** - ۱ سوال -

۴- ساعت چند است؟




(۲) 03 : 20

(۴) 02 : 20

(۱) 03 : 25

(۳) 02 : 25

۱- سکه‌های زیر مجموعاً چند ریال می‌باشند؟



(۲) ۴۵ ریال

(۱) ۴۴ ریال

(۴) ۵۳ ریال

(۳) ۵۴ ریال

آزمون ۳۰ آذر

..... , ۷۰ , .....

۸- قبل و بعد از عدد ۷۰ کدام عددهای ده‌تایی هستند؟

(۲) ۷۰ - ۹۰

(۱) ۸۰ - ۹۰

(۴) ۶۰ - ۹۰

(۳) ۶۰ - ۸۰

آزمون ۳۰ آذر