

**\*\* با توجه به ابیات زیر، به سوالات ۷۱ تا ۷۳ پاسخ دهید.**

(الف) مردن اندر شیرمردی بهتر از ننگ فرار / کآدمی را عاقبت سیل فنا در معبر است

(ب) مردن از هر چیز در عالم بتر باشد ولی / بنده‌ی بیگانگان بودن ز مردن بدتر است

(ج) فقر در آزادگی به از غنا (ثروت) در بندگی / گاو فربه (چاق) بی‌گمان صید پلنگ لاغر است

(د) از خدا غافل مشو یک لحظه در هر کارکرد / چون تو باشی با خدا هر جا خدایت یاور است

(ه) تکیه‌گاهی نغز تر (خوش‌تر) از علم و استغنا مجوی / هر که دارد علم و استغنا (توانگری) شه (شاه) بی‌افسر است

**۷۱- تعداد جملات کدام بیت با سایر ابیات متفاوت است؟**

(۱) ه (۲) الف (۳) ج (۴) ب

آزمون ۳۰ آذر

**۷۲- در کدام بیت، کلمات متضاد وجود دارد؟**

(۱) د (۲) ه (۳) ج (۴) ب

آزمون ۳۰ آذر

**۷۳- بیت «ب» با کدام یک از ابیات زیر ارتباط معنایی دارد؟**

(۱) دلم شکایت بیگانگان چگونه کند / چو بر من این همه از آشنا همی آید

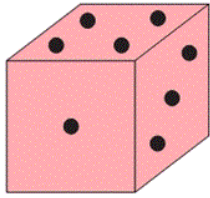
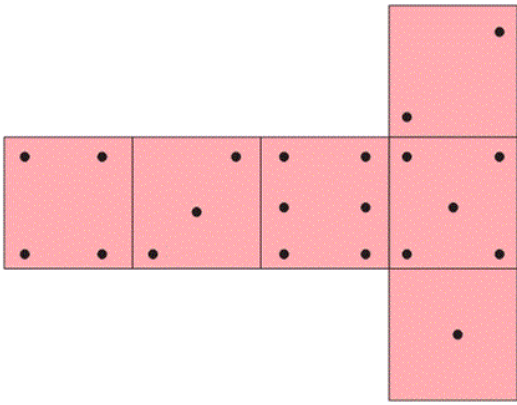
(۲) من از بیگانگان هرگز ننالم / که با من هرچه کرد آن آشنا کرد

(۳) هیچ می‌دانی چرا بیگانگان بر روی تو / خوب می‌خندند؟ زیرا بار بهتر می‌کشی

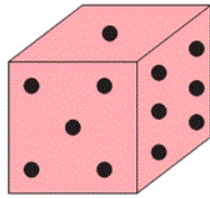
(۴) خانه‌ای کاو شد از دست اجانب (بیگانگان) آباد / ز اشک ویران کنش آن خانه که بیت‌ال‌حزن (خانه‌ی غم) است

آزمون ۳۰ آذر

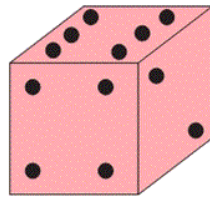
۷۴- اگر باز شده‌ی تاس به شکل زیر باشد کدام گزینه نمی‌تواند این تاس باشد؟



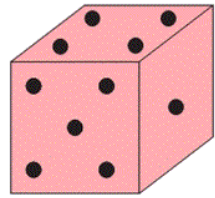
(۴)



(۳)



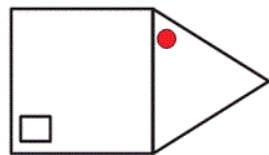
(۲)



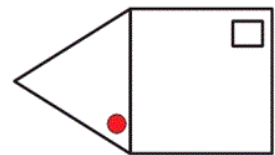
(۱)

آزمون ۳۰ آذر

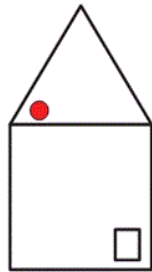
۷۵- با توجه به شکل‌های زیر، کدام گزینه با بقیه تفاوت دارد؟



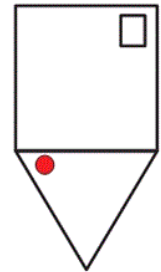
(۲)



(۱)



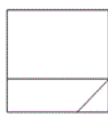
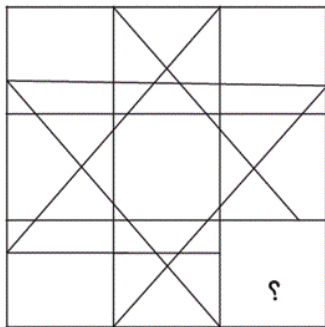
(۴)



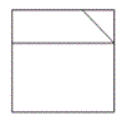
(۳)

آزمون ۳۰ آذر

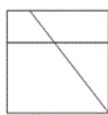
۷۶- کدام گزینه می‌تواند به جای علامت سؤال قرار گیرد؟



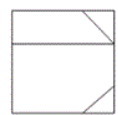
(۲)



(۱)






(۴)



(۳)

آزمون ۳۰ آذر

۷۷- با توجه به جدول حاصل عبارت‌های (آ)، (ب) و (پ) به ترتیب از راست به چپ کدام است؟

			
(۱)	۱	آ	۳
(۲)	۲	۵	ب
(۳)	پ	۴	۱

(۱) ۵-۳-۱

(۲) ۲-۲-۲

(۳) ۳-۴-۴

(۴) ۳-۲-۴

آزمون ۳۰ آذر

۷۸- قورباغه‌ای قصد دارد مسیر یک خیابان را طی کند. اگر او روی هر خانه‌ای که قرار دارد به تعداد عدد روی آن

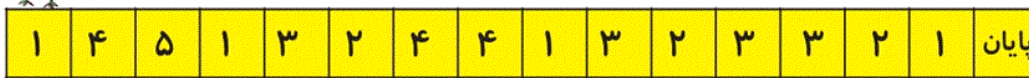
خانه به جلو بپرد، بعد از چند پرش او به انتهای خیابان می‌رسد؟

(۱) ۴ پرش

(۲) ۵ پرش

(۳) ۶ پرش

(۴) ۷ پرش



آزمون ۳۰ آذر

۷۹- با توجه به الگوی اعداد زیر، به جای الف و ب کدام عدد قرار می‌گیرد؟ (به ترتیب از راست به چپ)

(۱) ۲-۸

(۲) ۴-۸

(۳) ۸-۴

(۴) ۷-۳

	۵	
۱۷	۱۳	ب
	الف	

	۳	
۱۴	۹	۵
	۶	

	۱۳	
۲۴	۲۰	۴
	۷	

آزمون ۳۰ آذر

۸۰- با توجه به الگوی شکل زیر به جای علامت سؤال چه عددی قرار می گیرد؟

$$۱۷۳ = ۱۱$$

$$۹۶۲ = ۱۷$$

$$۴۶۵۳ = ۱۸$$

$$۵۹۹ = \boxed{?}$$

۲۳ (۱)

۱۹ (۲)

۲۰ (۳)

۲۵ (۴)

آزمون ۳۰ آذر