



با مجوز رسمی از وزارت آموزش و پرورش
و سازمان منطقه آزاد کیش

بر اساس آزمون ۷ دیماه کانون

تمرینات دوره ای

سال تحصیلی ۱۴۰۳-۱۴۰۴

پایه چهارم ابتدائی

۲, ۵, ۱۱, ۲۳, ...

۱- اگر الگوی عددی زیر را ادامه دهیم، عدد پنجم الگو کدام می‌تواند باشد؟

(نمونه سوالات امتحانی دبستان سرای دانش - اسلام شهر)

۳۶ (۴)

۳۷ (۳)

۴۷ (۲)

۴۰ (۱)

آزمون ۷ دی

۲- در کدام گزینه رقم مربوط به یکان میلیون و یکان هزار، هر دو، صفر است؟

(نمونه سوالات امتحانی دبستان سما - اردبیل)

۵۰۰۰۰۲۴۲۰ (۲)


۵۰۳۰۴۰۰۸ (۱)

۵۱۴۱۰۳۰۸ (۴)

۴۰۰۹۲۰۰۱۰ (۳)

آزمون ۷ دی

۳- عبارت مربوط به شکل زیر (مثلث‌های رنگی) کدام است؟ (نمونه سوالات امتحانی دبستان نجف‌آباد - کردستان)



$$\frac{5}{11} + \frac{3}{11} = \frac{8}{11} \quad (۴)$$

$$\frac{8}{11} - \frac{5}{11} = \frac{3}{11} \quad (۳)$$

$$\frac{3}{8} + \frac{4}{8} = \frac{7}{8} \quad (۲)$$

$$\frac{5}{8} + \frac{3}{11} = \frac{3}{11} \quad (۱)$$

آزمون ۷ دی

۴- فاصله‌ی ملایر تا مشهد ۱۲۰۰ کیلومتر است. قطاری در هر یک ساعت، $\frac{1}{13}$ این مسافت را طی می‌کند. اگر قطار

ساعت ۶ صبح از ملایر حرکت کرده باشد، در ساعت ۱۵ چه کسری از مسیر را طی کرده و چند کیلومتر از مسیر باقیمانده است؟ (قطار تا ساعت ۱۵ توقف نداشته است).

(نمونه سوالات امتحانی دبستان خرد - کرچ)

(۱) قطار $\frac{9}{13}$ مسیر را طی کرده و ۲۰۰ کیلومتر باقی مانده است.

(۲) قطار $\frac{11}{13}$ مسیر را طی کرده و ۱۰۰ کیلومتر باقی مانده است.

(۳) قطار $\frac{9}{13}$ مسیر را طی کرده و ۳۰۰ کیلومتر باقی مانده است.

(۴) قطار $\frac{11}{13}$ مسیر را طی کرده و ۲۰۰ کیلومتر باقی مانده است.

آزمون ۷ دی

۵- فاطمه ۱۱ جعبه شکلات دارد که در هر کدام ۱۲ شکلات وجود دارد. اگر او هر روز ۳ شکلات بخورد، پس از ۵

هفته چند شکلات برایش باقی مانده است؟ (نمونه سوالات امتحانی دبستان علامه طباطبائی - تهران)

(۲) ۲۷

(۱) ۱۷

(۴) ۳۷

(۳) ۱۱۷

آزمون ۷ دی

$$32 \times 59 \times 18 =$$

۶- مقدار تقریبی با توجه به رقم دهگان عبارت روبه‌رو کدام است؟

(نمونه سوالات امتحانی دبستان ساعی - تپریز)

(۲) ۳۶۰۰

(۱) ۳۰۰۰

(۴) ۳۶۰۰۰

(۳) ۳۰۰۰۰

آزمون ۷ دی

(نمونه سوالات امتحانی دبستان توحید - شیراز)

۷- باقیمانده تقسیم کدام گزینه، عددی زوج است؟

(۲) ۱۷ بر ۷

(۱) ۲۸ بر ۵

(۴) ۴۵ بر ۸

(۳) ۳۵ بر ۳

آزمون ۷ دی

۸- خارج قسمت تقسیم $6 \div 130$ بر کدام یک از اعداد زیر بخش پذیر است؟

(نمونه سوالات امتحانی دبستان شایستگان - تبریز)

(۲) ۳ و ۵

(۱) ۳ و ۷

(۴) ۲ و ۷

(۳) ۲ و ۵

آزمون ۷ دی

۹- اختلاف خارج قسمت و باقی مانده تقسیم زیر کدام است؟ (نمونه سوالات امتحانی دبستان معرفت ولیعصر - تبریز)

۸۷۵ | ۲۳

(۲) ۳۷

(۱) ۳۶

(۴) ۳۹

(۳) ۳۸

آزمون ۷ دی

۱۰- در تقسیم عدد ۱۱۶۱ بر ۳۲، خارج قسمت باقیمانده است.

(نمونه سوالات امتحانی دبستان علامه طباطبائی - تهران)

(۲) ۴ برابر

(۱) ربع

(۴) ۵ برابر

(۳) خمس

آزمون ۷ دی

(نمونه سوالات امتحانی دبستان معرفت ولیعصر - تهران)

۱۱- کدام گزینه یک مخلوط یک‌نواخت است؟

(۲) شربت خاکشیر

(۱) آب و روغن

(۴) سالاد

(۳) آب و نمک هم‌زده

آزمون ۷ دی

۱۲- در کدام گزینه، انرژی صوتی می‌تواند به انرژی دیگری تبدیل شده باشد؟

(نمونه سوالات امتحانی دبستان دکتر حسینی - شیراز)

(۲) حرکت خودرو

(۱) شکستن شیشه با عبور هواپیما

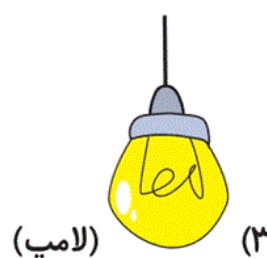
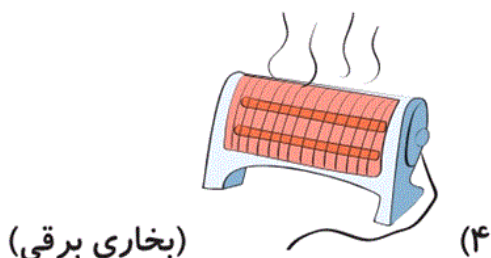

(۴) خنک شدن هوا با پنکه

(۳) روشن شدن لامپ نفتی

آزمون ۷ دی

۱۳- با توجه به تبدیل انرژی الکتریکی به انرژی‌های دیگر در وسایل مختلف، کدام گزینه متفاوت است؟

(نمونه سوالات امتحانی دبستان علوم پزشکی - شیراز)



آزمون ۷ دی

(نمونه سوالات امتحانی دبستان مدرس نجف‌آبادی - سنندج)

۱۴- کدام گزینه رسانای بهتر گرما است؟

(۴) شیشه

(۳) آهن

(۲) پلاستیک

(۱) چوب

آزمون ۷ دی

۱۵- دمای یک بطری آب سرد ۱۰ درجه‌ی سلسیوس است با استفاده از روزنامه بطری را می پوشانیم و زیر آفتاب

قرار می دهیم. بعد از گذشت یک ساعت دمای آن را اندازه می گیریم دمای آب بطری در کدام گزینه به

(نمونه سوالات امتحانی دبستان غیرانتفاعی گل‌په‌ار - تپ‌رین)

درستی آمده است؟

۸۰ درجه (۴)

۶ درجه (۳)

۸ درجه (۲)

۱۲ درجه (۱)

آزمون ۷ دی

۱۶- سنگ‌ها به‌طور کلی در چه تعداد از موارد زیر با هم متفاوتند؟ (نمونه سوالات امتحانی دبستان شهید مدرس - سنندج)

«جنس - نوع اجزای تشکیل‌دهنده - اندازه - رنگ - سختی»

۳ (۲)

۲ (۱)

۵ (۴)

۴ (۳)

آزمون ۷ دی

۱۷- در کدام گزینه به ویژگی سنگ‌های پایین رودها اشاره شده است؟ (نمونه سوالات امتحانی دبستان شاهد - پم)

لبه‌های تیز (۲)

لبه‌های گرد (۱)

گزینه ۱ و ۳ (۴)

اندازه‌ی ریز (۳)

آزمون ۷ دی

(نمونه سوالات امتحانی دبستان ارسطو - تپ‌رین)

۱۸- کدام ویژگی لایه‌های سنگ‌های رسوبی نیست؟

(۱) لایه‌های مختلفی دارند.

(۲) رنگ لایه‌ها مختلف است.


(۳) لایه‌ها حفره‌های ریز و درشت دارند.

(۴) ضخامت لایه‌ها متفاوت است.


آزمون ۷ دی

۱۹- کدام یک از تصاویر زیر نشان دهنده سنگ آذرین است؟


(نمونه سوالات امتحانی دبستان ارسطو - تپریز)




(۲)



(۱)



(۴)



(۳)

آزمون ۷ دی

۲۰- کدام نوع از سنگ‌ها از بقیه محکم‌تر و سخت‌تر هستند؟

(نمونه سوالات امتحانی دبستان ارسطو - تپریز)

(۱) آذرین

(۲) دگرگونی

(۳) رسوبی

(۴) سختی سنگ‌ها کمابیش یکسان است.

آزمون ۷ دی

(نمونه سوالات امتحانی دبستان دین و دانش - اردیبه)

۲۱- در بین واژه‌های زیر، چند غلط معنایی وجود دارد؟

«غلام: نوکر - سربلندی: شرح حال - قافله: گروه هم‌سفر - دلهره: اندوه - رخسار: قامت - آویخت: آویزان شد - رزمنده: جنگجو - پی‌درپی: فراوان - حدس زدن: گمان کردن»

(۱) پنج (۲) چهار (۳) سه (۴) دو

آزمون ۷ دی

(نمونه سوالات امتحانی دبستان بحرالعلوم - تاکستان)

۲۲- نشانه‌ی نگارشی در کدام گزینه نادرست است؟

(۱) ای مرد دانا! هرچه می‌دانستی به جوانان ما آموختی.

(۲) اگر تو الاغ را ندیده‌ای، چطور نشانی‌هایش را دادی؟

(۳) آرش با خود زمزمه کرد: «مرا یاری کن.»

(۴) طفلکی بی‌بی؟ لابد به خاطر پیری است که به دنبال خدا نمی‌رود.

آزمون ۷ دی

(نمونه سوالات امتحانی دبستان الپرز - اراک)

۲۳- در کدام گزینه، همه‌ی کلمات از نظر املايي صحیح هستند؟

(۱) قنچه - قاتر - جیحون (۲) هیجان - صبحگاه - خرتوم

(۳) غار بزرگ - ضخامت - لطیف (۴) پیغام - صنوبر - ساهل

آزمون ۷ دی

۲۴- کلمات کدام گزینه به ترتیب از راست به چپ از نظر ساختار مشابه کلمات «کارنامه» و «خودبین» هستند؟

(نمونه سوالات امتحانی دبستان پژوهان - کرچ)

(۱) برنامه - خوددار (۲) سالنامه - خودرأی

(۳) خامه - خودشناس (۴) ماهانه - خودکار

آزمون ۷ دی

(نمونه سوالات امتحانی دبستان دین و دانش - اردیبه)

۲۵- بیت کدام گزینه نادرست است؟

(۱) شاپرک خواب نبود، پر زد از باغ و گذشت / هر چه را دید و شنید، برد تا پهنه‌ی دشت

(۲) گر خوش‌آواز بودی و خوش‌خوان / نبدی بهتر از تو در مرغان

(۳) برق چون شمشیر برآن / پاره می‌کرد ابرها را

(۴) دانه‌های گرد باران / رفته رفته گشت دریا

۲۶- با توجه به معنای جمله، در کدام گزینه واژه‌ای نادرست نوشته شده است؟

(نمونه سوالات امتحانی دبستان البرز - اراک)

۱) لیوان از دست مرجان افتاد و خورد شد.

۲) صدای مهبی از پشت کوه برخاست.

۳) پدر احساس کرد در میان همکارانش خوار شده است.

۴) آب حوض روی سنگ فرش حیاط ریخته شد.

۲۷- متن زیر از چند جمله تشکیل شده است؟

(نمونه سوالات امتحانی دبستان محراب - ساوه)

«سپاه ایران از رود جیحون رد می‌شد. آرش، خود را برای پرتاب تیر آماده کرد. با قدم‌های بلند از کوه بالا رفت

و استوار ایستاد. همه منتظر بودند و اشک می‌ریختند. آرش دست به دعا برداشت.»

۱) هفت

۲) نه

۳) شش

۴) هشت

۲۸- سخن زیر از چه کسی است و مفهوم آن چیست؟

(نمونه سوالات امتحانی دبستان بحرالعلوم - تاکستان)

«فکر کردن باید محور تلاش باشد.»

۱) آیت‌الله خامنه‌ای - تلاش کردن باید براساس فکر کردن صورت گیرد.

۲) امام خمینی (ره) - کسی که تلاش می‌کند، از کسی که فکر می‌کند، موفق‌تر است.

۳) آیت‌الله خامنه‌ای - کسی که فکر می‌کند، از کسی که تلاش می‌کند، موفق‌تر است.

۴) امام خمینی (ره) - تلاش کردن باید براساس فکر کردن صورت گیرد.

۲۹- در درس «طوطی و بازرگان» می‌خوانیم: «بازرگان، چشمش به طوطی‌ها بود که ناگهان دید یکی از آن‌ها به خود

لرزید و از بالای درخت افتاد و مرد.» این کار طوطی نشان‌دهنده‌ی چیست؟

(نمونه سوالات امتحانی دبستان البرز - اراک)

۱) طوطی از اسیر بودن دوست خود ناراحت شد.

۲) از دلتنگی و دوری دوستش (طوطی بازرگان)، غمگین شد.

۳) به دوستش (طوطی بازرگان)، راه‌هایی از بند قفس را آموخت.

۴) دوست داشت که طوطی بازرگان در شادی آن‌ها شریک باشد.

آزمون ۷ دی

(نمونه سوالات امتحانی دبستان معراج دانش - اردبیل)

۳۰- داستان زیر با کدام ضرب‌المثل ارتباط دارد؟

«مادربزرگم همیشه آرزو داشت که نقاش شود؛ اما فرصتش را پیدا نکرده بود. او پنج سال پیش به کلاس‌های

نقاشی رفت و امروز، پس از گذشت پنج سال، نمایشگاه نقاشی او را برگزار کردیم.»

۱) با یک گل بهار نمی‌شود.

۲) فلفل نبین چه ریزه، بشکن ببین چه تیزه.

۳) جوینده، یابنده است.

۴) کوه به کوه نمی‌رسد، آدم به آدم می‌رسد.

آزمون ۷ دی

(نمونه سوالات امتحانی دبستان محراب - ساوه)

۳۱- کدام گزینه نادرست است؟

- ۱) تولید جاجیم بین کشاورزان و عشایر دیده می‌شود.
- ۲) پرجمعیت‌ترین شهرهای ایران به ترتیب تهران، مشهد و تبریز هستند.
- ۳) قطب‌نما یک عقربه‌ی مغناطیسی دارد که نوک رنگی آن همیشه در جهت شمال قرار می‌گیرد.
- ۴) در جغرافیا، نقشه مهم‌ترین وسیله‌ی مطالعه است.

آزمون ۷ دی

۳۲- پاسخ پرسش‌های زیر به ترتیب در کدام گزینه آمده است؟ (نمونه سوالات امتحانی دبستان پورچندقی - رفسنجان)

- الف) علت پناه بردن انسان‌ها در گذشته‌های دور به غارها چه بود؟
- ب) اولین داد و ستدها چگونه بودند؟
- ج) فرمانروایان برای برقراری نظم در سرزمین خود، چه اقدامی انجام دادند؟
- ۱) در امان ماندن از حمله‌ی حیوانات - مبادله‌ی کالا با کالا - قانون وضع کردند.
- ۲) در امان ماندن از حمله‌ی حیوانات - انتخاب کالای خاص به عنوان وسیله‌ی مبادله - قانون وضع کردند.
- ۳) در امان ماندن از آتش رعد و برق - مبادله‌ی کالا با کالا - خط را اختراع کردند.
- ۴) در امان ماندن از آتش رعد و برق - انتخاب کالای خاص به عنوان وسیله‌ی مبادله - خط را اختراع کردند.

آزمون ۷ دی

۳۳- عبارات کدام گزینه به ترتیب جاهای خالی را به درستی پُر می‌کند؟

(نمونه سوالات امتحانی دبستان سرای دانش - پندر دیلم)

«..... گروهی از بودند که حدود چهار هزار سال پیش مهاجرت کردند و در

ایران ساکن شدند.»

(۱) مادها - آریایی‌ها - شمال غربی

(۲) پارت‌ها - مادها - غرب

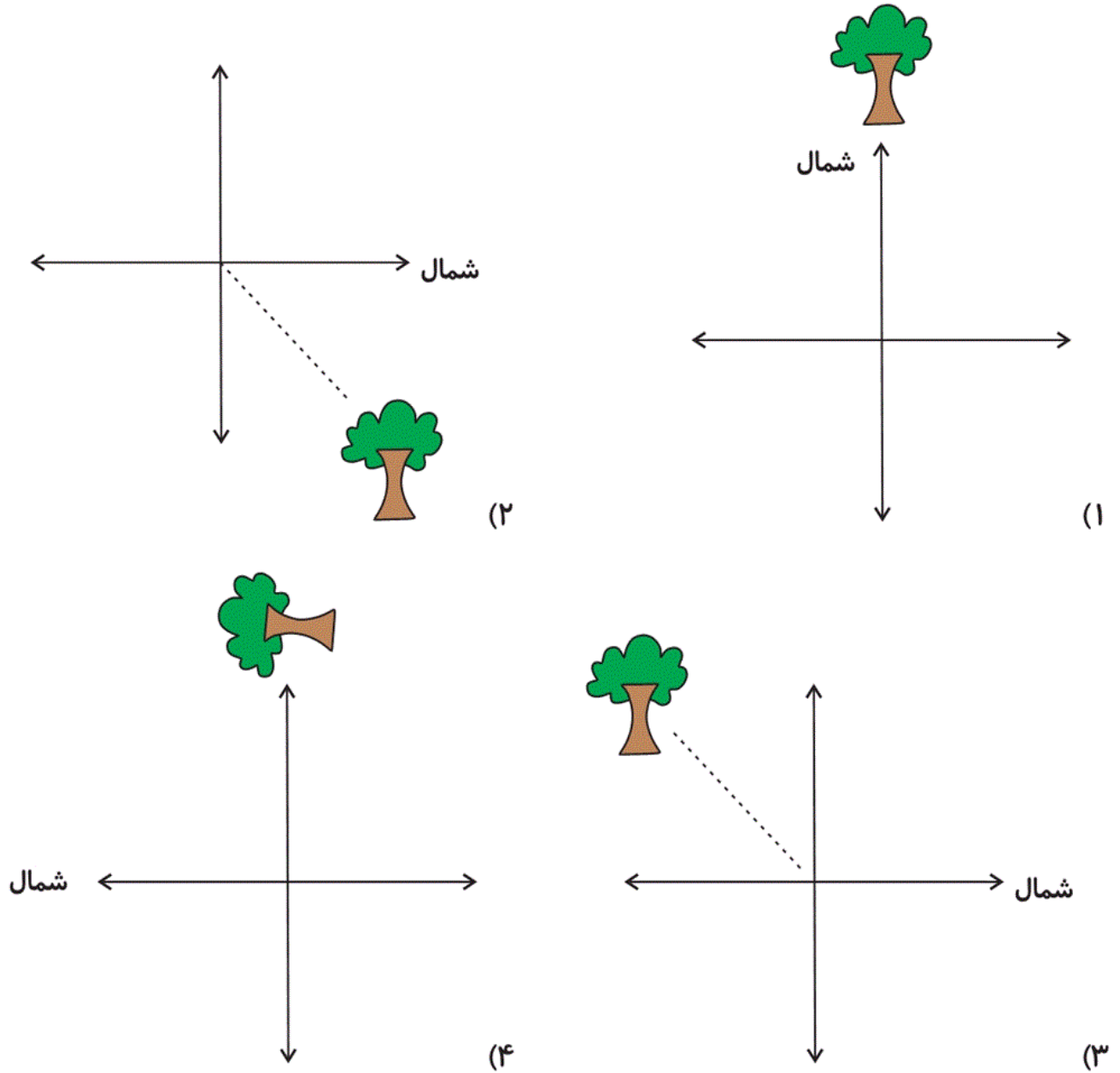
(۳) مادها - پارت‌ها - غرب

(۴) مادها - آریایی‌ها - غرب

۳۴- از دانش آموزان خواسته شده است نمودار جهت‌های جغرافیایی را رسم کنند و درخت را در جهت شمال شرقی

(نمونه سوالات امتحانی دبستان نادر اصغری - اردبیل)

قرار دهند. کدام فرد نمودار را به درستی کشیده است؟



آزمون ۷ دی

۳۵- از میان پرسش‌های زیر، کدام گزینه نمی‌تواند پرسش یک مورخ باشد؟

(نمونه سوالات امتحانی دبستان راهیان نور - قوچان)

(۱) چرا هخامنشیان از اسکندر شکست خوردند؟

(۲) آیا در تخت جمشید، اشیاء و وسایلی از دوران حمله اسکندر یافت می‌شود؟

(۳) اسکندر چگونه موفق شد هخامنشیان را شکست دهد؟

(۴) وضعیت مردم در دوران حمله اسکندر به ایران چگونه بود؟

۳۶- جاهای خالی عبارات زیر به ترتیب با عبارات کدام گزینه به درستی کامل می‌شوند؟

(نمونه سوالات امتحانی دبستان پژوهان - کرچ)

الف) طبق آیه‌ی ۴۳ سوره‌ی نساء، اگر برای وضو آب پیدا نکردیم،

ب) شاه چراغ امام رضا (ع) بود.

۱) می‌توانیم بدون وضو نماز بخوانیم - برادر

۲) باید با گلاب وضو بگیریم - پدر

۳) با هر خاکی می‌توانیم تیمم کنیم - پدر

۴) با خاک پاک تیمم می‌کنیم - برادر

آزمون ۷ دی

(نمونه سوالات امتحانی دبستان دین و دانش - اردبیل)

۳۷- کدام گزینه نادرست است؟

۱) در رکعت اول نماز فرادی، حمد و توحید خوانده می‌شود.

۲) در زلزله و خورشید گرفتگی، خواندن نماز آیات واجب است.

۳) نماز آیات، نمازی پنج رکعتی است که دو رکوع دارد.

۴) در نماز جماعت، بعد از تکبیر امام جماعت، تکبیر می‌گوییم.

آزمون ۷ دی

(نمونه سوالات امتحانی دبستان راهیان نور - قوچان)

۳۸- کدام گزینه نادرست است؟

۱) به مرقد و محل دفن امامان حرم گفته می‌شود.

۲) پدر امام رضا (ع)، امام جواد (ع) است.

۳) مأمون، امام رضا (ع) را به اجبار از مدینه به خراسان آورد.

۴) برای هم‌نشینی با امام رضا (ع) در بهشت باید به زیارت او برویم و نیکوکار باشیم.

آزمون ۷ دی

۳۹- کدام عبارت / عبارت‌ها نادرست است؟

(نمونه سوالات امتحانی دبستان گل یاس - کلوگاه)

الف) حضرت موسی (ع) برای هدایت قوم بنی‌اسرائیل فرستاده شدند.

ب) آسیه، مادر حضرت موسی (ع) بود.

ج) وقتی حضرت موسی (ع) به پیامبری رسید، فرعون به او ایمان آورد.

۴) فقط ب

۳) الف - ج

۲) ب - ج

۱) الف - ب

آزمون ۷ دی

۴۰- تیمم بر کدام مورد صحیح نیست؟

(نمونه سوالات امتحانی دبستان پژوهان - کرچ)

۱) ریگ

۲) سنگ

۳) چوب درخت

۴) شن

آزمون ۷ دی