



بر اساس آزمون ۷ دیماه کانون

تمرینات دوره ای

سال تحصیلی ۱۴۰۳-۱۴۰۴

پایه ششم ابتدائی

۱- یک قورباغه روی نقطه‌ی ۱۶- محور ایستاده است. اگر در هر پرش، این قورباغه ۳ واحد به سمت راست حرکت کند،

(نمونه سوالات امتحانی دبستان معلم - شهرپابک)

قورباغه روی کدام نقطه هرگز قرار نمی‌گیرد؟

- | | |
|--------|--------|
| -۷ (۱) | -۱ (۲) |
| ۲ (۳) | ۴ (۴) |

آزمون ۷ دی

۲- اگر عدد بیست و هشت میلیارد و هفت میلیون و هفده هزار و سی و شش را با عدد هشتاد و نه میلیارد و صد و بیست و پنج میلیون و هشتاد و هفت هزار و ده جمع کنیم، رقم یکان میلیون عدد به دست آمده کدام است؟

(نمونه سوالات امتحانی دبستان رازی - تهران)

- | | |
|-------|-------|
| ۴ (۱) | ۲ (۲) |
| ۶ (۳) | ۱ (۴) |

آزمون ۷ دی

۳- ایلیا هندوانه‌ای به جرم $۵\frac{۲}{۹}$ کیلوگرم خرید. اگر هندوانه‌ی ایلیا $۲\frac{۵}{۱۲}$ کیلوگرم کم‌تر از هندوانه‌ی حمید جرم داشته

(نمونه سوالات امتحانی دبستان حاج محمود فیض - شیراز)

باشد، جرم هندوانه‌ی حمید چند کیلوگرم است؟

- | | |
|----------------------|----------------------|
| $۲\frac{۲۹}{۳۶}$ (۱) | $۳\frac{۷}{۳۶}$ (۲) |
| $۷\frac{۷}{۲۱}$ (۳) | $۷\frac{۲۳}{۳۶}$ (۴) |

آزمون ۷ دی

(نمونه سوالات امتحانی دبستان نور ایمان - تهران)

۴- حاصل عبارت زیر کدام است؟

$$\frac{1\frac{1}{2} \times 1\frac{1}{3} \times 1\frac{1}{4} \times \dots \times 1\frac{1}{9}}{\frac{1}{2}}$$

- | | |
|-------------------|--------|
| ۵ (۱) | ۱۰ (۲) |
| $\frac{۵}{۲}$ (۳) | ۲۰ (۴) |

آزمون ۷ دی

۵- کدام یک از اعداد اعشاری زیر از $\frac{3}{4}$ بیشتر است؟

(نمونه سوالات امتحانی دبستان سما - اردیبهشت)

(۱) 0.0891

(۲) 0.8001

(۳) 0.4397

(۴) 0.099

آزمون ۷ دی

۶- حاصل عبارت زیر، تقریباً کدام است؟ (تقسیم‌ها را تا دو رقم اعشار ادامه دهید.)

(نمونه سوالات امتحانی دبستان ترنج - مشهد)

$(43/7 \div 5) + (35/98 \div 21)$

(۱) $8/7$

(۲) $10/45$

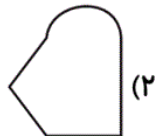
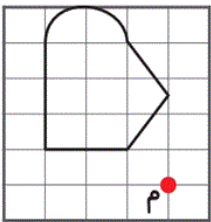
(۳) $11/41$

(۴) $21/7$

آزمون ۷ دی

۷- قرینه‌ی شکل زیر نسبت به نقطه‌ی «م»، کدام یک از گزینه‌های زیر است؟


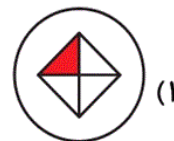
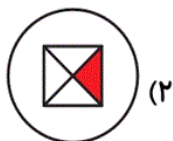

(نمونه سوالات امتحانی ترنج - مشهد)



آزمون ۷ دی

۸- کدام گزینه، چرخش ۱۸۰ درجه شکل زیر را در جهت عقربه‌های ساعت نشان می‌دهد؟

(نمونه سوالات امتحانی دبستان پویندگان - شهر پاک)



آزمون ۷ دی

۹- مادر سارینا $\frac{3}{5}$ کیلوگرم سیب‌زمینی خرید. $\frac{0}{2}$ برابر آن را برای نهار و $\frac{0}{25}$ برابر باقی‌مانده را برای شام استفاده کرد. چند کیلوگرم از سیب‌زمینی‌ها باقی مانده است؟

(نمونه سوالات امتحانی دبستان پویندگان - اعتصامی - بجنورد)

۱/۹ (۲)

۲/۱ (۱)

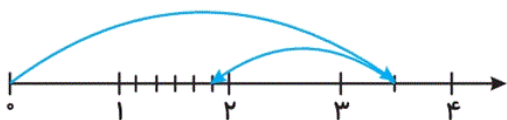
۱/۴۱ (۴)

۱/۸۳ (۳)

آزمون ۷ دی

(نمونه سوالات امتحانی دبستان پویندگان رسالت - مشهد)

۱۰- محور زیر، مربوط به کدام عبارت است؟



$1\frac{5}{6} - 1\frac{2}{3}$ (۲)

$3\frac{1}{2} - 1\frac{5}{6}$ (۱)

$3\frac{1}{2} - 1\frac{2}{3}$ (۴)

$3\frac{2}{3} - 1\frac{1}{2}$ (۳)

آزمون ۷ دی

۱۱- در کدام گزینه به ترتیب تعداد مواد طبیعی و مواد مصنوعی داخل پرانتز درست بیان نشده است؟

(نمونه سوالات امتحانی دبستان فرشتگان - کنگان)

۱) قرص (داروی شیمیایی) - کاغذ - اکسیژن - گل محمدی (۲ تا طبیعی - ۲ تا مصنوعی)

۲) شهاب سنگ - پنبه - چوب - آجر - سنگ (۴ تا طبیعی - ۱ مصنوعی)

۳) ماسه - کاغذ - فلز آهن - اکسیژن (۲ تا طبیعی - ۲ تا مصنوعی)

۴) سیمان - نیشکر - بنزین - چرم (۳ تا طبیعی - ۱ مصنوعی)

آزمون ۷ دی

(نمونه سوالات امتحانی دبستان رهنا - خوزستان)

۱۲- کدام گزینه توضیح درستی را ارائه می‌کند؟

۱) اسیدها: آن‌ها را به دو دسته‌ی خوراکی و صنعتی دسته‌بندی می‌کنند که اسیدهای خوراکی را با مزه‌ی تلخ آن‌ها می‌شناسند.

۲) فلزها: همه‌ی آن‌ها رسانای جریان برق و گرما هستند و در برابر زنگ زدن مقاوم‌اند.

۳) امواج لرزه‌ای: از سنگ‌های سخت و متراکم، تندتر و از سنگ‌های نرم و کم‌تراکم، کندتر عبور می‌کند.

۴) آتشفشان نیمه‌فعال: فقط مواد جامد از دهانه‌ی آن‌ها خارج می‌شود، مانند دماوند و تفتان

آزمون ۷ دی

(نمونه سوالات امتحانی دبستان فرشتگان - کنگان)

۱۳- چند مورد از گزاره‌های زیر درباره‌ی زمین‌لرزه‌ها درست است؟

الف) یکی از پدیده‌های طبیعی است.

ب) وقوع آن باعث آزاد شدن انرژی درونی زمین می‌شود.

ج) همه‌ی زمین‌لرزه‌ها باعث خرابی در سطح زمین می‌شوند.

د) حرکت قطعات سنگ‌کره روی خمیرکره می‌تواند باعث زمین‌لرزه شود.

۲) ۲ مورد

۱) ۱ مورد

۴) ۴ مورد

۳) ۳ مورد

آزمون ۷ دی

۱۴- یک شرکت تولید مواد پلاستیکی می‌خواهد کیسه‌هایی تولید کند که برای حمل وسایل سنگین مناسب‌تر باشد، به نظر

(نمونه سوالات امتحانی دبستان پسران علوم - تاکستان)

شما این پلاستیک‌ها از چه موادی ساخته شوند، بهتر است؟

(۱) مواد اصلی - زیرا زیباتر است.

(۲) مواد بازیافتی - زیرا هزینه‌ی کمتری دارد.

(۳) مواد بازیافتی - زیرا در مصرف پلاستیک صرفه‌جویی می‌شود.

(۴) مواد اصلی - زیرا مقاوم‌تر است.

آزمون ۷ دی

۱۵- با توجه به تقسیم‌بندی لایه‌های درونی زمین بر اساس حالت مواد تشکیل‌دهنده، بیشترین ضخامت مربوط به کدام

بخش است و ویژگی‌های آن بخش در کدام گزینه آمده است؟ (منظور از ضخامت در بخش مرکزی، شعاع آن بخش

(نمونه سوالات امتحانی دبستان رضوان - خدابنده)

است.)

(۱) خمیرکره - حالت خمیری دارد و ذخایر نفت، گاز و زغال‌سنگ در این بخش قرار دارند.

(۲) هسته‌ی خارجی - حالت جامد دارد و منشأ بیشتر آتش‌فشان‌ها است.

(۳) هسته‌ی داخلی - حالت جامد دارد و جنس سنگ‌های آن بیشتر از آهن و نیکل تشکیل شده است.

(۴) گوشته‌ی زیرین - حالت جامد دارد و جنس سنگ‌های آن با سنگ‌های پوسته و هسته متفاوت است.

آزمون ۷ دی

۱۶- در کدام گزینه تعداد فواید و ضررهای آتش‌فشان‌ها داخل پرانتز درست بیان نشده است؟

(نمونه سوالات امتحانی دبستان نوآوران اندیشه - خواف)

(۱) ایجاد سونامی - تشکیل دریاچه - ریزش خاکستر - جریان گدازه (۱ فایده - ۳ ضرر)

(۲) انتشار گازهای سمی - مطالعه‌ی ساختمان درونی زمین - توسعه‌ی گردشگری - ایجاد زمین‌های کشاورزی (۲ فایده - ۲ ضرر)

(۳) چشمه‌های آب گرم معدنی - ریزش باران‌های اسیدی - تغییرات آب‌وهوایی - تشکیل جزایر (۲ فایده - ۲ ضرر)

(۴) ریزش خاکستر - انرژی زمین‌گرمایی - تشکیل مصالح ساختمانی - توسعه‌ی گردشگری (۳ فایده - ۱ ضرر)

آزمون ۷ دی

۱۷- چه تعداد از موارد زیر در مورد نیرو درست بیان شده است؟

(نمونه سوالات امتحانی دبستان شفق مهر - آذربایجان شرقی)

آ: برای متوقف کردن جسم در حال حرکت باید به آن نیرو وارد کنیم.

ب: اثر نیرو به شکل‌های گوناگون می‌تواند ظاهر شود.

پ: اگر دو نیروی هم‌اندازه، در یک امتداد و در خلاف جهت هم باشند، همدیگر را خنثی می‌کنند.

ت: زمانی جهت حرکت جسم تغییر می‌کند که به آن نیرو وارد شود.

(۴) چهار مورد

(۳) سه مورد

(۲) دو مورد

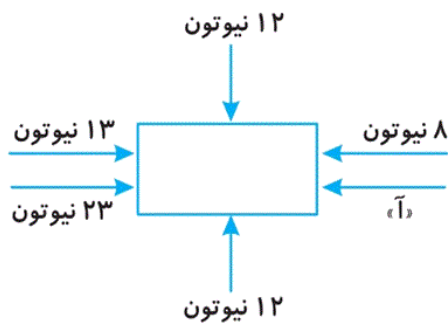
(۱) یک مورد

آزمون ۷ دی

۱۸- با توجه به شکل زیر، مقدار «آ» کدام گزینه باشد تا جسم به سمت چپ حرکت کند؟ (هریک از فلش‌ها، نشانه‌ی

نیروهای وارد بر جسم در جهت نشان داده شده هستند.)

(نمونه سوالات امتحانی دبستان مفتاح - مشهد)



(۱) ۱۹ نیوتون

(۲) ۲۳ نیوتون

(۳) ۱۳ نیوتون

(۴) ۲۹ نیوتون

آزمون ۷ دی

۱۹- در کدام دسته از موارد زیر، وارد کردن نیرو به ترتیب از راست به چپ موجب شروع حرکت، تغییر جهت حرکت و

توقف جسم می‌شود؟

(نمونه سوالات امتحانی دبستان روش نوین - مشهد)

(۱) پرتاب کردن مایه به سمت بالا - رکاب زدن دوچرخه - ترمز کردن دوچرخه

(۲) رها کردن تیر از کمان - حرکت لباس‌ها در ماشین لباسشویی در حال چرخش - مهار کردن توپ توسط دروازه‌بان

(۳) رکاب زدن دوچرخه‌ی در حال حرکت - حرکت الاکلنگ - فشردن پدال ترمز

(۴) هل دادن اتومبیل - برداشتن وزنه سنگین - ترمز کردن دوچرخه

آزمون ۷ دی

۲۰- با توجه به موارد بیان شده از «مفاهیم نیرو»، به محمدرضا کمک کنید تا گزینه درست را پیدا کند.

(نمونه سوالات امتحانی دبستان نفیس - مشهد)

(آ) جسم همیشه در جهت نیروی وارد شده به آن، حرکت می‌کند.

(ب) برای آن که اثر نیرو ظاهر شود، باید حداقل بیش از دو جسم بر هم اثر کنند.

(پ) نیرو می‌تواند منجر به تغییر شکل و یا تغییر جهت حرکت اجسام شود؛ اما نمی‌تواند جسم متحرک را متوقف کند.

(ت) به هر جسمی نیرو وارد کنیم، آن جسم نیز به ما نیرو وارد می‌کند.

(۱) مورد «آ» همانند مورد «ب»، نادرست بیان شده است.

(۲) مورد «ت» نادرست بیان شده است؛ برای مثال، وقتی به توپ فوتبال ضربه می‌زنیم (نیرو وارد می‌کنیم)، توپ هیچ نیرویی به

پای ما وارد نمی‌کند.

(۳) مورد «ب» برخلاف مورد «پ»، درست بیان شده است.

(۴) اگر به دیواری نیرو وارد کنیم و آن دیوار ساکن بماند، از ویژگی مورد «ت» استفاده نموده‌ایم و نیروی خالص وارد شده به

دیوار عددی مثبت است. (مثبت: عددی بزرگ‌تر از عدد صفر)

آزمون ۷ دی

۲۱- در کدام گزینه، معنی یک یا چند واژه نادرست بیان شده است؟

(نمونه سوالات امتحانی دبستان سرای دانش - پندر دیلم)

(۱) تجلی: پیدا شدن - افزایش: زیاد کند - احسان: نیکوکاری

(۲) سهل: ساده - می‌رمید: فرار می‌کرد - آزرده‌خاطر: ملول

(۳) نغمه: آهنگ - گرانبها: باارزش - دادگر: عادل

(۴) اشرف: گرامی‌تر - جان‌فشانی: جان‌دوستی - ناگوار: غیرقابل تحمل

آزمون ۷ دی

۲۲- در کدام گزینه، نادرستی املائی وجود دارد؟

(نمونه سوالات امتحانی دبستان سرای دانش - پندر دیلم)

(۱) لقرید - اتحاد - فضل

(۲) نصیحت - صادقانه - هیئت

(۳) صحنه - محاصره - غفلت

(۴) طمع - قصد فریب - تلفظ

آزمون ۷ دی

۲۳- در کدام گزینه شعر نوشته شده، نادرست است؟

(نمونه سوالات امتحانی دبستان ترنج دانش - مشهد)

(۱) لاف از سخن چو دُر توان زد / آن خشت بود که پر توان زد

(۲) گر بود اختیار جهانی به دست من / می‌ریختم تمام جهان را به پای تو

(۳) گر رسد دشمنی برای وطن / جان و دل، رایگان بیفشانیم

(۴) اشرف و انجب تمام ملل / یادگار همین دورانیم

آزمون ۷ دی

۲۴- چه تعداد از کلمات زیر، می‌توانند با «ان» جمع بسته شوند؟

(نمونه سوالات امتحانی دبستان سرای دانش - پندر دیلم)

«مسجد - دشمن - اسلام - چشم - فرش - بار - ابرو»

- (۱) سه
(۲) یک
(۳) چهار
(۴) دو

آزمون ۷ دی

۲۵- در کدام گزینه، «نهاد» به درستی مشخص شده است؟

(نمونه سوالات امتحانی دبستان ترنج دانش - مشهد)

- (۱) نشانی داده‌اند از دیده‌ی خویش
(۲) کم گوی و گزیده گوی، چون دُر
(۳) مادر خویش را نگهبانیم
(۴) فروریخت چون رود، خون از برش

آزمون ۷ دی

۲۶- در کدام گزینه، آرایه‌ی تشبیه وجود دارد؟

(نمونه سوالات امتحانی دبستان پرتراژ ارجان - ارومیه)

- (۱) چرا زرد شد دهر بی‌مهرگان / ازیرا که چون کوه شد، آسمان
(۲) من بدین خوبی و زیبایی ندیدم روی را / وین دلاویزی و دلبندی نباشد موی را
(۳) ما را همه شب نمی‌برد خواب / ای خفته‌ی روزگار، دریاب
(۴) معلمت همه شوخی (طنازی) و دلبری آموخت / جفا (ستم) و ناز و عتاب (سرزنش) و ستمگری آموخت

آزمون ۷ دی

۲۷- هر یک از آثار زیر به ترتیب متعلق به کدام شاعر یا نویسنده است؟

(نمونه سوالات امتحانی دبستان پسران علوم - تاکستان)

«انوار سهیلی - سندبادنامه - ترجمه‌ی تاریخ طبری - کیمیای سعادت - لیلی و مجنون»

- (۱) شیخ محمود شبستری - ظهیری سمرقندی - ابوعلی بلعمی - نادر ابراهیمی - سعدی
(۲) واعظ کاشفی - ظهیری سمرقندی - ابوعلی بلعمی - امام محمد غزالی - نظامی
(۳) مولوی - شیخ محمود شبستری - ظهیری سمرقندی - امام محمد غزالی - سعدی
(۴) واعظ کاشفی - ابوعلی بلعمی - ظهیری سمرقندی - واعظ کاشفی - نظامی

آزمون ۷ دی

(نمونه سوالات امتحانی دبستان ترنج دانش- مشهد)

- ۱) صبا به لطف بگو آن غزال رعنا را / که سر به کوه و بیابان تو داده‌ای ما را
- ۲) حافظا در کنج فقر و خلوت شب‌های تار / تا بود وردت دعا و درس قرآن، غم مخور
- ۳) همه گویند طاهر کس نداره / خدا یار منه، چه حاجت کس
- ۴) تو به صورت رفته‌ای ای بی‌خبر / زان ز شاخ معنی‌ای بی‌بار و بر

آزمون ۷ دی

۲۹- بیت کدام گزینه مفهومی متفاوت با سایر ابیات دارد؟

(نمونه سوالات امتحانی دبستان روش نوین- یزد)

- ۱) سرّ من از ناله‌ی من دور نیست / لیک چشم و گوش را آن نور نیست
- ۲) عشق را خواهی که تا پایان بری / بس که بپسندید باید ناپسند
- ۳) تن ز جان و جان ز تن مستور (پوشیده) نیست / لیک گس را دید جان دستور نیست
- ۴) خرد را نیست تاب نور آن روی / برو از بهر او، چشم دگر جوی

آزمون ۷ دی

۳۰- با توجه به متن زیر، کدام گزینه نادرست است؟

(نمونه سوالات امتحانی دبستان ترنج دانش- مشهد)

- «من پیوسته بر زبان شما جاری هستم و با گوش، چشم، ذهن و بلکه جانتان همراهم. شما نیز بکوشید که همواره با هم و نگهبان میهن باشیم. وطن، خانه‌ی شماسست و من عامل پیوستگی همه‌ی اعضای این خانه‌ام. شناسنامه و سند شناخت شما در هر جای ایران و در هر گوشه‌ی جهان، زبان فارسی است.»
- ۱) زبان فارسی با ذهن و روح ایرانیان در ارتباط است.
 - ۲) در همه جای دنیا، مردم ایران را با زبان فارسی می‌شناسند.
 - ۳) برای حفظ و نگهداری زبان فارسی، باید آن را در همه جای دنیا نشان دهیم.
 - ۴) زبان فارسی باعث پیوستگی مردم ایران می‌شود.

آزمون ۷ دی

(نمونه سوالات امتحانی دبستان عارف - تهران)

۴۱- کدام گزینه در مورد حکومت صفویه نادرست است؟

- ۱) صفویان مذهب سنی را مذهب رسمی کشور اعلام کردند.
- ۲) برخی کتیبه‌های مسجد امام به قلم استاد علیرضا عباسی نوشته شده است.
- ۳) مسجد شیخ لطف‌الله، به دستور شاه عباس صفوی ساخته شد.
- ۴) دشمنان صفویه در غرب، عثمانی‌ها و در شرق، ازبکان بودند.

آزمون ۷ دی

(نمونه سوالات امتحانی دبستان حاتمی - مشهد)

۴۲- چه تعداد از موارد زیر نادرست است؟

- الف) دین اسلام از سرزمین عربستان طلوع کرد.
- ب) قبل از رحلت پیامبر (ص)، اسلام در خارج از شبه‌جزیره‌ی عربستان گسترش یافت.
- ج) اروپاییان سهم بسیار بزرگی در گسترش اسلام و پیشرفت‌های علمی داشتند.
- د) دانشگاه جندی‌شاپور در اهواز در زمان ساسانیان بنیان‌گذاری شده بود.

۲) یک

۱) صفر

۴) سه

۳) دو

آزمون ۷ دی

(نمونه سوالات امتحانی دبستان ۲۲ بهمن - ارومیه)

۴۳- کدام گزینه در مورد تصمیم‌گیری نادرست است؟

- ۱) هنگام تصمیم‌گیری، اولین کاری که باید انجام دهیم این است که درباره‌ی موضوع با دیگران مشورت کنیم.
- ۲) بعد از این که فهمیدیم راه‌حل‌های متفاوتی وجود دارد، باید نتیجه‌ی هر انتخاب را پیش‌بینی کنیم.
- ۳) در آخرین مرحله از تصمیم‌گیری، بهترین راه را انتخاب می‌کنیم.
- ۴) علاوه بر تصمیم‌گیری ناگهانی و بدون فکر، تصمیم‌گیری را به زمان آینده موکول کردن نیز کار صحیحی نیست.

۴۴- عبارت زیر با کدام حدیث امام علی (ع) ارتباط دارد؟

(نمونه سوالات امتحانی دبستان ترنج دانش - مشهد)

«مودت (دوستی) اهل صفا، چه در روی و چه در قفا (پشت سر) / نه چنان کز پست عیب گیرند و پیشت بیش میرند»

(۱) کسی را برای دوستی انتخاب کن که تو را از بدی‌ها و کارهای نامناسب باز دارد.

(۲) دوست کسی است که در پشت سر هم صادق باشد.

(۳) هر کس ادب ندارد، عقل هم ندارد.

(۴) بدترین افراد کسانی هستند که بین دوستان جدایی می‌اندازند.

۴۵- کدام گزینه نا درست است؟

(نمونه سوالات امتحانی دبستان شهید ناهیدی - تهران)

(۱) موادی مانند بذر و کود، از جمله عوامل انسانی مؤثر در کشاورزی هستند.

(۲) خرما، گوجه‌فرنگی و هویج، از محصولات زراعتی هستند.

(۳) بیش از نیمی از برنج کشور ما، در استان‌های شمالی کشور تولید می‌شود.

(۴) سیب از جمله محصولاتی است که در سردخانه نگهداری می‌شود و بعد با کامیون و وانت به میدان‌های میوه و تره‌بار می‌رود.

(نمونه سوالات امتحانی دبستان محراب - ساوه)

۳۶- کدام مورد یا موارد نادرست هستند؟

- الف) دعای کمیل از امام علی (ع) است و معمولاً شب‌های جمعه خوانده می‌شود.
 ب) بعد از پیامبر (ص)، معاویه به جنگ با امام حسین (ع) پرداخت.
 ج) عبارت «در کار دیگران تجسس نکنید» نوعی امر به معروف است.
 ۱) «الف» و «ب»
 ۲) «ب» و «ج»
 ۳) فقط «ب»
 ۴) «الف» و «ج»

آزمون ۷ دی

۳۷- با توجه به عبارات زیر، کدام گزینه صحیح است؟

(نمونه سوالات امتحانی دبستان پرتان دانش - پهبان)

- الف) نام اسب امام حسین (ع)، ذوالجلال است.
 ب) شیخ حسن حلی در حال صلوات فرستادن بود که امام زمان (عج) را دید.
 ج) دوران غیبت صغری، ۶۹ سال طول کشید.
 د) در دوران غیبت امام زمان (عج)، پنج نفر به نوبت جانشین ایشان شدند.
 ۱) موارد «الف» و «ج» نادرست و موارد «ب» و «د» درست هستند.
 ۲) موارد «الف» و «ب» درست و موارد «ج» و «د» نادرست هستند.
 ۳) موارد «الف»، «ب» و «د» نادرست و مورد «ج» درست است.
 ۴) موارد «ب»، «ج» و «د» نادرست و مورد «الف» درست است.

آزمون ۷ دی

(نمونه سوالات امتحانی دبستان فرشتگان - چهارم)

۳۸- کدام گزینه نادرست است؟

- ۱) هدف امام حسین (ع) از قیام کربلا، رسیدن به حکومت و شکست دادن یزید بود.
 ۲) یزید می‌خواست دین اسلام را ریشه‌کن کند و آن را نابود سازد.
 ۳) بعد از شهادت امام حسین (ع)، مردم در مقابل یزید ایستادند.
 ۴) حضرت زینب (س)، خواهر امام حسین (ع)، پیام‌رسان کربلا بود.

آزمون ۷ دی

۳۹- خداوند در قرآن کریم می‌فرماید: «خداوند نعمت بزرگی به مؤمنان بخشید.» در کدام گزینه به این نعمت بزرگ اشاره

(نمونه سوالات امتحانی دبستان فدک - نور)

شده است؟

- ۱) «وَ أَنْزَلْنَا مَعَهُمُ الْكِتَابَ وَ الْمِيزَانَ»
 ۲) «أَنْ اَعْبُدُوا اللَّهَ»
 ۳) «أُمَّةٌ يَدْعُونَ إِلَى الْخَيْرِ»
 ۴) «إِذْ بَعَثَ فِيهِمْ رَسُولًا مِنْ أَنْفُسِهِمْ»

آزمون ۷ دی

۴۰- خداوند در قرآن، در پاسخ به کسانی که به قیامت و زنده شدن مردگان شک دارند، چه می فرماید؟

(نمونه سوالات امتحانی دبستان سعادت - خرامه)

(۲) «أَأَنْتُمْ أَشَدُّ خَلْقًا أَمْ السَّمَاءُ بَنَاهَا»

(۱) «وَالْآخِرَةُ خَيْرٌ وَأَبْقَى»

(۴) «لَمْ يَلِدْ وَلَمْ يُولَدْ»

(۳) «فَاكْثِرُوا ذِكْرَ النُّشُورِ»

آزمون ۷ دی

آموزش قرآن ششم دبستان - ۵ سوال -

۳۱- در کدام گزینه، یک یا هر دو واژه‌ی قرآنی نادرست معنا شده است؟

(نمونه سوالات امتحانی دبستان پسرالعلوم - تاکستان)

(۲) آت: برپا داشته است - میزان: ترازو

(۱) يُنْفِقُونَ: انفاق می کنند - قَمَر: ماه

(۴) نِساء: زنان - اِنس: انسان

(۳) بَصِير: شنوا - عِيون: چشمه‌ها

آزمون ۷ دی

۳۲- ترجمه‌ی کدام آیه‌ی شریفه نادرست بیان شده است؟

(نمونه سوالات امتحانی دبستان پسرالعلوم - تاکستان)

(۱) «فِيهَا فَاكِهَةٌ وَ النَّخْلُ ذَاتُ الْاَكْمَامِ»: در زمین، میوه وجود دارد و درختان خرما که شکوفه دارند.

(۲) «إِنَّ اللَّهَ هُوَ الرَّزَّاقُ ذُو الْقُوَّةِ الْمَتِينُ»: خدا به مخلوقاتش روزی می دهد و او قوی و پابرجاست.

(۳) «وَ جَاهِدُوا بِأَمْوَالِهِمْ وَأَنْفُسِهِمْ فِي سَبِيلِ اللَّهِ»: و جهاد نمودند با اموالشان و جان‌هایشان در راه خدا.

(۴) «وَ فِي السَّمَاءِ رِزْقُكُمْ وَ مَا تَوْعَدُونَ»: و روزی شما در زمین است و نیز آنچه وعده داده شده‌اید.

آزمون ۷ دی

۳۳- با توجه به آیه‌ی زیر، هدف از آفرینش گروهی انسان‌ها و ملاک برتری انسان‌ها بر یکدیگر به ترتیب کدام است؟

(نمونه سوالات امتحانی دبستان ره‌آورد - حویق)

«وَ جَعَلْنَاكُمْ شُعُوبًا وَ قَبَائِلَ لِتَعَارَفُوا...»

(۲) شناخت خداوند - دانش و آگاهی

(۱) شناخت یکدیگر - تقوا

(۴) شناخت یکدیگر - دانش و آگاهی

(۳) عبادت خداوند - تقوا

آزمون ۷ دی

۳۴- مفهوم اصلی آیه‌ی زیر در کدام گزینه آمده است؟

(نمونه سوالات امتحانی دبستان ره‌آورد - حویق)

«إِنَّا كُلَّ شَيْءٍ خَلَقْنَاهُ بِقَدَرٍ»

(۲) نظم در آفرینش

(۱) قدرت بی پایان خدا

(۴) ناتوانی انسان‌ها در تسبیح خداوند

(۳) شکر مخلوقات خداوند

آزمون ۷ دی

(نمونه سوالات امتحانی دبستان ره‌آورد - حویق)

«عیب‌جویان از سکوت کس برون آرند عیب / وز لباسش هم برون آرند پنهان در لباس»

(۲) «إِنَّمَا الْمُؤْمِنُونَ إِخْوَةٌ»

(۱) «وَلَا تَنَابَزُوا بِاللِّقَابِ»

(۴) «وَلَا تَجَسَّسُوا»

(۳) «لَا تَلْمِزُوا أَنْفُسَكُمْ»

آزمون ۷ دی