



بر اساس آزمون ۷ دیماه کانون

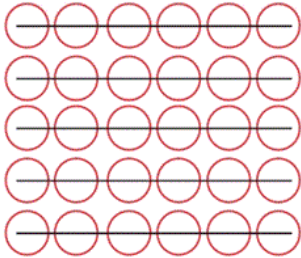
تمرینات دوره ای

سال تحصیلی ۱۴۰۳-۱۴۰۴

پایه سوم ابتدائی

(نمونه سوالات امتحانی دبستان پویندگان رسالت - مشهد)

۱- الگوی مناسب شکل زیر کدام است؟



(۱) ۶ و ۱۲ و ۱۸ و ۲۴ و ۳۰

(۲) ۵ و ۱۰ و ۱۵ و ۲۰ و ۲۵ و ۳۰

(۳) ۴ و ۸ و ۱۲ و ۱۶ و ۲۰ و ۲۴ و ۲۸

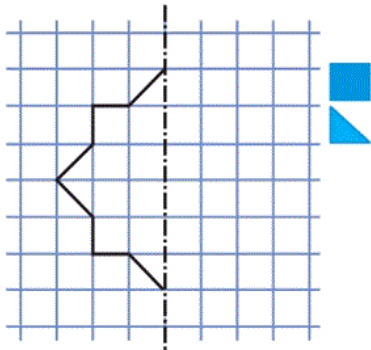
(۴) ۶ و ۱۲ و ۱۸ و ۲۵ و ۳۰

آزمون ۷ دی

۲- اگر خط چین زیر خط تقارن شکل باشد و نیمه‌ی سمت راست آن را رسم کنیم، کل شکل در نهایت از چند

مثلث واحد تشکیل شده است؟

(نمونه سوالات امتحانی دبستان سرآمد - اهواز)



(۱) ۱۰

(۲) ۲۰

(۳) ۳۰

(۴) ۴۰

آزمون ۷ دی

۳- علی با فروختن ۳ عدد سکه، توانست ۳ جفت کفش هر کفش به قیمت ۱۵۰۰ تومان و یک لباس ورزشی به

قیمت ۱۸۰۰ تومان بخرد. قیمت هر سکه چند تومان بوده است؟

(نمونه سوالات امتحانی دبستان روش‌نوین - یزد)

(۲) ۲۴۰۰

(۱) ۲۷۰۰

(۴) ۱۸۰۰

(۳) ۲۱۰۰

آزمون ۷ دی

۴- کدام گزینه نادرست است؟

(نمونه سوالات امتحانی دبستان سرای دانش خرد - پندرلیم)

(۱) ۵۲۰ تومان $<$ ۵۲۵ ریال

(۲) ۳ هزار تایی و ۱۵ صد تایی $>$ ۴۵۰۰

(۳) ۲ کیلومتر و ۳۰ متر $>$ ۲۳۰۰ متر

(۴) ۷۸۲۵ $>$ ۸۷۲۵

آزمون ۷ دی

۵- در کدام گزینه، مقایسه‌ی بین دو کسر به درستی صورت گرفته است؟

(نمونه سوالات امتحانی دبستان پویندگان رسالت - مشهد)

(۲) $\frac{100}{100} < \frac{3}{3}$

(۱) $\frac{3}{12} < \frac{1}{4}$

(۴) $\frac{8}{10} < \frac{8}{12}$

(۳) $\frac{7}{11} < \frac{9}{11}$

آزمون ۷ دی

۶- از عددی ابتدا ۸ واحد کم کرده، سپس ۳۴ واحد به آن اضافه می‌کنیم، حاصل ۱۱۵ می‌شود، آن عدد کدام

(نمونه سوالات امتحانی دبستان محراب - ساوه)

است؟

۱۱۵ (۴)

۸۹ (۳)

۸۱ (۲)

۱۴۹ (۱)

آزمون ۷ دی

۷- در عبارت زیر به جای \square , \bigcirc چه اعدادی باید قرار دهیم؟

(نمونه سوالات امتحانی دبستان فن آوران علم و دانش - اردبیل)

$$4 \times 7 = (\square \times 4) + (\bigcirc \times 3)$$

۳ و ۶ (۴)

۵ و ۲ (۳)

۴ و ۴ (۲)

۳ و ۳ (۱)

آزمون ۷ دی

(نمونه سوالات امتحانی دبستان پویندگان رسالت - مشهد)

۸- حاصل ضرب زیر چقدر است؟

$$2 \times 6 \times 4 = ?$$

۴۸ (۴)

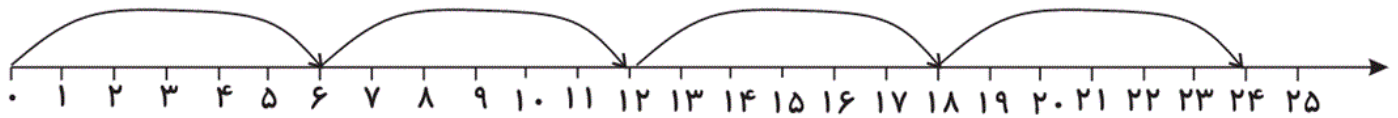
۶۴ (۳)

۳۶ (۲)

۱۶ (۱)

(نمونه سوالات امتحانی دبستان گل یاس - گلگاه)

۹- ضرب مربوط به محور زیر کدام است؟



$4 \times 7 = 18$ (۲)

$6 \times 8 = 24$ (۱)

$4 \times 6 = 24$ (۴)

$4 \times 8 = 24$ (۳)

۱۰- کدام گزینه، حاصل عبارت زیر را به درستی نشان می‌دهد؟

(نمونه سوالات امتحانی دبستان پویندگان رسالت - مشهد)

$(7 \times 5) - (2 \times 3) + (5 + 3) =$

۴۲ (۴)


۳۹ (۳)

۴۴ (۲)

۳۷ (۱)

۱۱- کدام یک از خوراکی‌های زیر مواد نگهدارنده‌ی کم‌تری دارد؟

(نمونه سوالات امتحانی دبستان سرای دانش - ایلام)



(آش رشته خانگی)

(۲)




(پفک)

(۱)



(مربای بسته‌بندی شده در کارخانه)

(۴)



(آبمیوه پاکتی)

(۳)

آزمون ۷ دی

۱۲- معلم سارا در کلاس گفت: اگر درست مصرف نکنیم «برای آشامیدن آب کافی نداریم». هر یک از بچه‌ها

(نمونه سوالات امتحانی دبستان پورچندقی - رفسنجان)

برای این عبارت دلیلی آوردند، کدام دلیل درست است؟

(۱) آب‌ها بسیار دور از ما هستند.

(۲) مقدار زیادی از آب‌های کره‌ی زمین شور است و قابل آشامیدن نیست.

(۳) لوله‌کشی از آب دریا به سمت منازل سخت است.

(۴) در سطح کره‌ی زمین خشکی‌ها فضای بیش‌تری نسبت به دریاها و اقیانوس‌ها گرفته‌اند.

آزمون ۷ دی

۱۳- کدام گزینه به درستی عبارت زیر را تکمیل می کند؟ (نمونه سوالات امتحانی دبستان سرای دانش الغدیر - تهران)

«هرچه فضای بین ذرات خاک»

۱) بیش تر باشد، آب در آن بیش تر نفوذ می کند؛ مثل: خاک رس

۲) بیش تر باشد، آب در آن کم تر نفوذ می کند؛ مثل: ماسه

۳) کم تر باشد، آب در آن کم تر نفوذ می کند؛ مثل: خاک رس

۴) کم تر باشد، آب در آن بیش تر نفوذ می کند؛ مثل: ماسه

آزمون ۷ دی

۱۴- در تصفیه خانه، استفاده از کدام یک زودتر اتفاق می افتد؟

(نمونه سوالات امتحانی دبستان سرای دانش شریعتی - تهران)

۱) توری

۲) لایه های شنی

۳) مواد ضد عفونی کننده

۴) مخزن بزرگ برای ته نشین شدن گل ولای

آزمون ۷ دی

۱۵- کدام یک از موارد زیر، سبب آلوده شدن آب چاه ها نمی شود؟

(نمونه سوالات امتحانی دبستان سرای دانش - پندر ديلم)

۱) استفاده زیاد از چاه ها

۲) نزدیکی چاه فاضلاب به چاه آب

۳) ورود پسماندهای نفتی به آب های زیر زمینی

۴) ورود کودهای شیمیایی به آب چاه

آزمون ۷ دی

۱۶- نور منتشر شده از منبع نور، به چه صورت و در چه جهاتی منتشر می شود؟

(نمونه سوالات امتحانی دبستان پورچندقی - رفسنجان)

۱) مستقیم - در یک جهت

۲) منحنی - در یک جهت


۳) مستقیم - در جهت های مختلف

۴) منحنی - در جهت های مختلف

آزمون ۷ دی

۱۷- در هنگام مطالعه‌ی کتاب، مسیر نوری که باعث دیده شدن کتاب توسط چشم انسان می‌شود، چگونه است؟

(نمونه سوالات امتحانی دبستان سرای دانش - پندرديلم)



آزمون ۷ دی

۱۸- در کدام گزینه، هر دو مورد مطرح شده از نظر عملکرد در یک گروه از انواع آینه‌ها جای می‌گیرند؟

(نمونه سوالات امتحانی دبستان سرای دانش - پندرديلم)

(۱) آینه‌ی دندانپزشکی - سطح بیرونی قاشق

(۲) سطح درونی قاشق - آینه‌ی پیچ جاده‌ها

(۳) آینه‌ی دیواری در خانه - آینه‌ی تزئینی در دیوار اماکن مذهبی

(۴) آینه‌ی دندانپزشکی - آینه در پیچ جاده‌ها

آزمون ۷ دی

۱۹- زهرا و سارا درباره‌ی آینه‌ها، کاربرد آنها و ویژگی‌های تصویر در آنها صحبت می‌کنند، کدام مورد زیر در این

(نمونه سوالات امتحانی دبستان سرای دانش - پندر ديلم)

خصوص صحیح است؟

۱) تصویر در آینه‌ی تخت گاهی هم‌اندازه‌ی جسم است.

۲) در آینه‌های فرورفته، اندازه‌ی تصویر با جسم متفاوت است.

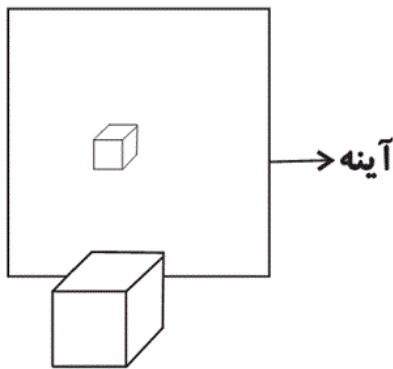
۳) تصویر در آینه‌ی برآمده گاهی هم‌اندازه‌ی جسم است.

۴) در آینه‌ی سر پیچ جاده از آینه‌ی فرورفته استفاده می‌شود.

آزمون ۷ دی

۲۰- با توجه به شکل زیر و ابعاد تصویر و جسم، ویژگی این آینه کدام مورد می‌تواند باشد؟

(نمونه سوالات امتحانی دبستان سرای دانش الغدير - تهران)



۱) اندازه‌ی جسم و تصویر در این آینه برابر است.

۲) این آینه حتماً از نوع فرو رفته است.

۳) از این آینه فقط در خانه استفاده می‌شود.

۴) از این آینه‌ها در آینه‌ی بغل ماشین استفاده می‌شود.

آزمون ۷ دی

۲۱- در کدام گزینه، معنی یک یا هر دو واژه نادرست بیان شده است؟ (نمونه سوالات امتحانی دبستان درخشان - تپیریز)

۱) صمیمی: همدل و مهربان / بیشه: جنگل

۲) قنادی: شیرینی‌فروشی / غرق شدن: غوطه‌ور شدن در آب یا هر چیز دیگر

۳) درو: شخم زدن / فانوس: نوعی چراغ نفت‌سوز

۴) قامت: قد / لطیف: نرم و خوشایند

آزمون ۷ دی

۲۲- کدام بیت نادرست است؟ (نمونه سوالات امتحانی دبستان علوم پزشکی - شیراز)

۱) کاش می‌شد کینه‌ای در ما نبود / با نشاط و پاک و شادان می‌شدیم

۲) لحظه‌ای قایق را، با تعجب نگریست / گفت: پس با من هم، یک نفر هم بازیست

۳) باز او مرا بغل کرد / بوسید صورتم را

۴) باغ در حال قیام، کوه در حال رکوع / آفتاب و ماهتاب، در غروب و در طلوع

آزمون ۷ دی

۲۳- چه تعداد از کلمات زیر، از نظر املايي نادرست هستند؟ (نمونه سوالات امتحانی دبستان ارسطو - تپیریز)

«سنجاقک - عضمت - محلّ مخصوص - سنوبر - آشغال و زباله - ضبط صوت - تشکچه - دحقان - جنگ

تحمیلی - جبرئیل»

دو (۴)

یک (۳)

چهار (۲)

سه (۱)

آزمون ۷ دی

۲۴- رابطه‌ی میان کلمات کدام گزینه با سایر گزینه‌ها متفاوت است؟

(نمونه سوالات امتحانی دبستان پیام هدایت - پم)

۲) پست - بلند

۱) ارزان - گران

۴) ثروتمند - فقیر

۳) لاغر - ضعیف

آزمون ۷ دی

۲۵- در کدام گزینه، کلمه‌ای وجود دارد که مانند «حیوانات» با «ات» جمع بسته می‌شود؟

(نمونه سوالات امتحانی دبستان سما - اردیبهشت)

- (۱) یکی ناسزا گفت در وقت جنگ
(۲) هنر خود بگوید نه صاحب هنر
(۳) قفس‌های مرغ سحرخوان شکست
(۴) در آن لحظه رویش بپوشید و سر

آزمون ۷ دی

۲۶- کلمات کدام گزینه به ترتیب با «خوش» و «کش» قابل ترکیب هستند؟ (نمونه سوالات امتحانی دبستان خرد - اصفهان)

- (۱) قیافه - آدم
(۲) مزه - بار
(۳) گل - خط
(۴) عروس - دود

آزمون ۷ دی

۲۷- در کدام گزینه، واژه‌ای وجود دارد که با سایر واژه‌ها هم خانواده نیست؟

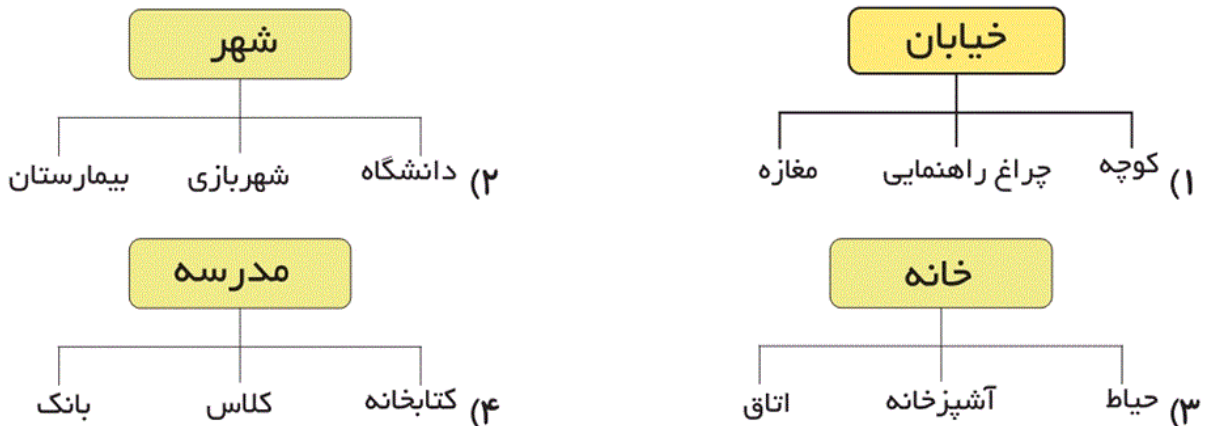
(نمونه سوالات امتحانی دبستان گسترش - تهران)

- (۱) حقیقت - احترام - تحقیق
(۲) حاضر - حضور - احضار
(۳) صورت - تصویر - مصور
(۴) محفظه - حفظ - حافظ

آزمون ۷ دی

(نمونه سوالات امتحانی دبستان سما - اردیبهشت)

۲۸- در کدام جدول نادرستی وجود دارد؟



آزمون ۷ دی

۲۹- مفهوم بیت کدام گزینه با سایر گزینه‌ها متفاوت است؟ (نمونه سوالات امتحانی دبستان جهان تربیت - تبریز)

- (۱) تو نیکی کن چو نیکی می‌توان کرد / که هرگز از نکوکاری زیان کرد
(۲) بخور تا توانی به بازوی خویش / که سعیت بود در ترازوی خویش
(۳) چو نیکی نمایدت کیهان خدای / تو با هر کسی نیز، نیکی نمای (کیهان خدای: خداوند جهان)
(۴) دراز است دست فلک بر بدی / همه نیکویی کن اگر بخردی (بخردی: آگاه و خردمند هستی)

آزمون ۷ دی

۳۰- با توجه به درس «فداکاران»، کدام گزینه نا درست است؟ (نمونه سوالات امتحانی دبستان امام صادق (ع) - اردیبهشت)

۱) نام و یاد افراد فداکار، در ذهن مردم جاودانه می‌ماند.

۲) محمدحسین فهمیده جان خود را فدا کرد تا از پیشروی دشمن به سوی خاک ایران جلوگیری کند.

۳) سهام ختّام دختر سیزده ساله‌ای بود که با شلیک گلوله، دشمن را آزار می‌داد.

۴) حسن امیدزاده در یک واقعه‌ی آتش‌سوزی، جان دانش‌آموزان را نجات داد.

آزمون ۷ دی

۳۱- از میان عبارات زیر، چند عبارت نا درست هستند؟ (نمونه سوالات امتحانی دبستان ذهن پرتو - اهواز)

- الف) نفت، فلزات و جانوران، جزئی از منابع طبیعی هستند.
 ب) در شهرها، زنان با کار در قالی بافی یا کشاورزی، به درآمد خانواده کمک می کنند.
 ج) حصیر بافی، از جمله شغل های تولیدی است.
 د) به پولی که افراد از راه کار کردن به دست می آورند، درآمد می گویند.

- یک (۱) دو (۲)
سه (۳) چهار (۴)

آزمون ۷ دی

۳۲- کدام گزینه نا درست است؟ (نمونه سوالات امتحانی دبستان فن آوران علم و دانش - اردبیل)

- ۱) مقررات، به ما می گوید چه کارهایی را باید انجام بدهیم یا انجام ندهیم.
 ۲) اعضای خانواده به روش های مختلف، محبت خود را به یکدیگر نشان می دهند.
 ۳) درخت خانوادگی نشان می دهد که افراد یک خانواده چند سال دارند.
 ۴) گاهی ممکن است بعضی از اعضای خانواده مدتی دور از خانواده زندگی کنند.

آزمون ۷ دی

۳۳- کدام مورد یا موارد زیر نا درست هستند؟ (نمونه سوالات امتحانی دبستان سرای دانش و خرد - ایلام)

- الف) خانواده با تولد فرزندان به وجود می آید.
 ب) تعداد اعضای خانواده ها با هم تفاوت دارد.
 ج) هرچه تعداد فرزندان بیشتر باشد، تعداد اعضای خانواده هم بیشتر است.

- الف - ب (۱) فقط الف (۲)
فقط ب (۳) ب - ج (۴)

آزمون ۷ دی

۳۴- طبق متن کتاب درسی، درس «منابع»، برای دامپروری به چه چیزهایی نیاز داریم؟

(نمونه سوالات امتحانی دبستان ترنج دانش - مشهد)

- ۱) دارو - گیاهان - آب
 ۲) خاک - گیاهان - هوای مناسب
 ۳) دارو - خاک - گیاهان
 ۴) آب - خاک - گیاهان

آزمون ۷ دی

۳۵- امیر تعدادی دوست دارد. کدام مورد می‌تواند از تفاوت‌های امیر با دوستانش باشد؟

(نمونه سوالات امتحانی دبستان گل‌یاس - گل‌گانه)

(۲) قد و هیکل

(۱) نیاز به محبت و مهربانی

(۴) نیاز به آب و غذا

(۳) دوست داشتن زیبایی‌ها

آزمون ۷ دی

۳۶- برای آیات زیر به ترتیب چه کسانی را می‌توان مثال زد؟ (نمونه سوالات امتحانی دبستان بحر العلوم - تاکستان)

«إِنَّ اللَّهَ يُحِبُّ الَّذِينَ يُقَاتِلُونَ فِي سَبِيلِهِ» - «وَاصْبِرُوا إِنَّ اللَّهَ مَعَ الصَّابِرِينَ»

- (۱) نمرود - حضرت خدیجه (س)
(۲) امام حسین (ع) - نمرود
(۳) امام حسین (ع) - حضرت زینب (س)
(۴) یزید - حضرت سجاد (ع)

آزمون ۷ دی

۳۷- کدام گزینه نادرست است؟ (نمونه سوالات امتحانی دبستان محراب - ساوه)

- (۱) حضرت علی (ع) فرمود: «خداوند کسی را که برای گفت‌وگو با او، خود را آراسته و خوشبو کند، دوست دارد.»
(۲) در هنگام سجده، علاوه بر پیشانی که روی مهر قرار می‌گیرد، کف دو دست، زانوها و شست پاها، باید کاملاً روی زمین قرار گیرند.
(۳) خدای مهربان به بیماران اجازه داده است تا ماه رمضان سال بعد هر زمان که توانستند، روزه بگیرند.
(۴) ثواب عبادت در شب قدر، از سایر شب‌های ماه رمضان بیش‌تر است.

آزمون ۷ دی

۳۸- کدام گزینه نادرست است؟ (نمونه سوالات امتحانی دبستان یلناز - اردبیل)

- (۱) حضرت ابراهیم (ع) مردم بابل را به خداپرستی دعوت می‌کرد.
(۲) حضرت ابراهیم (ع) از نوجوانی تنها خدای یگانه را می‌پرستید.
(۳) حضرت ابراهیم (ع) به فرعون گفت: «اگر تو خدایی، خورشید را از مغرب بالا بیاور.»
(۴) عده‌ای از مردم، پادشاه بابل را خدای خود می‌دانستند.

آزمون ۷ دی

۳۹- کدام گزینه نادرست است؟ (نمونه سوالات امتحانی دبستان سرای دانش - ایلام)

- (۱) به کارهایی که حتماً باید انجام دهیم، واجب می‌گویند.
(۲) دروغ گفتن جزء کارهای حرام است.
(۳) مرجع تقلید، عالم دینی است که دستورات دین را به ما می‌آموزد.
(۴) تمام مسلمانان در سن ۹ سالگی به سن تکلیف می‌رسند.

آزمون ۷ دی

۴۰- طبق درس و سخن پیامبر (ص)، خدا به چه دلیلی او یس را خیلی دوست داشت؟

(نمونه سوالات امتحانی دبستان معین - پناپ)

۱) زیرا او یس همیشه نمازش را اول وقت می خواند.

۲) زیرا او یس به فقرا کمک می کرد.

۳) زیرا او یس مسلمان بود.

۴) زیرا او یس به مادر خود احترام می گذاشت.

آزمون ۷ دی