



با مجوز رسمی از وزارت آموزش و پرورش
و سازمان منطقه آزاد کیش

بر اساس آزمون ۷ دیماه کانون

تمرینات دوره ای

سال تحصیلی ۱۴۰۳-۱۴۰۴

پایه دوم ابتدائی

۱- عددی دو رقمی که رقم‌های آن مثل هم و مجموع رقم‌هایش ۱۴ باشد، کدام است؟

(نمونه سوالات امتحانی دبستان آزادی - اردیبهشت)

۷۸ (۲)

۸۶ (۱)

۸۸ (۴)

۷۷ (۳)

آزمون ۷ دی

۲- لیلا ۷ بادکنک قرمز و ۹ بادکنک زرد خرید، حالا تعداد بادکنک‌های او چقدر است؟

(نمونه سوالات امتحانی دبستان سرای دانش - پندردیلم)

۱۷ (۲)

۱۳ (۱)

۱۶ (۴)

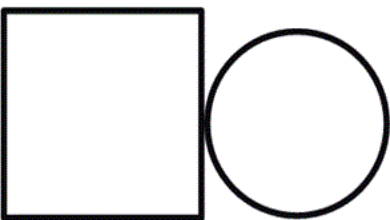
۱۴ (۳)

آزمون ۷ دی

۳- برای رنگ کردن دایره از رنگ‌های سبز و آبی و نارنجی و برای رنگ کردن مربع از رنگ‌های قرمز، آبی و

بنفش استفاده کرده‌ایم. به چند روش می‌توان شکل را رنگ کرد؟

(نمونه سوالات امتحانی دبستان سرای دانش شریعتی - تهران)



۴ روش (۱)

۶ روش (۲)

۹ روش (۳)

۱۰ روش (۴)

آزمون ۷ دی

۴- حاصل عبارت زیر برابر است با:

$$\begin{array}{r} 53 \\ +34 \\ \hline \end{array}$$

(نمونه سوالات امتحانی دبستان محراب - ساوه)

۸۴ (۱)

۸۳ (۲)

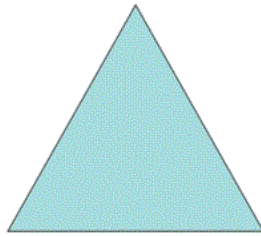

۸۷ (۳)

۷۸ (۴)

آزمون ۷ دی

۵- کدام گزینه جزو شباهت‌های دو تصویر زیر است؟

(نمونه سوالات امتحانی دبستان سرای دانش - میاندوآب)



(۱) تعداد اضلاع آن‌ها با هم برابر است.

(۲) تعداد گوشه‌های آن‌ها با هم برابر است.

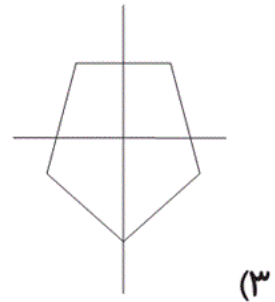
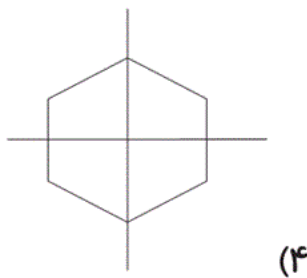
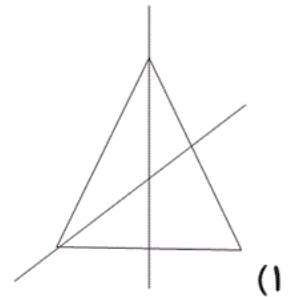
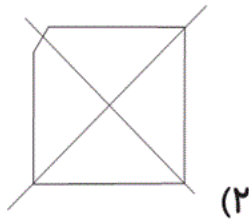
(۳) در هر دو شکل همه‌ی اضلاع آن شکل با هم برابرند.

(۴) تعداد گوشه‌های هر دو از دایره کمتر است.

آزمون ۷ دی

۶- کدام یک از خط‌های زیر، شکل را به ۴ قسمت مساوی تقسیم کرده است؟

(نمونه سوالات امتحانی دبستان سرای دانش - میاندوآب)



آزمون ۷ دی

۷- اگر مهدیه ۷ سکه ۱۰ ریالی به بانک دهد، چند سکه یک ریالی می‌تواند بگیرد؟

(نمونه سوالات امتحانی دبستان آزادی - اردیبهشت)

(۱) ۷۰

(۲) ۷۰۰


(۳) ۷

(۴) ۱۰

آزمون ۷ دی

(نمونه سوالات امتحانی دبستان سرای دانش - میاندوآب)

۸- ارزش سکه‌های زیر برابر است با:



(۱) ۵۳۱ ریال

(۲) ۳۵۱ ریال

(۳) ۱۳۵ ریال

(۴) ۳۱۵ ریال

آزمون ۷ دی

(نمونه سوالات امتحانی دبستان محراب - ساوه)

۹- عدد هفتم الگوی زیر کدام است؟

۲۶۰-۲۸۰-۳۰۰-...

(۱) ۴۴۰

(۲) ۳۲۰

(۳) ۴۰۰

(۴) ۳۸۰

۱۰- مینا در یک مسابقه ۱۰۵ امتیاز به دست آورد و در مراحل بعدی بازی ۵ امتیاز به دست آورد و ۹ امتیاز از دست

(نمونه سوالات امتحانی دبستان مهراب - ساوه)

داد. حالا او چند امتیاز دارد؟

۹۷ (۱)

۱۰۴ (۲)

۱۰۱ (۳)

۱۰۹ (۴)

۱۱- با توجه به درس زنگ علوم، اولین کاری که در گردش علمی انجام می‌شود، کدام است؟

(نمونه سوالات امتحانی دبستان سرای دانش الغدیر - تهران)

۱) نتیجه‌گیری

۲) آزمایش کردن

۳) یادداشت برداری

۴) مشاهده کردن

آزمون ۷ دی

۱۲- در چند شغل از میان شغل‌های زیر معمولاً افراد شب‌ها هم فعالیت می‌کنند؟

(نمونه سوالات امتحانی دبستان سرای دانش - پندردیلم)



«کشاورز»



/ (پزشک)



/ (آتش‌نشان)



/ (آموزگار)

۴ (۴)

۳ (۳)

۲ (۲)

۱ (۱)

آزمون ۷ دی

«طوفان می تواند»

(۱) خسارت های زیادی به ساختمان ها وارد کند.

(۲) در دریاها موج های بسیار بزرگی به وجود آورد.


(۳) سبب غرق شدن کشتی ها شود.

(۴) باعث زلزله شود.

آزمون ۷ دی

۱۴- صدا چگونه ایجاد می شود و بر اساس شکل زیر چگونه می توان صداهای نازک تر را تولید کرد؟

(نمونه سوالات امتحانی دبستان پورچندقی - رفسنجان)



(۱) گرم شدن اجسام - نزدیک کردن مدادها به یکدیگر

(۲) لرزش اجسام - دور کردن مدادها از یکدیگر

(۳) گرم شدن اجسام - دور کردن مدادها از یکدیگر

(۴) لرزش اجسام - نزدیک کردن مدادها به یکدیگر

آزمون ۷ دی

۱) فقط به کمک نور، در ترافیک راه خود را باز می‌کنند و عابر ناشنوا به کمک نور متوجه حضور آموالانس می‌شود.

۲) فقط به کمک صدا در ترافیک راه خود را باز می‌کنند و عابر ناشنوا متوجه حضور آموالانس نمی‌شود.

۳) به کمک نور و صدا راه خود را در ترافیک باز می‌کنند و عابر نابینا به کمک نور متوجه نزدیک شدن آموالانس می‌شود.

۴) به کمک نور و صدا راه خود را در ترافیک باز می‌کنند و عابر نابینا به کمک صدا متوجه نزدیک شدن آموالانس می‌شود.

 آزمون ۷ دی

(نمونه سوالات امتحانی دبستان دانش - اسلام شهر)

۱۶- چه تعداد از موارد زیر صحیح است؟

الف) حشره‌ی شب‌تاب در شب مقداری نور به رنگ‌های سبز و قرمز تولید می‌کند.

ب) نگاه کردن به خورشید به طور مستقیم باعث آسیب دیدن چشم ما می‌شود.

ج) شمع روشن یک چشمه‌ی نور است.

۴) صفر

۳) ۲

۲) ۳

۱) ۱

 آزمون ۷ دی

(نمونه سوالات امتحانی دبستان سرای دانش - یلام)

۱۷- کدام گزینه درباره چشمه نور و دیدن اجسام درست است؟

۱) در طول روز فقط اجسامی که چشمه نور هستند، دیده می‌شوند.

۲) لامپ خاموش، چشمه نور است.

۳) بیش‌تر چیزهایی که می‌بینیم، چشمه‌ی نور نیستند.

۴) چراغ قوه هیچ‌گاه از خودش نور ندارد.

 آزمون ۷ دی


۱۸- کدام گزینه، نمی‌تواند بیان‌کننده مفهوم تصویر زیر باشد؟ (نمونه سوالات امتحانی دبستان سرای دانش - شریعتی)

۱) مصرف سوخت در استفاده از وسایل نقلیه عمومی به جای خودروهای شخصی کمتر است.

۲) آلودگی هوا در استفاده از وسایل نقلیه عمومی به جای خودروهای شخصی کمتر می‌شود.

۳) یک وسیله‌ی نقلیه عمومی تعداد بیشتری از انسان‌ها را نسبت به یک خودرو شخصی جابه‌جا می‌کنند.

۴) دود و صدای یک وسایل نقلیه‌ی عمومی کمتر از یک خودروی شخصی است.



آزمون ۷ دی

(نمونه سوالات امتحانی دبستان پورچندقی - رفسنجان)

۱۹- کدام یک سوخت نیست؟

۲) گاز

۱) نفت

۴) همه‌ی موارد مطرح شده سوخت هستند.

۳) بنزین

آزمون ۷ دی

(نمونه سوالات امتحانی دبستان سرای دانش - ایلام)

۲۰- در کدام گزینه هیچ‌یک از وسایل به سوخت نیاز ندارند؟

۱) قایق بادبانی - دوچرخه - اتومبیل

۲) دوچرخه - قایق پارویی - هواپیما

۳) قطار - اتوبوس - کالسکه

۴) فرغون - قایق پارویی - دوچرخه

آزمون ۷ دی

(نمونه سوالات امتحانی دبستان گل یاس - گلوگاه)

۲۱- معنی چند واژه نادرست بیان شده است؟

«سرآغاز: شروع / یاری: کمک / هم‌فکری: مشورت / پربرکت: پرنعمت / علم: دانش / پاکیزه: زیبا /

تندرست: عزیز / ناگهان: سریع / حاضر: آماده / مزد: پاداش / سخت‌کوش: پرتلاش»

(۱) چهار (۲) سه

(۳) دو (۴) یک

آزمون ۷ دی

۲۲- در کدام گزینه، تعداد کلمات نادرست از نظر املايي بیش‌تر از سایر گزینه‌هاست؟

(نمونه سوالات امتحانی دبستان محراب - ساوه)

(۱) نظم - هوض - چقندر

(۲) عمل کردن - شغال‌ها - نضافت

(۳) تسمیم - زحمت‌کش - چلچراغ

(۴) محبت - بی‌حوسله - معذرت‌خواهی

آزمون ۷ دی

۲۳- در کدام گزینه، هر دو فرد بیان شده از بستگان پدری هستند؟

(نمونه سوالات امتحانی دبستان معین - پناپ)

(۱) دخترعمو - دخترعمه

(۲) پسرخاله - پسرعمو

(۳) پسردایی - شوهرعمه

(۴) زن دایی - دخترخاله

آزمون ۷ دی

۲۴- در کدام گزینه، کلمه‌ای وجود دارد که نشانه‌ی «ی» در پایان آن، صدای «آ» می‌دهد؟

(نمونه سوالات امتحانی دبستان سرای دانش - میاندوآب)

(۱) با صدای جیک جیک گنجشکان از خواب بیدار شدم.

(۲) خنکی هوای صبح را با تمام وجود حس کردم.

(۳) دوستم مرتضی را از دور دیدم.

(۴) برخی از شوق گریه می‌کردند.

آزمون ۷ دی

(نمونه سوالات امتحانی دبستان ترنج دانش - مشهد)

۲۵- شعر کدام گزینه صحیح است؟

(۱) پندت دهم فراوان / با سود و بی‌زیانم

(۲) آن دیگری را، دادم به بابا / دیدم که مانده، یک دانه دیگر

(۳) پروانه از گل، احوال پرسید / گل گفت: خوبم، پروانه رقصید

(۴) پشت شیشه آفتاب مهربان / می‌درخشید از میان آسمان

آزمون ۷ دی

۲۶- نشانه‌ی «ه» در پایان چه تعداد از کلمات زیر، صدای «ه» می‌دهد؟ (نمونه سوالات امتحانی دبستان سرای دانش - میاندوآب)

«دل بسته - خرابه - گناه - ماه - شبانه - سروده - سایه - سپاه»

دو (۴)

چهار (۳)

سه (۲)

پنج (۱)

آزمون ۷ دی

۲۷- جمله‌ی کدام گزینه مانند نمونه‌ی زیر تغییر نکرده است؟ (نمونه سوالات امتحانی دبستان ترنج دانش - مشهد)

«من دعا کردم. ← من دعا می‌کردم.»

(۱) ما درس خواندیم. ← ما درس می‌خواندیم.

(۲) آن‌ها به خانه رفتند. ← آن‌ها به خانه می‌رفتند.

(۳) زهرا نقاشی کشید. ← زهرا نقاشی می‌کشید.

(۴) هوا بارانی شد. ← هوا بارانی خواهد شد.

آزمون ۷ دی

۲۸- با توجه به درس «مسجد محله‌ی ما»، کدام گزینه نادرست است؟ (نمونه سوالات امتحانی دبستان پویندگان - اهر)

(۱) مهدی فکر می‌کرد که مسجد فقط محل نماز خواندن است.

(۲) مهدی با پدر و مادر خود به یک مسجد قدیمی رفته بودند.

(۳) کلاس‌های آموزش قرآن، رایانه، نقاشی و عکاسی نیز در مسجد برگزار می‌شود.

(۴) وقتی برای خواندن نماز به مسجد می‌رویم، از حال یکدیگر باخبر می‌شویم.

آزمون ۷ دی

۲۹- با توجه به درس «دوستان ما»، منظور از کلمه‌ی مشخص شده در عبارت زیر، چه کسی است؟

(نمونه سوالات امتحانی دبستان عصمت - دوگنبدان)

«دیشب که از مهمانی برمی‌گشتیم، کوچه‌مان پُر از زباله بود. صبح که به مدرسه می‌رفتم، همه جای کوچه تمیز

بود و او را از دور دیدم که مشغول تمیز کردن خیابان بود. به طرفش دویدم و از او تشکر کردم.»

(۱) کشاورز

(۲) رفتگر

(۳) باغبان

(۴) مأمور راهنمایی و رانندگی

آزمون ۷ دی

۳۰- با توجه به درس «از همه مهربان‌تر»، کدام گزینه نا درست است؟ (نمونه سوالات امتحانی دبستان نواندیشان - تهران)

(۱) دعا یعنی حرف زدن با خدا.

(۲) خداوند از همه مهربان‌تر است و انسان‌های مهربان را دوست دارد.

(۳) ما در موقع دعا فقط برای خودمان و پدر و مادرمان دعا می‌کنیم.

(۴) همه، پدربزرگ‌ها و مادربزرگ‌های خود را دوست دارند.

آزمون ۷ دی