



بر اساس آزمون ۲۱ دیماه کانون


# تمرینات دوره ای

سال تحصیلی ۱۴۰۳-۱۴۰۴

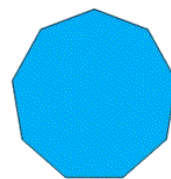
پایه دوم ابتدائی

ریاضی دوم دبستان - طراحی ، **یادآوری شکل های هندسی** - ۱ سوال -


۳- تعداد ضلع کدام تصویر از بقیه کم تر است؟




(۲)



(۱)



(۴)



(۳)

آزمون ۲۱ دی

ریاضی دوم دبستان - طراحی ، **روابط بین شکل ها** - ۱ سوال -

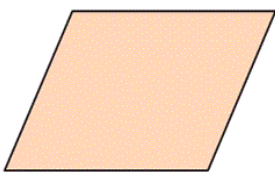
۲- شکل مقابل چند ضلع و چند گوشه دارد؟

(۱) ۴ ضلع و ۳ گوشه دارد.

(۲) ۲ ضلع و ۲ گوشه دارد.

(۳) ۲ ضلع و ۴ گوشه دارد.

(۴) ۴ ضلع و ۴ گوشه دارد.



آزمون ۲۱ دی

ریاضی دوم دبستان - طراحی ، **الگویابی** - ۱ سوال -

۰ , ۳ , ۶ , ۹ , ..... , ...?...

۴- کدام عدد پاسخ صحیح علامت سؤال است؟

(۲) ۱۵

(۱) ۱۲


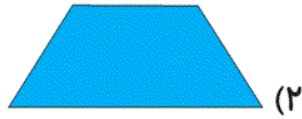
(۴) ۱۶

(۳) ۱۵

آزمون ۲۱ دی

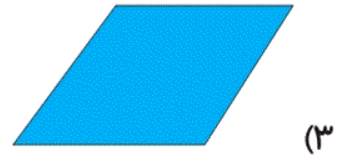

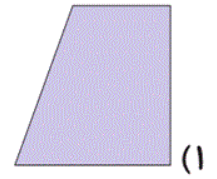
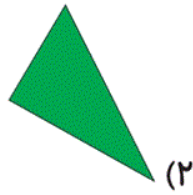
ریاضی دوم دبستان - طراحی ، **تقارن** - ۲ سوال -

۶- کدامیک از شکل‌های زیر، می‌تواند تقارن ۴ قسمتی داشته باشد؟



آزمون ۲۱ دی

۷- کدامیک از شکل‌های زیر متقارن است؟



آزمون ۲۱ دی

ریاضی دوم دبستان - طراحی ، مرور فصل ۱ - سوال -

۵- ساعت هفت و نیم است. سه ساعت و نیم بعد چند ساعت است؟

(۲) دوازده

(۱) ده و نیم



(۴) یازده و نیم

(۳) یازده

آزمون ۲۱ دی

ریاضی دوم دبستان - طراحی ، معرفی پول - سوال ۲ -

۱- سکه‌های زیر مجموعاً چند ریال می‌باشند؟



(۲) ۴۵ ریال

(۱) ۴۴ ریال

(۴) ۵۳ ریال

(۳) ۵۴ ریال

آزمون ۲۱ دی

۱۰- محمد می‌خواهد یک کیک به قیمت ۴۰۰ ریال را فقط با سگه‌های ۲۰ ریالی و یک شیر به قیمت ۱۴۰ ریال را فقط با سگه‌های ۱۰ ریالی بخرد. او برای این خرید به ترتیب از راست به چپ، چند سگه‌ی ۲۰ ریالی برای کیک و چند سگه‌ی ۱۰ ریالی برای شیر نیاز دارد؟

۲۰ و ۱۴ (۲)

۱۴ و ۲۰ (۱)

۸ و ۱۰ (۴)

۳ و ۱۵ (۳)

آزمون ۲۱ دی

ریاضی دوم دبستان - طراحی ، معرفی عدد های سه رقمی - سوال ۱ -

۸- کدام گزینه دارای شرایط زیر نمی‌باشد؟

(الف) رقم دهگان آن بیش‌تر از صدگان باشد.

(ب) بزرگ‌ترین رقم در مرتبه‌ی یکان باشد.

۱۳۵ (۴)

۱۸۹ (۳)

۵۷۸ (۲)

۵۳۷ (۱)

آزمون ۲۱ دی

ریاضی دوم دبستان - طراحی ، حل مسئله - سوال ۱ -

۹- عدد ۲ زیر را ابتدا با حذف رقم یکان عدد اول و سپس با حذف یکان و دهگان عدد دوم از یکدیگر کم می‌کنیم.

عدد دوم عدد اول  
۶۷۴ - ۵۲۳

دهگان پاسخ کدام است؟ (به جای ارقام حذف شده صفر می‌گذاریم).

۳ (۴)

۷ (۳)

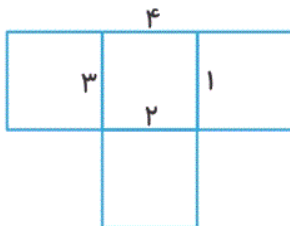
صفر (۲)

۱ (۱)

آزمون ۲۱ دی

ریاضی دوم دبستان - آشنا ، روابط بین شکل ها - سوال ۲ -

۱۱- با حذف کدام ضلع می‌توان فقط سه مربع هم‌اندازه داشت؟



۱ (۲)

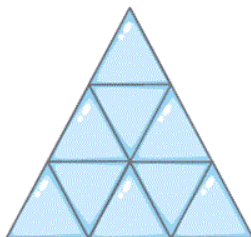
۲ (۱)

۳ (۴)

۴ (۳)

آزمون ۲۱ دی

۱۲- در شکل زیر چند مثلث وجود دارد؟



۹ (۲)

۸ (۱)

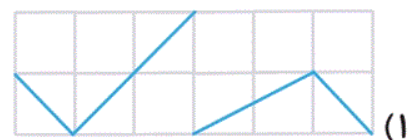
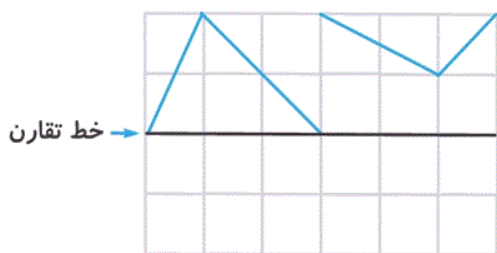
۱۳ (۴)

۱۰ (۳)

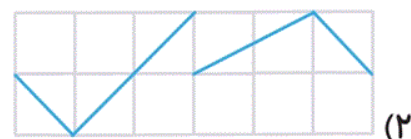
آزمون ۲۱ دی

ریاضی دوم دبستان - آشنا ، تقارن - سوال ۲ -

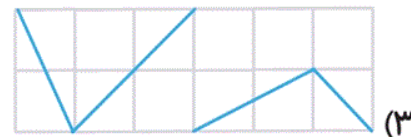
۱۴- با توجه به خط تقارن، نیمه‌ی دیگر شکل زیر، کدام است؟



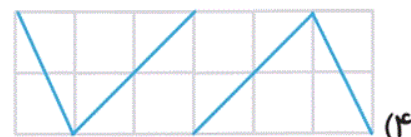
(۱)



(۲)



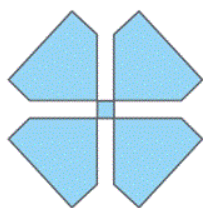
(۳)




(۴)

آزمون ۲۱ دی


۱۵- تعداد خط تقارن کدام شکل با بقیه متفاوت است؟




(۲)



(۱)



(۴)







(۳)

آزمون ۲۱ دی

ریاضی دوم دبستان - آشنا ، مرور فصل - ۲ سوال -


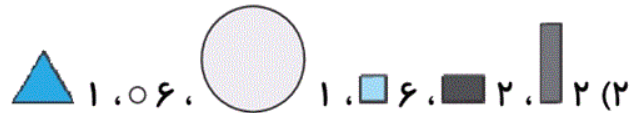
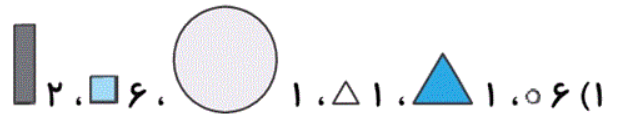

۱۶- الاز نیم‌ساعت قبل از ساعت ۳، امیر یک ربع بعد از ساعت ۷ و ویدا نیم ساعت بعد از ساعت ۹ به خانه رسیدند.

در کدام گزینه، ساعت‌ها، زمان رسیدن این سه نفر را به ترتیب از راست به چپ، به درستی نمایش می‌دهند؟



آزمون ۲۱ دی

۱۳- با توجه به شکل زیر کدام گزینه کامل و صحیح است؟




آزمون ۲۱ دی

۱۷- مقدار پول در کدام گزینه، بیش‌تر از سایر گزینه‌ها است؟



آزمون ۲۱ دی

۱۸- مانند شکل زیر، چند سکه را روی صفحه‌ای قرار دادیم. می‌خواهیم در هر سطر ۲۰ ریال و در هر ستون هم ۲۰



ریال باشد. چند سکه را باید برداریم؟

۲ (۱)

۳ (۲)

۴ (۳)

۵ (۴)

آزمون ۲۱ دی

ریاضی دوم دبستان - آشنا ، معرفی عدد های سه رقمی - ۱ سوال -

۱۹- با توجه به رقم‌های ۵، ۶ و ۲ کدام عدد به ۵۰۰ نزدیکتر است؟

۲۶۵ (۲)

۵۲۶ (۱)

۶۵۲ (۴)

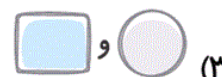
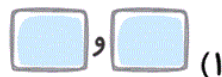
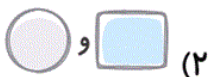
۵۶۲ (۳)

آزمون ۲۱ دی

ریاضی دوم دبستان - آشنا ، حذف حالت نامطلوب - ۱ سوال -

۲۰- اعداد  $380 \leftarrow 374 \rightarrow 370$  و  $680 \leftarrow 687 \rightarrow 690$  به ترتیب از راست به چپ به اعداد داخل ..... و ..... و

نزدیک‌تر هستند.



علوم دوم دبستان - طراحی ، **زندگی ما و گردش زمین** ۳ - ۲ سوال -

**۲۱- طوفان می‌تواند در دریا موج‌های بزرگی به وجود آورد. این اتفاق چه نتیجه‌ای را به دنبال دارد؟**

(۱) مرگ ماهی‌ها

(۲) کاهش آب دریا

(۳) غرق شدن کشتی‌ها

(۴) آلودگی هوا

آزمون ۲۱ دی

**۲۲- مطابق کتاب درسی، تپه‌های ماسه‌ای که در قسمت‌های وسیعی از ایران هستند، توسط کدام یک به وجود آمده‌اند؟**

(۱) بارش باران

(۲) باد

(۳) سیل

(۴) بارش برف

آزمون ۲۱ دی

**۲۳- کدام یک از گزینه‌های زیر از استفاده‌های انسان از باد محسوب نمی‌شود؟**

(۱) قایقرانی

(۲) خشک کردن لباس‌ها

(۳) ایجاد سیل

(۴) تولید برق با توربین‌های بادی

آزمون ۲۱ دی

علوم دوم دبستان - طراحی ، **پیام رمز پیدا کن** ۴ - ۱ سوال -

**۲۴- کدام گزینه نادرست است؟**

(۱) آنبولانس با کمک نور و صدا دیگران را آگاه می‌کند.

(۲) صدای گریه‌ی نوزاد پیام‌رسان می‌باشد.


(۳) صدای گاو از صدای جوجه نازک‌تر است.

(۴) در اثر لرزش اجسام، صدا تولید می‌شود.

آزمون ۲۱ دی



۲۵- کدام گزینه در رابطه با تصویر روبه‌رو **نادرست** است؟



(۱) با لرزیدن مداد صدا تولید می‌شود.

(۲) وقتی مدادها از هم دور تر می‌شوند، صدای کلفت‌تری تولید می‌شود.

(۳) وقتی مدادها به هم نزدیک تر می‌شوند، صدای نازک‌تری تولید می‌شود.

(۴) طول مداد نقشی در نوع صدای تولید شده ندارد.

آزمون ۲۱ دی

۲۶- رنگ سبز چراغ راهنما به معنای ..... و رنگ زرد به معنای ..... است.



(۱) ایست - اجازه عبور

(۲) اجازه‌ی عبور - احتیاط

(۳) احتیاط - ایست

(۴) اجازه‌ی عبور - ایست

آزمون ۲۱ دی

۳۰- در آزمایش فوت کردن در بطری‌های پر و خالی از آب، وقتی بطری خالی است، صدا چگونه خواهد بود؟


(۱) نازک (۲) کلفت

(۳) صدایی تولید نمی‌شود. (۴) کم

آزمون ۲۱ دی

علوم دوم دبستان - طراحی ، **پیام رمز پیدا کن** ۲ - ۲ سوال -

۲۷- حشره‌ی شب‌تاب در تاریکی شب یک ..... به حساب می‌آید.



(۱) چشمه‌ی نور (۲) راهنما

(۳) منبع تولید برق (۴) جانور آزاردهنده

آزمون ۲۱ دی

۲۸- در کدام گزینه، انرژی مناسب جایگزین سوخت‌ها آمده است؟

(۱) نفت (۲) نور و گرمای خورشید

(۳) گاز (۴) بنزین

۲۹- ساخت ماشینی که با سوخت کار نکند، چه نتیجه‌ای به دنبال دارد؟

۱) جلوگیری از تمام شدن سوخت

۲) کاهش ترافیک

۳) کاهش آلودگی هوا

۴) گزینه‌های «۱» و «۳»

فارسی دوم دبستان - طراحی ، **کوشا و نوشا** - ۴ سوال -

۳۳- چه تعداد از کلمات زیر، از نظر املايي **نادرست** هستند؟

«تاقچه - تصمیم - صورت - مأمور راهنمایی و رانندگی - حیزم - اذان مغرب - معذرت خواهی»  
 (۱) یک (۲) دو (۳) سه (۴) چهار

آزمون ۲۱ دی

۳۶- نشانه‌ی «ه» در پایان چه تعداد از کلمات زیر، صدای «ه» می‌دهد؟

«خانه - سایه - بی‌پناه - پنجره - راه - پارچه - ده - شکوفه - سیاه - شبیه»  
 (۱) چهار (۲) پنج (۳) شش (۴) هفت

آزمون ۲۱ دی

۳۸- در کدام گزینه، قسمت مشترک میان کلمات **نادرست** بیان شده است؟

(۱) زودپز - آشپز (پز) (۲) خواستگار - درخواست (خواهش)  
 (۳) کارمند - شب‌کار (کار) (۴) آموزش - آموزگار (آموز)

آزمون ۲۱ دی

۴۰- با توجه به بیت زیر، کدام گزینه **نادرست** است؟

«توانا بود هر که دانا بود / ز دانش دل پیر، برنا بود»  
 (۱) این شعر از سعدی است.  
 (۲) کلمات «پیر» و «برنا» با هم مخالف هستند.  
 (۳) هر کس دانا باشد، توانا هم می‌شود.  
 (۴) برنا به معنی جوان است.

آزمون ۲۱ دی

فارسی دوم دبستان - طراحی ، **دوستان ما** - ۱ سوال -

۳۱- با توجه به درس «دوستان ما»، کدام گزینه درست **نیست**؟

(۱) معلم، دانش‌آموزان را که مانند گل‌های شاداب هستند، پرورش می‌دهد.  
 (۲) بنا خانه‌های راحت و زیبایی را برای ما می‌سازد.  
 (۳) رفتگر زحمتکش، کوچه‌ها و خیابان‌ها را تمیز و پاک می‌کند.  
 (۴) کشاورز، باغ‌های سرسبز و گل‌های خوش‌رنگ را می‌کارد و به آن‌ها آب می‌دهد.

آزمون ۲۱ دی

فارسی دوم دبستان - طراحی ، **بخوان و ببندیش اشک ریزان، چرا اشک ریزان** - ۱ سوال -

۳۲- چه تعداد از کلمات زیر **نادرست** معنا شده‌اند؟

«میان: وسط - موقع: هنگام - سعی: کمک - بانشاط: شاد - ترک کردن: عصبانی شدن - تنور: محل پخت نان - اندک: کم»

(۱) دو (۲) سه (۳) یک (۴) چهار

آزمون ۲۱ دی

۳۴- در کدام گزینه، همه‌ی افراد از بستگان مادری هستند؟

- (۱) دخترعمه - خاله - پسر دایی  
(۲) عمو - پسرعمه - دختر دایی  
(۳) خاله - پسر دایی - دخترعمو  
(۴) دایی - دخترخاله - پسرخاله

آزمون ۲۱ دی

۳۹- در کدام گزینه، صدای پایانی کلمات مانند یکدیگر است؟

- (۱) اخلاقی - حتی  
(۲) سعی - مصطفی  
(۳) همکاری - عیسی  
(۴) مجتبی - هدی

آزمون ۲۱ دی

فارسی دوم دبستان - طراحی ، بخوان حفظ کن ، مثل رنگین کمان - ۱ سوال -

۳۵- بیت کدام گزینه نادرست است؟

- (۱) شاپرک باز آمد و آنجا نشست / بال رنگارنگ خود را باز کرد  
(۲) شاپرک آمد کنار پنجره / روی شیشه، مثل برگی دیده شد  
(۳) آفتاب درخشان چون مادری / بال‌های نازکش را ناز کرد  
(۴) دست بردم تا بگیرم، او پرید / برگی انگار از درختی چیده شد

آزمون ۲۱ دی

فارسی دوم دبستان - طراحی ، زیارت - ۱ سوال -

۳۷- با افزودن «خانه» به انتهای کدام واژه، واژه‌ی جدید و معناداری ساخته می‌شود؟

- (۱) شهر  
(۲) زندگی  
(۳) دارو  
(۴) حوصله

آزمون ۲۱ دی