



بر اساس آزمون ۲۱ دیماه کانون

# تمرینات دوره ای

سال تحصیلی ۱۴۰۳-۱۴۰۴

پایه سوم ابتدائی

ریاضی سوم دبستان - طراحی ، کسر - ۱ سوال -

۳- فلش روی محور چه کسری را نشان می دهد؟



$\frac{4}{5}$  (۴)

$\frac{5}{5}$  (۳)

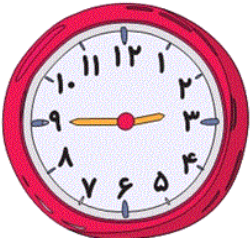
$\frac{3}{5}$  (۲)

$\frac{1}{5}$  (۱)

آزمون ۲۱ دی

ریاضی سوم دبستان - طراحی ، کاربرد کسر در اندازه گیری - ۱ سوال -

۴- ساعت چند است؟



(۲) سه و ربع

(۱) یک ربع مانده به ۲

(۴) یک ربع مانده به ۳

(۳) ۹ و ربع

آزمون ۲۱ دی

ریاضی سوم دبستان - طراحی ، تساوی کسرها - ۳ سوال -

۵- کدام یک از کسرهای زیر با کسر  $\frac{2}{6}$  مساوی نیست؟

$\frac{4}{9}$  (۲)

$\frac{1}{3}$  (۱)

$\frac{4}{12}$  (۴)

$\frac{6}{18}$  (۳)

آزمون ۲۱ دی

$\frac{\square}{8} = \frac{3}{?} = 1$

۱- به جای  $\square$  و ؟ چه عددی قرار دهیم تا تساوی زیر برقرار باشد؟

$\square = 5$  ,  $? = 3$  (۲)

$\square = 3$  ,  $? = 8$  (۱)

$\square = 8$  ,  $? = 3$  (۴)

$\square = 8$  ,  $? = 1$  (۳)

آزمون ۲۱ دی

۲- مادر سارا برای سارا و دوستانش کیک پخته است. او نیمی از کیک را در یخچال می‌گذارد و نیم دیگر را چهار قسمت کرده و به سارا و دوستانش می‌دهد. اگر هر کدام یک قسمت را بردارند، هر نفر آن‌ها چه کسری از کیک را برداشته‌اند؟

$$(۱) \frac{1}{7}$$

$$(۲) \frac{1}{2}$$

$$(۳) \frac{1}{8}$$

$$(۴) \frac{1}{3}$$

آزمون ۲۱ دی

ریاضی سوم دبستان - طراحی ، مقایسه کسرها - ۲ سوال -

۶- فهیمه و فاطمه تصمیم گرفتند با پول‌هایشان برای مادر و پدرشان هدیه بخرند. فهیمه  $\frac{5}{8}$  از پول خود و فاطمه  $\frac{5}{6}$  از پول خود را استفاده کرد. با توجه به این مسئله گزینه‌ی صحیح را انتخاب کنید؟ (پول فهیمه و فاطمه در ابتدا یکسان بوده است).

(۱) فهیمه پول بیش‌تری خرج کرده است.

(۲) هر دو به اندازه‌ی مساوی پول خرج کرده‌اند.

(۳) فاطمه پول بیش‌تری خرج کرده است.

(۴) هیچ‌کدام

آزمون ۲۱ دی

۷- کوچک‌ترین عدد از میان گزینه‌های زیر کدام است؟

$$(۱) ۳ واحد و  $\frac{۹}{۱۸}$$$

$$(۲) ۳ واحد و  $\frac{۳}{۱۸}$$$

$$(۳) ۲ واحد و  $\frac{۲}{۱۸}$$$

$$(۴) ۲ واحد و  $\frac{۴}{۱۸}$$$

آزمون ۲۱ دی

ریاضی سوم دبستان - طراحی ، ضرب - ۱ سوال -

۸- مجموع ۳ برابر عدد ۵ و ۲ برابر عدد ۷ می شود .....

۱۷ (۲)

۲۹ (۱)

۲۸ (۴)

۲۷ (۳)

آزمون ۲۱ دی

ریاضی سوم دبستان - طراحی ، **خاصیت ضرب** - ۲ سوال -

۹- فرهاد ۳ بسته ی ۶ تایی شکلات قهوه ای و ۴ بسته ی ۵ تایی شکلات شیری دارد. او چندتا شکلات دارد؟

۳۷ (۲) شکلات

۳۸ (۱) شکلات

۱۸ (۴) شکلات

۳۰ (۳) شکلات

آزمون ۲۱ دی

$$(۶ \times ۳) + (۶ \times ۲) + (۶ \times ۴) = ?$$

۱۰- حاصل عبارت روبه رو کدام است؟

۵۴ (۲)

۵۶ (۱)

۵۸ (۴)

۵۲ (۳)

آزمون ۲۱ دی

ریاضی سوم دبستان - آشنا ، **حل مسئله : رسم شکل** - ۱ سوال -

۱۱- بنایی می خواهد زمین مستطیل شکلی را بسازد. این بنا زمین را به دو قسمت مساوی تقسیم می کند. نصف زمین را به

سه اندازه ی مساوی تقسیم می کند و در هر کدام یک مغازه می سازد و از مابقی زمین  $\frac{1}{3}$  آن را به حیاط اختصاص

داده و بقیه را خانه می سازد. چه کسری از زمین صرف کردن خانه شده است؟

$\frac{5}{6}$  (۴)

$\frac{2}{3}$  (۳)

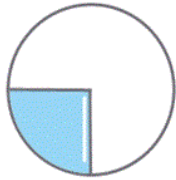
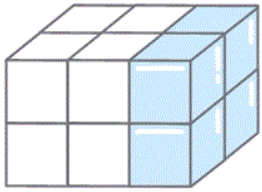
$\frac{2}{6}$  (۲)

$\frac{1}{6}$  (۱)

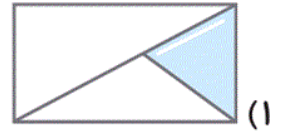
آزمون ۲۱ دی

ریاضی سوم دبستان - آشنا ، **کسر** - ۱ سوال -

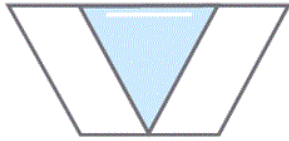
۱۴- کسر مناسب شکل روبه‌رو با کسر نشان‌دهنده‌ی کدام گزینه برابر است؟



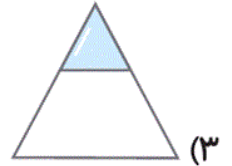
(۲)



(۱)



(۴)



(۳)

آزمون ۲۱ دی

ریاضی سوم دبستان - آشنا، کاربرد کسر در اندازه گیری - ۲ سوال -

۱۲- در تصویر زیر قسمتی از ساعت که بین عقربه‌های بزرگ و کوچک است، تقریباً چه کسری از کل ساعت است؟



(۲)  $\frac{1}{6}$

(۴)  $\frac{1}{5}$

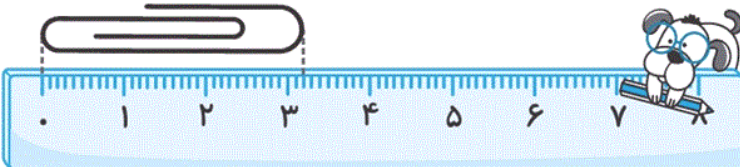
(۱)  $\frac{1}{7}$

(۳)  $\frac{1}{4}$

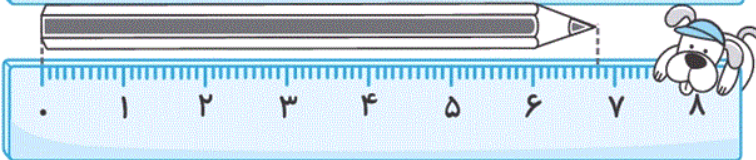
آزمون ۲۱ دی

۱۳- طول گیره‌ی کاغذ ۳ سانتی‌متر و ..... سانتی‌متر و طول مداد ..... سانتی‌متر و  $\frac{8}{10}$  سانتی‌متر است.

شکل «۱» :



شکل «۲» :



(۱)  $6 - \frac{4}{10}$

(۲)  $7 - \frac{2}{10}$

(۳)  $6 - \frac{2}{10}$

(۴)  $7 - \frac{4}{10}$

آزمون ۲۱ دی

ریاضی سوم دبستان - آشنا، مقایسه کسرها - ۲ سوال -

۱۵- سارا و نرگس مقدار پول یکسانی دارند. سارا  $\frac{3}{5}$  پول خود را صدقه می‌دهد. اگر نرگس بخواهد بیش‌تر از سارا

صدقه بدهد، باید چه کسری از پول خود را صدقه بدهد؟

(۴)  $\frac{3}{7}$

(۳)  $\frac{4}{5}$

(۲)  $\frac{3}{6}$

(۱)  $\frac{2}{5}$

آزمون ۲۱ دی

۱۶- آرش ۲ ساعت و  $\frac{۳}{۵}$  ساعت، بهروز ۱ ساعت و  $\frac{۲}{۳}$  ساعت، فرهاد ۲ ساعت و  $\frac{۳}{۴}$  ساعت و وحید ۲ ساعت و  $\frac{۱}{۵}$  ساعت

ساعت در روز جمعه مطالعه کرده‌اند. اگر زمان مطالعه را از بیش‌تر به کم‌تر مرتب کنیم، نفر سوم چه کسی است؟

(۲) بهروز

(۱) وحید

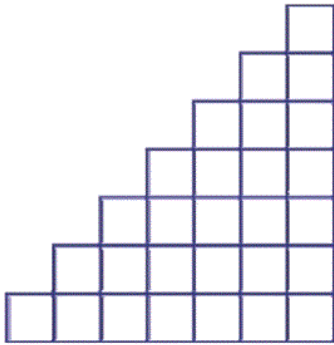
(۴) فرهاد

(۳) آرش

آزمون ۲۱ دی

ریاضی سوم دبستان - آشنا ، حل مسئله : روش های نمادین - ۱ سوال -

۱۷- برای شمارش خانه‌های شکل مقابل از کدام دسته‌بندی نمی‌توان استفاده کرد؟



(۱) ۷ دسته‌ی ۷ تایی

(۲) ۴ دسته‌ی ۷ تایی

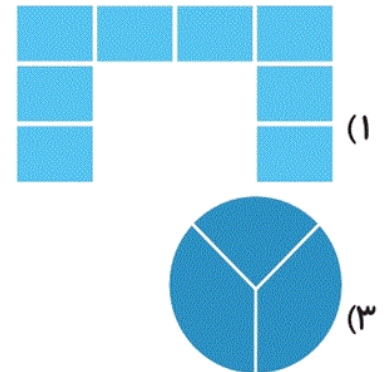
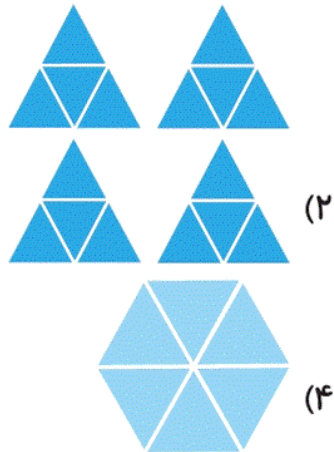
(۳) ۱۴ دسته‌ی ۲ تایی

(۴) ۷ دسته‌ی ۴ تایی

آزمون ۲۱ دی

ریاضی سوم دبستان - آشنا ، ضرب - ۱ سوال -

۱۸- برای کدام‌یک از اشکال زیر حاصل ضرب  $۲ \times \dots = \dots$  را نمی‌توان نوشت؟



آزمون ۲۱ دی

ریاضی سوم دبستان - آشنا ، ضرب عددهای یک رقمی - ۱ سوال -

۱۹- یک ساختمان ۶ طبقه دارد که در هر طبقه‌ی آن ۳ واحد و در هر واحد آن ۲ اتاق وجود دارد. این ساختمان در کل

چند اتاق دارد؟

(۴) ۳۶

(۳) ۱۱

(۲) ۱۸

(۱) ۱۲

آزمون ۲۱ دی

ریاضی سوم دبستان - آشنا ، خاصیت ضرب - ۱ سوال -

۲۰- حسن دیروز ۳ بسته شکلات ۸ تایی خرید. اگر او امروز ۴ بسته شکلات ۸ تایی دیگر بخرد و از هر بسته‌ی شکلات

دیروز و امروزش ۲ شکلات را بخورد، تعداد کل شکلات‌هایش نسبت به خرید دیروز چه تغییری می‌کند؟

(۱) ۱۸ شکلات به شکلات‌هایش اضافه می‌شود.

(۲) ۴۲ شکلات به شکلات‌هایش اضافه می‌شود.

(۳) ۱۶ شکلات از تعداد شکلات‌هایش کم می‌شود.

(۴) ۳۲ شکلات به شکلات‌هایش اضافه می‌شود.

آزمون ۲۱ دی

ریاضی پیشرفته ، کسر - ۲ سوال -

۵۷- شکل زیر چه کسری را نشان می دهد؟



$\frac{1}{12}$  (۲)

$\frac{1}{2}$  (۴)

$\frac{1}{8}$  (۱)

$\frac{1}{3}$  (۳)

آزمون ۲۱ دی

۵۸- کشاورزی می خواهد در زمین خود به طور مساوی پیاز، گوجه، هویج و بادمجان، سیب زمینی و خیار بکارد. چه

کسری از زمینش به هریک از سبزیجات اختصاص دارد؟

$\frac{1}{6}$  (۲)

$\frac{1}{9}$  (۴)

$\frac{1}{5}$  (۱)

$\frac{1}{7}$  (۳)

آزمون ۲۱ دی

ریاضی پیشرفته ، کاربرد کسر در اندازه گیری - ۱ سوال -

۵۲- فائزه برای میهمانان تولدش پیتزا می خرد. اگر قطر این پیتزا ۱۵ سانتی متر از ۶۵ سانتی متر کوچک تر باشد، شعاع

پیتزا چند سانتی متر است؟

۴۰ (۲)

۸۰ (۴)


۲۵ (۱)

۵۰ (۳)

آزمون ۲۱ دی

ریاضی پیشرفته ، تساوی کسرها - ۱ سوال -

۵۱- چند کسر مساوی می توانیم برای شکل زیر بنویسیم؟



(۱) ۱ کسر

(۲) ۴ کسر

(۳) ۳ کسر

(۴) ۲ کسر



۵۹- الهام ۳ واحد و  $\frac{۳}{۵}$  واحد پارچ آب را به گل‌ها داد. الناز ۴ واحد و  $\frac{۱}{۵}$  واحد پارچ آب را به گل‌ها داد. کدام یک آب

بیش‌تری به گل‌ها داده است؟ چرا؟

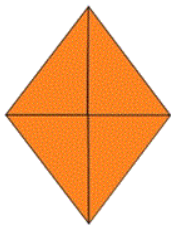
(۱) الهام، چون  $\frac{۳}{۵}$  بیش‌تر از  $\frac{۱}{۵}$  است.

(۲) الناز، چون ۴ واحد بیش‌تر از ۳ واحد است.

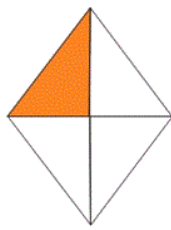
(۳) هر دو به یک اندازه به گل‌ها آب داده‌اند.

(۴) اصلاً نمی‌توانیم مقدار آبیاری آن‌ها را با هم مقایسه کنیم.

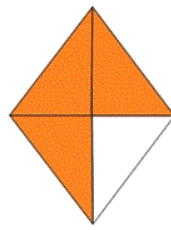
۶۰- در کدام شکل (ربع) آن رنگ شده است؟



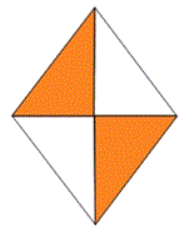
(۴)



(۳)



(۲)



(۱)

ریاضی پیشرفته ، حل مسئله : روش های نمادین - ۱ سوال -

۵۳- حاصل جمع عددی با عدد بعد از ۹۹۹ شد ۱۷۳۰، آن عدد کدام است؟

(۲) ۱۷۳۰

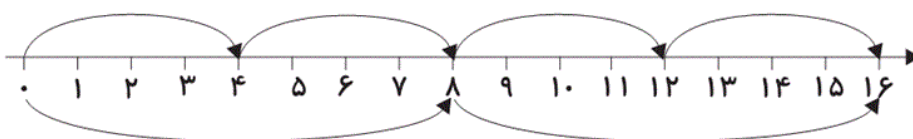
(۱) ۱۰۰۰

(۴) ۱۹۹۹

(۳) ۷۳۰

ریاضی پیشرفته ، ضرب - ۱ سوال -

۵۴- محور زیر با کدام گزینه مطابقت ندارد؟




(۱)  $۸+۸$

(۲)  $۸ \times ۲$

(۳)  $۴ \times ۴$

(۴)  $۲ \times ۸$

۵۵- کدام الگوی شمارش مناسب دسته‌بندی شکل زیر است؟



۱) ۸ ، ۱۶ ، ۲۷

۲) ۷ ، ۱۶ ، ۲۴

۳) ۸ ، ۱۴ ، ۲۴

۴) ۸ ، ۱۶ ، ۲۴

$$۸ \times ۶ = (۲ \times ۶) + (? \times ۶)$$

۵۶- به جای ؟ چه عددی قرار دهیم تا تساوی زیر برقرار شود؟

۲) ۶

۱) ۴

۴) ۵

۳) ۸

علوم سوم دبستان - طراحی ، **زندگی ما و آب** - سوال ۵ -

**۲۱-** برای آبیاری باغ، بهتر است از چه آبی استفاده کنیم؟

(۲) آب چاه

(۱) آب دریا

(۴) آب تصفیه شده

(۳) آب اقیانوس

آزمون ۲۱ دی

**۲۲-** آب پشت سد، از کجا آمده است؟

(۲) لوله کشی خانه ها

(۱) رودها

(۴) تصفیه خانه

(۳) دریا

آزمون ۲۱ دی

**۲۵-** کدام گزینه دلیل حفر چاه یا قنات توسط مردم روستا را به درستی ذکر می کند؟

(۱) مردم برای تخلیه فاضلاب قنات حفر می کنند.

(۲) مردم برای جلوگیری از تشکیل رود از آب باران و برف، چاه یا قنات حفر می کنند.

(۳) مردم برای مصارف خانگی یا کشاورزی با حفر چاه یا قنات از آب های زیرزمینی استفاده می کنند.

(۴) مردم برای تولید نمک از آب های شور زیرزمینی، چاه یا قنات حفر می کنند..

آزمون ۲۱ دی

**۲۷-** آب در کدام یک بیش تر فرو می رود؟

(۲) خاک رس

(۱) سنگ

(۴) ماسه ی نرم

(۳) خاک باغچه

آزمون ۲۱ دی

۳۰- اگر آب‌های زیرزمینی به سطح زمین برسند، کدام یک را ایجاد می‌کنند؟

(۲) دریا

(۱) چشمه

(۴) چاه

(۳) اقیانوس

آزمون ۲۱ دی

علوم سوم دبستان - طراحی، نور و مشاهده ی اجسام - ۵ سوال -

۲۸- کدام یک نور را به صورت منظم بازتاب می‌کند؟

(۲) کتاب

(۱) شیشه

(۴) گزینه‌های «۱» و «۳»

(۳) آینه

آزمون ۲۱ دی

۲۹- در کدام گزینه، همه‌ی موارد ذکر شده منبع نور هستند؟

(۱) شمع روشن - حشره شب تاب - سینی فلزی براق - آتش

(۲) لامپ روشن - ستاره - آینه - چراغ روشن - تلفن همراه

(۳) چراغ روشن - تلفن همراه - ماه - شیشه - سینی فلزی براق

(۴) شمع روشن - آتش - چراغ روشن - تلفن همراه روشن - لامپ روشن

آزمون ۲۱ دی

۲۶- اندازه‌ی تصویر در آینه‌ی تخت نسبت به اندازه‌ی واقعی جسم چگونه است؟

(۲) بزرگ‌تر

(۱) هم‌اندازه

(۴) به اندازه‌ی آینه بستگی دارد.

(۳) کوچک‌تر

آزمون ۲۱ دی

(۱) خورشید

(۲) چراغ قوه روشن

(۳) شیشه

(۴) ستاره‌ها

آزمون ۲۱ دی

۲۴- کدام گزینه دربارهٔ انواع آینه‌ها درست نیست؟

(۱) آینه‌های فرورفته توسط دندان‌پزشکان استفاده می‌شود.

(۲) آینه‌های برآمده، تصویر اجسام را کوچک‌تر از خود جسم نشان می‌دهند.

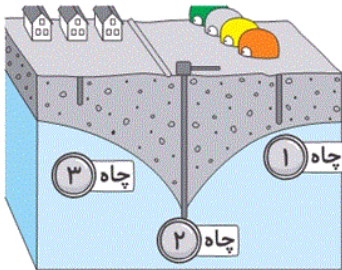
(۳) درون قاشق فلزی، نوعی آینه‌ی تخت است.

(۴) از آینه‌های برآمده در آینه‌ی بغل ماشین‌ها، سرپیچ جاده‌ها و ... استفاده می‌شود.

آزمون ۲۱ دی

علوم پیشرفته ، زندگی ما و آب - ۴ سوال -

۶۱- با توجه به تصویر زیر، بگویید از کدام چاه می‌توان برای تأمین آب استفاده کرد؟



(۱) چاه (۱)

(۲) چاه (۲)

(۳) چاه (۳)

(۴) چاه‌های (۱) و (۳)

آزمون ۲۱ دی

۶۴- در مراحل تصفیه آب، برای جداسازی شاخه و زباله‌های بزرگ از کدام یک استفاده می‌شود؟

(۱) توری

(۲) مواد ضد عفونی کننده

(۳) خاک رس

(۴) گزینه‌های «۱» و «۳»

آزمون ۲۱ دی

۶۶- در کدام گزینه در مصرف آب صرفه‌جویی شده است؟



آزمون ۲۱ دی

۶۷- چه چیزی آب‌های زیرزمینی را آلوده می‌کند؟

(۱) نزدیک بودن چاه فاضلاب خانه به محل آب‌های زیرزمینی

(۲) ورود کودهای شیمیایی به داخل آب از طریق زمین‌های کشاورزی

(۳) تخلیه‌ی فاضلاب‌های صنعتی به درون آب

(۴) همه‌ی موارد

آزمون ۲۱ دی

علوم پیشرفته ، نور و مشاهده ی اجسام - ۶ سوال -

۶۸- آینه‌های زیر، از کدام نوع هستند؟

«سرپیچ جاده‌ها - آینه‌ی حرم امامان - آینه‌ی دندان‌پزشکی»

(۱) برآمده - تخت - فرورفته

(۲) فرورفته - تخت - فرورفته

(۳) برآمده - تخت - برآمده

(۴) برآمده - تخت - تخت

آزمون ۲۱ دی

۶۹- در آینه‌ی برآمده تصویر به صورت ..... و ..... از اندازه جسم دیده می‌شود.

(۱) وارونه - کوچک‌تر

(۲) مستقیم - بزرگ‌تر

(۳) وارونه - بزرگ‌تر

(۴) مستقیم - کوچک‌تر

آزمون ۲۱ دی

۷۰- در کدام گزینه ترتیب آینه‌ها در نمایش تصویر یک جسم از کوچک به بزرگ آمده است؟ (به ترتیب از راست به چپ

- فاصله‌ی جسم تا آینه را نزدیک و یکسان در نظر بگیرید.)

(۱) تخت - فرورفته - برآمده

(۲) برآمده - تخت - فرورفته

(۳) فرورفته - تخت - برآمده

(۴) تخت - برآمده - فرورفته

آزمون ۲۱ دی

۶۵- کدام یک چشمه‌ی نور نیست؟



(۴) همه‌ی موارد چشمه‌ی نور هستند.



آزمون ۲۱ دی



۶۲- کدام گزینه مراحل دیده شدن یک جسم توسط چشم را به ترتیب از راست به چپ به درستی ذکر کرده است؟

۱) تابش نور خورشید به جسم - بازتابش نور از جسم - رسیدن بازتاب نور به چشم انسان

۲) تابش نور از جسم - بازتابش نور از چشم - برخورد نور به جسم

۳) برخورد نور به چشم - بازتابش نور از جسم - تابش نور از خورشید

۴) تابش نور از چشم - برخورد نور به جسم - بازتابش نور از خورشید

آزمون ۲۱ دی

۶۳- نوری که از منبع نور منتشر می شود، به چه صورت و در کدام جهات حرکت می کند؟

۱) به صورت مستقیم و در جهت های مختلف

۲) به صورت مستقیم و در یک جهت

۳) به صورت غیرمستقیم و در یک جهت

۴) به صورت غیرمستقیم و در جهت های مختلف

آزمون ۲۱ دی

فارسی سوم دبستان - طراحی ، **بلدرچین و برزگر** - سوال ۲ -

**۳۴-** صورت مرتب شده‌ی کلمات زیر در کدام گزینه به درستی بیان شده است؟

«مردم - حال - همه‌ی - باخبر - فرمانروا - خیلی - داشت - باشد - دوست - از»

(۱) فرمانروا می‌خواست از حال مردم باخبر باشد.

(۲) مردم دوست داشتند از حال فرمانروا باخبر باشند.

(۳) فرمانروا خیلی دوست داشت از حال همه‌ی مردم باخبر باشد.

(۴) فرمانروا از حال خیلی از مردم باخبر شده بود.

آزمون ۲۱ دی

**۳۵-** جمله‌ی کدام گزینه با توجه به عبارت داخل پرانتز، به درستی تغییر کرده است؟

(۱) علی با دوچرخه به مدرسه می‌رود. (دو روز قبل): دو روز قبل علی با دوچرخه به مدرسه می‌رود.

(۲) حسین داشت قدم می‌زد. (اکنون): اکنون حسین داشت قدم می‌زد.

(۳) زهرا با دوستانش بازی می‌کند. (نیم ساعت قبل): نیم ساعت قبل زهرا با دوستانش بازی می‌کند.

(۴) فاطمه در بیمارستان کار می‌کند. (سه سال قبل): سه سال قبل فاطمه در بیمارستان کار می‌کرد.

آزمون ۲۱ دی

فارسی سوم دبستان - طراحی ، **فداکاران** - سوال ۳ -

**۳۱-** در کدام گزینه، با اضافه کردن «کش» به یک یا هر دو کلمه، ترکیب معناداری ساخته نمی‌شود؟

(۲) بار - مداد

(۱) نقشه - هوا

(۴) نفت - لوله

(۳) خط - میخ

آزمون ۲۱ دی

**۳۸-** در کدام گزینه، کلمه‌ای که به دو یا چند نحوه خوانده می‌شود، وجود ندارد؟

(۲) در خزانه به مهر تو و نشانه‌ی توست

(۱) که بسی گل بدمد باز

(۴) نرم نرمک گویدم باز آمدی

(۳) آسمان کشتی ارباب هنر می‌شکند

آزمون ۲۱ دی

۳۹- کدام گزینه نادرست است؟

- ۱) سهام خیام دوره‌ی دبستان را با موفقیت به پایان رساند.
- ۲) حسن امیدزاده نوجوانی بود که خود را زیر تانک دشمن انداخت.
- ۳) ریزعلی خواجه‌ی جان مسافران قطار را نجات داد.
- ۴) سهام خیام با رگبار گلوله‌ی اشغالگران به شهادت رسید.

آزمون ۲۱ دی

فارسی سوم دبستان - طراحی ، **کارنیک** - ۱ سوال -

۳۲- در کدام گزینه، معنای یک یا چند واژه نادرست بیان شده است؟

- ۱) جوز: گردو - شریف: دارای ارزش و اعتبار
- ۲) خویشان: اقوام - ضعیف: ناتوان
- ۳) پای کوبی: بهانه‌گیری - عاقبت: سرانجام
- ۴) قامت: قد - زمزمه: صدای حرف زدن آهسته

آزمون ۲۱ دی

فارسی سوم دبستان - طراحی ، **پیراهن بهشتی** - ۴ سوال -

۳۳- در کدام گزینه، نادرستی املایی وجود ندارد؟

- ۱) صاحب - انتظار - طلا و نقره
- ۲) معلوم - غبارآلود - تصمیم
- ۳) طناب - لحظه - باسفا
- ۴) دروغ - جنگ تهیمی - غرق

آزمون ۲۱ دی

۴۰- با توجه به درس «پیراهن بهشتی»، کدام گزینه نادرست است؟

- ۱) پیامبر (ص) برای ازدواج حضرت فاطمه (س) با حضرت علی (ع)، یک پیراهن نو به خانه آورد.
- ۲) وقتی جبرئیل، فرشته‌ی بزرگ خدا، به خانه‌ی پیامبر (ص) آمد، خانه بوی بهشت گرفت.
- ۳) حضرت محمد (ص) و حضرت علی (ع) از کار حضرت فاطمه (س) خوش حال شدند.
- ۴) حضرت فاطمه (س) فوری پیراهن قدیمی خود را برداشت و با مهربانی آن را به زن فقیر داد.

آزمون ۲۱ دی

(۱) کاش می‌شد کینه‌ای در ما نبود / با نشاط و پاک و خندان می‌شدیم

(۲) سبزه می‌رویید در هر باغچه / از طراوت‌های جای پایمان

(۳) ابر در حال سفر، آسمان پر از سکوت / بر سر گلدسته‌ها، بال مرغان در قنوت

(۴) باغ در حال قیام، کوه در حال رکوع / آفتاب و ماهتاب، در غروب و در طلوع

آزمون ۲۱ دی

۳۷- در کدام گزینه، کلمه‌ای وجود دارد که با افزودن «خوش» به ابتدای آن، واژه‌ی جدید و معناداری ساخته نمی‌شود؟

(۱) خبر - تیپ

(۲) باور - بخت

(۳) بو - جذاب

(۴) سلیقه - خوراک

آزمون ۲۱ دی

مطالعات اجتماعی سوم دبستان ، چرا با هم همکاری می کنیم - ۱ سوال -

۴۵- در کدام گزینه «همکاری» دیده نمی شود؟

- ۱) مریم برای پختن آش نذری، نخودها را پاک می کند.
- ۲) در اردوی خارج از شهر، امیر و سهراب چادر را برپا می کنند.
- ۳) سارا همه ی کارهای روزنامه دیواری را به تنهایی انجام می دهد.
- ۴) هنگام خانه تکانی، پدر پنجره ها را تمیز می کند و مادر پرده ها را اتو می زند.

آزمون ۲۱ دی

مطالعات اجتماعی سوم دبستان ، مقررات خانه ی ما - ۱ سوال -

۴۲- کدام یک از موارد زیر می تواند از قوانین یک خانه باشد؟

- ۱) در هنگام استراحت اعضای خانواده، با صدای بلند تلویزیون تماشا کنیم.
- ۲) بعد از استفاده از وسایل، آن ها را در جای خود بگذاریم.
- ۳) می توانیم تمام فیلم ها با تمامی رده های سنی را تماشا کنیم.
- ۴) با کفش هایمان در خانه رفت و آمد کنیم.

آزمون ۲۱ دی

مطالعات اجتماعی سوم دبستان ، نیاز های خانواده چگونه تامین می شود - ۲ سوال -

۴۱- کدام گزینه درست است؟

- ۱) به پولی که افراد از راه کار کردن به دست می آورند، پس انداز می گویند.
- ۲) در شهرها، زنان در دوشیدن دام ها، قالی بافی یا کشاورزی کمک می کنند.
- ۳) در روستاها، زنان در اداره، کارخانه، مدرسه یا بیمارستان کار می کنند.
- ۴) اعضای خانواده به غذا، پوشاک و مسکن و وسایل زندگی نیاز دارند.

آزمون ۲۱ دی

۴۴- در کدام گزینه، شغل ها به ترتیب «خدماتی - تولیدی - خدماتی» هستند؟

- ۱) خلبانی - ناوایی - کارمندی بانک
- ۲) کوزه گری - آرایشگری - کشاورزی
- ۳) معلّمی - فروشندگی لباس - کفاشی
- ۴) باغبانی - خیاطی - مکانیکی

آزمون ۲۱ دی

۴۳- چه تعداد از موارد زیر نادرست است؟

الف) آب و خاک، از موارد مورد نیاز در دامپروری و کشاورزی است.

ب) فلزاتی مثل آهن و مس در کارخانه تولید می‌شوند.

ج) کاغذ و میز و نیمکت، از منابع طبیعی هستند.

دو (۴)

صفر (۳)

یک (۲)

سه (۱)

آزمون ۲۱ دی

هدیه‌های آسمان سوم دبستان ، **بانوی قهرمان** - ۱ سوال -

**۴۶-** مفهوم آیه‌ی شریفه‌ی «وَ اصْبِرُوا إِنَّ اللَّهَ مَعَ الصَّابِرِينَ»، ..... است و ..... مادر بزرگ حضرت زینب (س)

می‌باشد.

(۲) نماز خواندن - حضرت فاطمه (س)

(۱) صبور بودن - حضرت خدیجه (س)

(۴) صبور بودن - حضرت فاطمه (س)

(۳) نماز خواندن - حضرت خدیجه (س)

آزمون ۲۱ دی

هدیه‌های آسمان سوم دبستان ، **بوی بهشت** - ۱ سوال -

**۴۸-** آرزوی او ایس چه بود و آیه‌ی «وَقُلْ لَهُمَا قَوْلًا كَرِيمًا» درباره‌ی چیست؟

(۱) رفتن به بهشت - خوب سخن گفتن با پدر و مادر

(۲) رفتن به بهشت - نیکی کردن به بزرگ‌ترها

(۳) دیدن پیامبر (ص) - نیکی کردن به بزرگ‌ترها

(۴) دیدن پیامبر (ص) - خوب سخن گفتن با پدر و مادر

آزمون ۲۱ دی

هدیه‌های آسمان سوم دبستان ، **جشن تکلیف** - ۱ سوال -

**۴۹-** کدام گزینه نادرست است؟

(۱) وقتی سؤالات دینی داریم، باید به مرجع تقلید مراجعه کنیم.

(۲) روزه گرفتن از کارهای واجب است که خداوند دستور داده است.

(۳) تهمت زدن از کارهای حرام است که خداوند دستور به انجام آن داده است.

(۴) سن تکلیف برای دختران نه سال است.

آزمون ۲۱ دی

هدیه‌های آسمان سوم دبستان ، **گفت و گو با خدا** - ۱ سوال -

۵۰- کدام گزینه در مورد نماز صحیح نیست؟

- ۱) ما مسلمانان هر روز پنج نوبت نماز می خوانیم.
- ۲) نماز مغرب نمازی دو رکعتی است.
- ۳) در رکعت آخر نماز، تشهد و سلام می خوانیم.
- ۴) در سجده علاوه بر پیشانی، شش عضو بدن کاملاً روی زمین قرار می گیرند.

آزمون ۲۱ دی

هدیه‌های آسمان سوم دبستان ، ماه میهمانی خدا - ۱ سوال -

۴۷- کدام گزینه نادرست است؟

- ۱) ثواب عبادت در شب قدر، از سایر شب‌های ماه رمضان بیش تر است.
- ۲) در ماه رمضان، خدا بیشتر از ماه‌های دیگر به بندگانش پاداش می دهد.
- ۳) حضرت موسی (ع) در کودکی به چاه انداخته شد.
- ۴) گل لاله نشانه‌ی خون شهیدان است.

آزمون ۲۱ دی